

Код /шифр участника

10-99-06

БЛАНК ЗАДАНИЙ

18 + 40 = 58

муниципального этапа всероссийской олимпиады школьников**по географии**

(предмет)

II ТУР (АНАЛИТИЧЕСКИЙ)**2021/2022 учебный год****10 – 11 класс**Общее время выполнения работы – **180 минут**.На II (аналитический) тур отводится **120 минут**.

Максимально возможное количество баллов, которое Вы можете набрать на аналитическом туре, составляет 80 баллов.

При ответе на задания запрещено пользоваться школьными и прочими атласами, справочными материалами, а также учебниками, мобильными телефонами, карманными компьютерами! Желаем успеха!

Задание 1. «Знатоки-картографы».

Вашему вниманию предоставляется фрагмент топографической карты участка местности (рис. 1). Необходимо его изучить и ответить на ряд вопросов. Результаты своего картографического исследования необходимо оформить в предложенной таблице 1.

Таблица 1

Бланк ответа на задание 1

№	Вопрос	Ответ
1.	Какая максимальная обозначенная абсолютная высота фиксируется на фрагменте топографической карты?	349,2 м 1
2.	Какие гидрографические объекты присутствуют на карте?	1. <u>прудик</u> 2. <u>река</u> 3. <u>колодец</u> 2 4. <u>болото</u> 5. <u>путь</u>
3.	В каком направлении протекает река Сиверка на участке, обозначенном цифрой 1?	с востока на запад 1
4.	Какие объекты социальной инфраструктуры (сферы обслуживания) можно найти в пос. Тугарино?	Больница, школа, МТС 1
5.	Какой элемент антропогенного рельефа обозначен цифрой 2?	Холм 2
6.	Что означает отметка +1,4 у предыдущего объекта?	высота холма 1
7.	Какой объект обозначен цифрой 3?	овраг, ама 1
8.	Через какой высотный промежуток проведены сплошные горизонтالي на карте?	5 м 2

Члены жюри (подписи) _____

№	Вопрос	Ответ
9.	Сможет ли преодолеть вброд реку Сиверка внедорожник, рассчитанный на преодоление водных преград глубиной до 1,5? Объясните, почему Вы так решили.	Сможет, /как как макс. глубина реки сост. 1,2 м 1
10.	К какой природной зоне относится местность, изображенная на представленном фрагменте топографической карты? Почему Вы так считаете? Постарайтесь привести два довода.	Природная зона: <u>тундра</u> Обоснование: Большая высота от уровня моря, малое кол-во растительности, множество крутых склонов и мало равнин 1
11.	Разъедутся ли два транспортных средства, шириной по 3,7 м каждое, на шоссе, обозначенном 8(12)Б? Свой ответ объясните.	Смогут, 8 в ширина дороги 12 м 1

Максимальное количество баллов – 20.

(фактически набранное количество баллов)
1

Члены жюри (подписи) _____

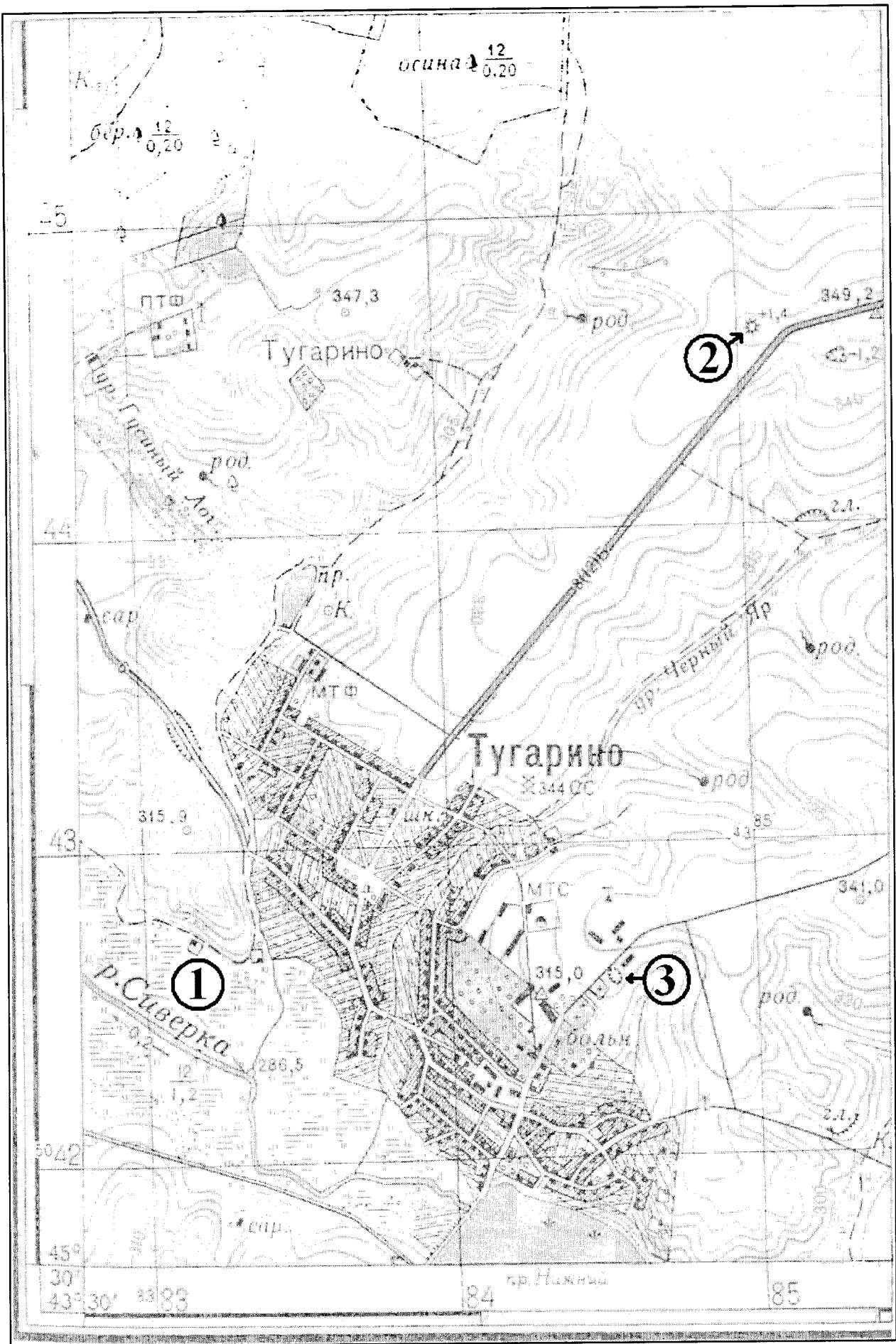



Рис. 1. Фрагмент топографической карты участка местности
Члены жюри (подписи) _____

Задание 2. «Географическая разминка: терминологический батл».

Разгадайте географический кроссворд. Обратите внимание, что задания под одинаковыми номерами могут быть как по вертикали, так и по горизонтали.



(фактически
набранные
количество баллов)

По горизонтали:

2. Стойкая тенденция уменьшения абсолютной численности населения (вырождение населения). Является следствием суженного воспроизводства населения, когда последующее поколение численно меньше предыдущих. 3. Специально построенный комплексный научно-производственный городок, спутник промышленного и научного центра, занимающийся разработкой инновационных технологий, развитием наукоемких производств и подготовкой научных кадров. 6. Мировая религия, названная в честь ее основателя, возникшая в Индии в VI – V вв. до н.э., ныне распространенная главным образом в странах Восточной и Центральной Азии. 8. Исторически сложившаяся, устойчивая общность людей, объединенных языком, территорией, хозяйством, культурой, национальным самосознанием. 9. Район города, в котором проживает дискриминированное национальное меньшинство. 11.

Члены жюри (подписи) _____

Въезд в страну на постоянное или временное длительное проживание граждан другой страны, сопровождающийся получением нового гражданства. 13. Часть территории государства или целое государство, со всех сторон окруженная территориями других государств и не имеющая морского побережья. 14. Группа близко расположенных городских поселений, тесно связанных между собой разнообразными связями: экономическими, трудовыми, культурно-бытовыми и т.д. Имеет, как правило, полицентрическую структуру. Часто используется как синоним городской агломерации. 15. Вид агрессии, проявляющийся в захвате всей территории другого государства или его части, а также насильственное удержание народности в пределах чужого государства. 17. Система мероприятий, направленных на повышение плодородия земель. 18. Политика, направленная на отделение, обособление и ставящая главной целью создание собственного национального государственного образования.

По вертикали:

1. Соотношение между величиной природных ресурсов и размерами их использования. Выражается количеством лет, на которое должно хватить данного ресурса или его запасами на душу населения. 4. Форма правления, при которой во главе государства находится король, королева, князь, царь, султан и др. Власть при этой форме передается по наследству. 5. Истребление целых групп населения по расовым, национальным, этническим или религиозным признакам. 7. Обширное землевладение, которое возникло в Древнем Риме, характерное для феодального периода. Существовали в Пруссии, России, Америке. В настоящее время сохранились в некоторых странах Латинской Америки. 9. Процесс всемирной экономической, политической и культурной интеграции и унификации. 10. Фактически самоуправляющееся государство в составе бывшей Британской империи, признающее своим главой английского короля (королеву). 12. Страна, владеющая своими колониями. 15. Человек, относящийся к коренному населению какой-либо страны или региона. 16. Группы или цепочки островов, расположенные на небольшом расстоянии друг от друга и имеющие одинаковое происхождение.

Максимальное количество баллов – 20.

Задание 3. «По городам и весям России».

В таблице приведены неофициальные (альтернативные) названия российских регионов, сложившиеся исторически. Подумайте, каким регионам (большим их частям) принадлежат эти названия и почему. Результат оформите в виде таблицы (табл. 2).

Таблица 2

№	Неофициальное название	Официальное название региона	Причина такого названия
1.	Кубань. Говорят: «на Кубани».	Краснодарский край	Протекает река Кубань
2.	Поморье		Выход к морю

Члены жюри (подписи) _____

№	Неофициальное название	Официальное название региона	Причина такого названия
3.	Таврида	<i>республика Крым</i>	
4.	Ситцевый край (ситцевое царство), его столица называлась «городом невест».	Название региона: <hr/> <hr/> Название столицы региона: <hr/>	Объяснение названия региона: <i>производ-во ситцевой ткани</i> <hr/> Объяснение названия его столицы:
5.	Северная Пальмира	<i>Ситцев-Северная Ленинградская область</i>	<i>Сходство с Пальмирой</i>

Члены жюри (подписи) _____

№	Неофициальное название	Официальное название региона	Причина такого названия
6.	Янтарный край	Камнишурдская область ↑	Самые крупные залежи янтаря ↑
7.	Югра (является частью официального названия этого региона)	Ханты-Мансийский автономный округ ↑	
8.	Кузбасс	Кемеровская область ↑	Большой угольный бассейн ↑
9.	Прикамье		протекает река Кама ↑

Члены жюри (подписи) _____

№	Неофициальное название	Официальное название региона	Причина такого названия

Максимально возможное количество баллов – 20.

(фактически набранное количество баллов)

Задание 4. «Обычай и традиции стран мира».

Многие страны и народы мира выделяются интересными традициями и обычаями, особенностями этикета, церемониями, праздниками. При визите в эти страны необходимо в какой-то степени уметь ориентироваться в этих традициях. Постарайтесь определить, в каких странах приняты те или иные традиции, обычай или ритуалы. Результат своего исследования оформите в виде предложенной таблицы (табл. 3).

Таблица 3

№	Описание традиции	Традиция и страна, в которой она принята
1.	Жители этих стран 2 февраля собираются около нор сурков и внимательно следят, когда животное выйдет. Согласно поверью, если оно выйдет из норы в пасмурный день, то весна придет рано. А если сурок выйдет в солнечный день, увидит свою тень и снова уйдет в нору, то холодная погода будет еще сохраняться на протяжении шести недель.	1. Название традиции: _____ 2. Страны: 1) <u>США</u> 2) <u>Канада</u>
2.	Хотя плевок считается грубым действием во многих культурах, в этом племени это обычный способ приветствовать и проявлять уважение. Члены племени плюют на руки, прежде чем пожать их, проделывая то же самое с новорожденными детьми и даже невестой, чтобы благословить их и принести им удачу.	Укажите племя: _____ Укажите два государства, где проживает это племя: 1. _____ 2. _____
3.	В период майских и июньских праздников и фестивалей в небольшом городке Кастильо де Мурсия проходит шокирующий ритуал очищения Эль Колачо. Это прыжки через младенцев. Подобный ритуал призван очистить души младенцев и унести с собой все зло и болезни.	Страна: <u>Испания</u>
4.	Когда жители этой страны говорят «да», они отрицательно качают головой, когда говорят «нет», наоборот, кивают ей. Предание гласит, что во времена османского владычества жители страны специально поменяли жесты согласия и отрицания, чтобы обманывать турков. Когда турки требовали отречься от Христа, они приставляли к шее острый кинжал. Отрицательные движение головой приводили к перерезанию горла. Чтобы избежать смерти и не отречься от Христа, и поменяли жесты местами.	Страна: <u>Болгария</u>
5.	Жители этой страны никогда не говорят слово «нет», стараются заменить его другой вежливой фразой или отойти от темы. Не принято отказывать человеку. В этой стране не принято пожимать руки при встрече, вместо этого люди кланяются. В метро есть специальные дежурные, которые буквально запикивают людей в вагоны и утрумбовывают их.	Страна: <u>Индия</u>

Члены жюри (подписи) _____

№	Описание традиции	Традиция и страна, в которой она принята
	Многие улицы не имеют названий, дома указываются описательно или по номеру внутри квартала.	
6.	В этой стране тех, кто до 25 лет не встретил свою вторую половину, ждет интересная участь. Им друзья презентуют длинные гирлянды из носков. Притом из разноцветных. И чем длиннее гирлянда, тем лучше. Подобные украшения могут развесить не только в доме холостяков, но и во дворе. Чтобы все видели, что в этом доме можно познакомиться с будущим мужем или женой. А бывает и так, что гирлянды не дают снимать, пока хозяин или хозяйка не найдут свою пару.	Страна: _____
7.	В одном из городов этой страны (Буньоль) в последнюю неделю августа ежегодно проходит фестиваль Томатина. Этот праздник сопровождается танцами, музыкой, фейерверками и всевозможными угощениями. А главная традиция – бой томатами. Это поистине «томатное безумие», которое продолжается целый час. Тысячи людей из многих стран съезжаются, чтобы принять участие в необычном сражении. Единственным оружием служат томаты.	Страна: <u>Испания</u>
8.	Спиливание зубов. Этот ритуал является одним из самых важных у жителей страны. Все подростки в возрасте 18 лет должны перетерпеть спиливание верхних боковых клыков. Жители свято верят в то, что острые зубы являются символом злых духов. Это делается для того, чтобы лишить человека семи главных «демонических грехов». Это вождление и похоть, надменность и высокомерие, жадность и стяжательство, ярость и злоба, неоправданное плохое настроение, беспричинная ревность, беспробудное пьянство. И если эти клыки не спилить, то человек после смерти не сможет попасть на небеса. Эта священная церемония проходит в храме. Священник самым обычным напильником спиливает верхние боковые клыки. Затем всю зубную пыль в торжественной обстановке закапывают в семейном храме.	Страна: <u>Нигерия</u>
9.	Отсутствие числа 4 в лифтах. На языке этой страны число четыре считается символом несчастий и неудач. Это суеверие возникло из-за того, что слова «четыре» и «смерть» созвучны между собой. Именно поэтому во многих лифтах в стране отсутствует число 4. Вместо него можно встретить альтернативные варианты написания, например: 3+1 или 3 b.	Страна: _____

Максимальное количество баллов – 20.

Максимальное количество баллов за аналитический раунд – 80

(фактически набранное количество баллов)

Члены жюри (подписи) _____

Код /шифр участника

10-11-06

БЛАНК ЗАДАНИЙ**муниципального этапа всероссийской олимпиады школьников****по географии**

(предмет)

I ТУР (ТЕСТОВЫЙ)**2021/2022 учебный год****10 – 11 класс**Общее время выполнения работы – **180 минут**.На выполнение заданий I (тестового) тура отводится **60 минут**. На II (аналитический) тур отводится **120 минут**.

При ответе на задания запрещено пользоваться школьными и прочими атласами, справочными материалами, а также учебниками, мобильными телефонами, карманными компьютерами! Желаем успеха!

Ответьте на поставленные вопросы, выбрав **один** правильный вариант ответа. При ответе на вопросы будьте очень внимательны, так как некоторые вопросы требуют определить неверный вариант или имеют формулировку с отрицанием.**Не забудьте перенести свои ответы в бланк ответов (таблица)!**

1. Укажите вариант ответа, в котором правильно указано направление внутренних межрайонных миграций в России в 20-х годах XXI века:

- ① из Дальневосточного и Сибирского федеральных округов в Центральный и Северо-Западный;
2) из Уральского и Приволжского федеральных округов в Северо-Кавказский и Южный;
3) из Центрального и Северо-Западного федеральных округов в Сибирский и Дальневосточный;
4) из Центрального и Северо-Западного федеральных округов в Северо-Кавказский и Южный.

2. Выберите пару портов, которые расположены на разных морях России:

- 1) Калининград и Санкт-Петербург; 2) Новороссийск и Туапсе;
3) Мурманск и Архангельск; ④ Владивосток и Находка.

3. Выберите вариант ответа, в котором присутствуют только столицы автономных округов России:

- 1) Петрозаводск, Сыктывкар, Элиста; 2) Москва, Санкт-Петербург, Севастополь;
③ Ханты-Мансийск, Нарьян-Мар, Салехард; 4) Екатеринбург, Биробиджан, Владивосток.

4. Укажите сочетание, в котором указаны столицы регионов России, граничащих со странами ЕС (Евросоюз):

- 1) Москва, Тверь, Брянск; ② Псков, Петрозаводск, Мурманск;
3) Владивосток, Анадырь, Благовещенск; 4) Смоленск, Орел, Курск.

5. Выберите вариант ответа, в котором правильно указано соотношение «субъект Российской Федерации – название курорта»:

- 1) Ленинградская обл. – Марциальные Воды;
- 2) Ставропольский край – Кавказские Минеральные Воды;
- 3) Кемеровская обл. – Белокуриха; 4) Респ. Крым – Геленджик.

6. Выберите вариант ответа, в котором указана пара регионов России, самыми первыми встречающих Новый год:

- 1) Магаданская обл., Респ. Якутия; 2) Приморский край, Хабаровский край;
- 3) Камчатский край, Чукотский авт. округ; 4) Амурская обл., Забайкальский край.

7. Укажите правильное соотношение «природный ресурс – вид природных ресурсов»:

- 1) лес – неисчерпаемые; 2) энергия ветра – исчерпаемые возобновимые;
- 3) плодородие почв – исчерпаемые невозобновимые;
- 4) пресная вода – исчерпаемые возобновимые.

8. Выберите вариант, в котором представлены только специализирующиеся на добыче угля регионы России:

- 1) Астраханская обл., Респ. Калмыкия, Респ. Карачаево-Черкессия;
- 2) Пермский край, Свердловская обл., Респ. Татарстан;
- 3) Липецкая обл., Тамбовская обл., Воронежская обл.;
- 4) Респ. Якутия, Кемеровская обл., Красноярский край.

9. Выберите сочетание регионов Центрального федерального округа с наибольшей долей электроэнергии, выработанной на АЭС:

- 1) Белгородская обл., Брянская обл., Владимирская обл.;
- 2) Ивановская обл., Калужская обл., Костромская обл.;
- 3) Курская обл., Смоленская обл., Тверская обл.;
- 4) Ростовская обл., Саратовская обл., Воронежская обл.

10. Какая из групп факторов размещения преобладает в настоящее время при выборе места для строительства завода по производству автомобилей:

- 1) сырьевой и топливный; 2) энергетический и водный;
- 3) потребительский и экологический; 4) географического положения, транспортный.

11. Выберите группу, где указаны физико-географические объекты, на территории которых фиксируется максимальная плотность населения:

- 1) о. Баффинова Земля, Амазонская низм., п-ов Сомали;
- 2) Великая Китайская равнина, плск. Декан, Центральные равнины;
- 3) Северо-Сибирская низм., Алданское нагорье, плато Путорана;
- 4) Аравийский п-ов, Скандинавский п-ов, Фолклендские острова.

12. Выберите правильное сочетание «страна – столица – материк»:

- 1) Бразилия – Бразилиа – Евразия; 2) Египет – Триполи – Африка;
- 3) Мексика – Мехико – Северная Америка; 5) Эфиопия – Аддис-Абеба – Южная Америка.

13. Выберите вариант ответа, в котором правильно указаны государства, территории которых омываются водами соответствующие проливов:

- 1) Гибралтарский пролив – Испания и Марокко; 2) Берингов пролив – США и Китай;
- 3) Баб-эль-Мандебский пролив – Йемен и Кения;
- 4) Мозамбикский пролив – Мадагаскар и Египет.

14. Странами-лидерами по запасам золота являются:

- 1) Мексика, Бразилия, Чили; 2) США, Германия, Италия;
 ③) Бельгия, Нидерланды, Швеция; 4) Турция, Иран, Израиль.

15. Выберите вариант ответа, в котором представлены страны с максимальными запасами нефти:

- ①) Китай, США, Россия; 2) Австралия, Китай, Украина;
 ③) Венесуэла, Саудовская Аравия, Канада; 4) Гвинея, Мали, Камерун.

16. В каком из вариантов ответа представлены страны-лидеры по численности населения в Африке:

- 1) Нигерия, Эфиопия, Египет; 2) Маврикий, Габон, Гвинея Бисау;
 3) Камерун, Ангола, Нигер; ④) ДР Конго, ЮАР, Танзания.

17. На какой паре материков будет наблюдаться наиболее высокая доля городского населения (более 80%):

- ①) Северная Америка и Евразия; 2) Африка и Северная Америка;
 3) Южная Америка и Северная Америка; 4) Южная Америка и Австралия.

18. Самую низкую плотность населения в Европейском Союзе имеет:

- 1) Мальта; 2) Франция; 3) Финляндия; 4) Эстония.

19. Выберите вариант ответа, в котором указаны самые крупные так называемые народы без государства:

- ①) баски, курды, каталонцы; 2) уйгуры, тибетцы, папуасы; ③) бушмены, якуты, эвены;
 4) перуанцы, чилийцы, румыны.

20. Укажите вариант, включающий страны Магриба:

- 1) Ирак, Иран, Турция; 2) Киргизия, Таджикистан, Туркмения; ③) Марокко, Алжир, Тунис;
 4) Литва, Латвия, Эстония.

Максимальное количество баллов – 20.

Бланк ответов

№ задания	Ответ	№ задания	Ответ
1.	1	11.	1
2.	4	12.	3
3.	3	13.	1
4.	2	14.	3
5.	2	15.	3
6.	3	16.	4
7.	4	17.	1
8.	4	18.	4
9.	3	19.	1
10.	3	20.	3

Член жюри: _____
 (подписи)

(фактически
 набранное
 количество баллов)

Код /шифр участника

10-11-04

БЛАНК ЗАДАНИЙ

10 + 34 = 44

муниципального этапа всероссийской олимпиады школьников

по географии

(предмет)

II ТУР (АНАЛИТИЧЕСКИЙ)

2021/2022 учебный год

10 – 11 класс

Общее время выполнения работы – 180 минут.

На II (аналитический) тур отводится 120 минут.

Максимально возможное количество баллов, которое Вы можете набрать на аналитическом туре, составляет 80 баллов.

При ответе на задания запрещено пользоваться школьными и прочими атласами, справочными материалами, а также учебниками, мобильными телефонами, карманными компьютерами! Желаем успеха!

Задание 1. «Знатоки-картографы».

Вашему вниманию предоставляется фрагмент топографической карты участка местности (рис. 1). Необходимо его изучить и ответить на ряд вопросов. Результаты своего картографического исследования необходимо оформить в предложенной таблице 1.

Таблица 1

Бланк ответа на задание 1

№	Вопрос	Ответ
1.	Какая максимальная обозначенная абсолютная высота фиксируется на фрагменте топографической карты?	349,2 1
2.	Какие гидрографические объекты присутствуют на карте?	1. Колодезь 2. родник 3. река 4. ручей 5. ручей
3.	В каком направлении протекает река Сиверка на участке, обозначенном цифрой 1?	с востока на запад
4.	Какие объекты социальной инфраструктуры (сферы обслуживания) можно найти в пос. Тугарино?	Дальница, школа, метеорологическая станция, МТФ, ПТФ
5.	Какой элемент антропогенного рельефа обозначен цифрой 2?	кама
6.	Что означает отметка +1,4 у предыдущего объекта?	повышение высоты (высота кама)
7.	Какой объект обозначен цифрой 3?	карьер
8.	Через какой высотный промежуток проведены сплошные горизонтالي на карте?	5м

Члены жюри (подписи) _____

№	Вопрос	Ответ
9.	Сможет ли преодолеть вброд реку Сиверка внедорожник, рассчитанный на преодоление водных преград глубиной до 1,5? Объясните, почему Вы так решили.	Сможет, т.к. глубина реки 1,2 м, а внедорожник может преодолеть реку глубиной 1,5 м (на 0,3 м больше) ✓
10.	К какой природной зоне относится местность, изображенная на представленном фрагменте топографической карты? Почему Вы так считаете? Постарайтесь привести два довода.	Природная зона: _____ <u>тундра</u> Обоснование: на представленном фрагменте карты сплошные горизонтали почти расходятся друг к другу, что указывает на наличие крутых склонов на данной местности. Также склоны чередуются с более ровными участками, что характерно для тундры.
11.	Разъедутся ли два транспортных средства, шириной по 3,7 м каждое, на шоссе, обозначенном 8(12)Б? Свой ответ объясните.	$3,7 \cdot 2 = 7,4$ (м) ✓ Два транспортных средства смогут разъехаться на этом шоссе, т.к. ширина дороги 8 м, что больше ширины двух тр. ср-в на 0,6 м ✓

Максимальное количество баллов – 20.

(фактически набранное количество баллов)

Члены жюри (подписи) _____

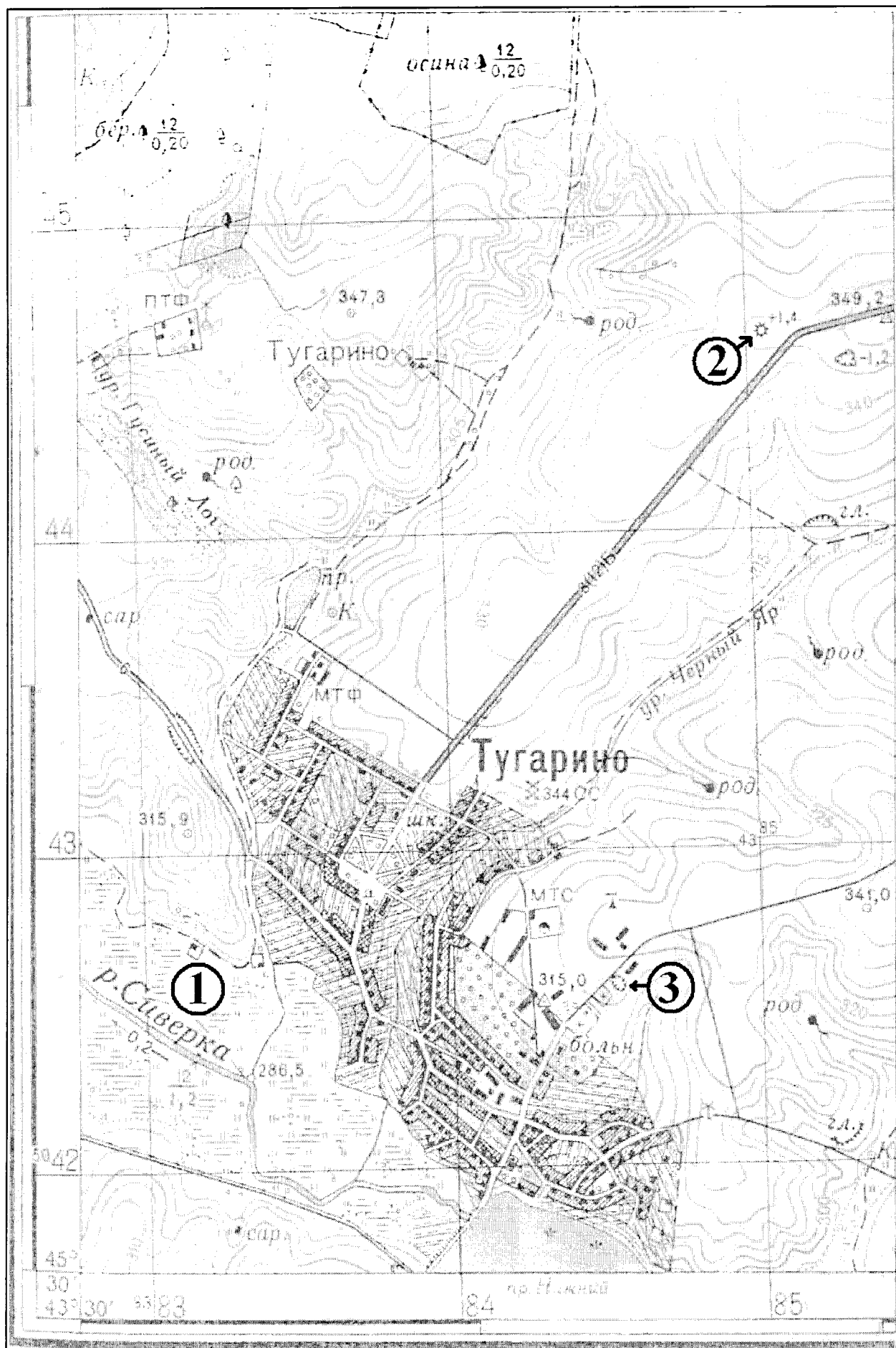



Рис. 1. Фрагмент топографической карты участка местности Члены жюри (подписи)

Задание 2. «Географическая разминка: терминологический батл».

Разгадайте географический кроссворд. Обратите внимание, что задания под одинаковыми номерами могут быть как по вертикали, так и по горизонтали.



(фактически
набранное
количество баллов)

По горизонтали:

2. Стойкая тенденция уменьшения абсолютной численности населения (вырождение населения). Является следствием суженного воспроизводства населения, когда последующее поколение численно меньше предыдущих. 3. Специально построенный комплексный научно-производственный городок, спутник промышленного и научного центра, занимающийся разработкой инновационных технологий, развитием наукоемких производств и подготовкой научных кадров. 6. Мировая религия, названная в честь ее основателя, возникшая в Индии в VI – V вв. до н.э., ныне распространенная главным образом в странах Восточной и Центральной Азии. 8. Исторически сложившаяся, устойчивая общность людей, объединенных языком, территорией, хозяйством, культурой, национальным самосознанием. 9. Район города, в котором проживает дискриминированное национальное меньшинство. 11.

Члены жюри (подписи) _____

Въезд в страну на постоянное или временное длительное проживание граждан другой страны, сопровождающийся получением нового гражданства. 13. Часть территории государства или целое государство, со всех сторон окруженная территориями других государств и не имеющая морского побережья. 14. Группа близко расположенных городских поселений, тесно связанных между собой разнообразными связями: экономическими, трудовыми, культурно-бытовыми и т.д. Имеет, как правило, полицентрическую структуру. Часто используется как синоним городской агломерации. 15. Вид агрессии, проявляющийся в захвате всей территории другого государства или его части, а также насильственное удержание народности в пределах чужого государства. 17. Система мероприятий, направленных на повышение плодородия земель. 18. Политика, направленная на отделение, обособление и ставящая главной целью создание собственного национального государственного образования.

По вертикали:

1. Соотношение между величиной природных ресурсов и размерами их использования. Выражается количеством лет, на которое должно хватить данного ресурса или его запасами на душу населения. 4. Форма правления, при которой во главе государства находится король, королева, князь, царь, султан и др. Власть при этой форме передается по наследству. 5. Истребление целых групп населения по расовым, национальным, этническим или религиозным признакам. 7. Обширное землевладение, которое возникло в Древнем Риме, характерное для феодального периода. Существовали в Пруссии, России, Америке. В настоящее время сохранились в некоторых странах Латинской Америки. 9. Процесс всемирной экономической, политической и культурной интеграции и унификации. 10. Фактически самоуправляющееся государство в составе бывшей Британской империи, признающее своим главой английского короля (королеву). 12. Страна, владеющая своими колониями. 15. Человек, относящийся к коренному населению какой-либо страны или региона. 16. Группы или цепочки островов, расположенные на небольшом расстоянии друг от друга и имеющие одинаковое происхождение.

Максимальное количество баллов – 20.

Задание 3. «По городам и всям России».

В таблице приведены неофициальные (альтернативные) названия российских регионов, сложившиеся исторически. Подумайте, каким регионам (большим их частям) принадлежат эти названия и почему. Результат оформите в виде таблицы (табл. 2).

Таблица 2

№	Неофициальное название	Официальное название региона	Причина такого названия
1.	Кубань. Говорят: «на Кубани».	Краснодарский край 1	
2.	Поморье		

Члены жюри (подписи) _____

№	Неофициальное название	Официальное название региона	Причина такого названия
3.	Таврида		В этом регионе находилась Таврический дворец
4.	Ситцевый край (ситцевое царство), его столица называлась «городом невест».	Название региона: _____ _____ Название столицы региона: _____	Объяснение названия региона: Объяснение названия его столицы:
5.	Северная Пальмира		

Члены жюри (подписи) _____

№	Неофициальное название	Официальное название региона	Причина такого названия
6.	Янтарный край	Калининградская область ↑	В Калининградской области находится более 90% запасов янтаря ↑
7.	Югра (является частью официального названия этого региона)	Ханты-Мансийский автономный округ ↑	
8.	Кузбасс	Кузнецкий бассейн	В данном регионе расположено крупнейшее месторождение угля «Кузнецкий бассейн» ↑
9.	Прикамье		Протекает река Кама ↑

Члены жюри (подписи) _____

№	Неофициальное название	Официальное название региона	Причина такого названия

Максимально возможное количество баллов – 20.

(фактически набранное количество баллов)

Задание 4. «Обычай и традиции стран мира».

Многие страны и народы мира выделяются интересными традициями и обычаями, особенностями этикета, церемониями, праздниками. При визите в эти страны необходимо в какой-то степени уметь ориентироваться в этих традициях. Постарайтесь определить, в каких странах приняты те или иные традиции, обычаи или ритуалы. Результат своего исследования оформите в виде предложенной таблицы (табл. 3).

Таблица 3

№	Описание традиции	Традиция и страна, в которой она принята
1.	Жители этих стран 2 февраля собираются около нор сурков и внимательно следят, когда животное выйдет. Согласно поверью, если оно выйдет из норы в пасмурный день, то весна придет рано. А если сурок выйдет в солнечный день, увидит свою тень и снова уйдет в нору, то холодная погода будет еще сохраняться на протяжении шести недель.	1. Название традиции: _____ 2. Страны: 1) _____ 2) _____
2.	Хотя плевок считается грубым действием во многих культурах, в этом племени это обычный способ приветствовать и проявлять уважение. Члены племени поплюют на руки, прежде чем пожать их, проделывая то же самое с новорожденными детьми и даже невестой, чтобы благословить их и принести им удачу.	Укажите племя: _____ Укажите два государства, где проживает это племя: 1. _____ 2. _____
3.	В период майских и июньских праздников и фестивалей в небольшом городке Кастильо де Мурсия проходит шокирующий ритуал очищения Эль Колачо. Это прыжки через младенцев. Подобный ритуал призван очистить души младенцев и унести с собой все зло и болезни.	Страна: <u>Испания</u>
4.	Когда жители этой страны говорят «да», они отрицательно качают головой, когда говорят «нет», наоборот, кивают ей. Предание гласит, что во времена османского владычества жители страны специально поменяли жесты согласия и отрицания, чтобы обманывать турков. Когда турки требовали отречься от Христа, они приставляли к шее острый кинжал. Отрицательные движение головой приводили к перерезанию горла. Чтобы избежать смерти и не отречься от Христа, и поменяли жесты местами.	Страна: <u>Мальта</u>
5.	Жители этой страны никогда не говорят слово «нет», стараются заменить его другой вежливой фразой или отойти от темы. Не принято отказывать человеку. В этой стране не принято пожимать руки при встрече, вместо этого люди кланяются. В метро есть специальные дежурные, которые буквально запихивают людей в вагоны и утрамбовывают их.	Страна: <u>Япония</u>

Члены жюри (подписи) _____

№	Описание традиции	Традиция и страна, в которой она принята
	Многие улицы не имеют названий, дома указываются описательно или по номеру внутри квартала.	
6.	В этой стране тех, кто до 25 лет не встретил свою вторую половину, ждет интересная участь. Им друзья презентуют длинные гирлянды из носков. Притом из разноцветных. И чем длиннее гирлянда, тем лучше. Подобные украшения могут развесить не только в доме холостяков, но и во дворе. Чтобы все видели, что в этом доме можно познакомиться с будущим мужем или женой. А бывает и так, что гирлянды не дают снимать, пока хозяин или хозяйка не найдут свою пару.	Страна: <u>Эстония</u>
7.	В одном из городов этой страны (Буньоль) в последнюю неделю августа ежегодно проходит фестиваль Томатина. Этот праздник сопровождается танцами, музыкой, фейерверками и всевозможными угощениями. А главная традиция – бой томатами. Это поистине «томатное безумие», которое продолжается целый час. Тысячи людей из многих стран съезжаются, чтобы принять участие в необычном сражении. Единственным оружием служат томаты.	Страна: <u>Испания</u>
8.	Спиливание зубов. Этот ритуал является одним из самых важных у жителей страны. Все подростки в возрасте 18 лет должны перетерпеть спиливание верхних боковых клыков. Жители свято верят в то, что острые зубы являются символом злых духов. Это делается для того, чтобы лишить человека семи главных «демонических грехов». Это вождление и похоть, надменность и высокомерие, жадность и стяжательство, ярость и злоба, неоправданное плохое настроение, беспричинная ревность, беспробудное пьянство. И если эти клыки не спилить, то человек после смерти не сможет попасть на небеса. Эта священная церемония проходит в храме. Священник самым обычным напильником спиливает верхние боковые клыки. Затем всю зубную пыль в торжественной обстановке закапывают в семейном храме.	Страна: <u>Нигерия</u>
9.	Отсутствие числа 4 в лифтах. На языке этой страны число четыре считается символом несчастий и неудач. Это суеверие возникло из-за того, что слова «четыре» и «смерть» созвучны между собой. Именно поэтому во многих лифтах в стране отсутствует число 4. Вместо него можно встретить альтернативные варианты написания, например: 3+1 или 3 b.	Страна: _____

Максимальное количество баллов – 20.

Максимальное количество баллов за аналитический раунд – 80

(фактически
набранное
количество баллов)

Члены жюри (подписи) _____

Код /шифр участника

1⁰ - 11 - 04**БЛАНК ЗАДАНИЙ**

10 +

муниципального этапа всероссийской олимпиады школьников**по географии**

(предмет)

I ТУР (ТЕСТОВЫЙ)**2021/2022 учебный год****10 – 11 класс**Общее время выполнения работы – **180 минут**.На выполнение заданий I (тестового) тура отводится **60 минут**. На II (аналитический) тур отводится **120 минут**.

При ответе на задания запрещено пользоваться школьными и прочими атласами, справочными материалами, а также учебниками, мобильными телефонами, карманными компьютерами! Желаем успеха!

Ответьте на поставленные вопросы, выбрав **один** правильный вариант ответа. При ответе на вопросы будьте очень внимательны, так как некоторые вопросы требуют определить неверный вариант или имеют формулировку с отрицанием.**Не забудьте перенести свои ответы в бланк ответов (таблица)!**

1. Укажите вариант ответа, в котором правильно указано направление внутренних межрайонных миграций в России в 20-х годах XXI века:

- ① из Дальневосточного и Сибирского федеральных округов в Центральный и Северо-Западный;
- 2) из Уральского и Приволжского федеральных округов в Северо-Кавказский и Южный;
- ③ из Центрального и Северо-Западного федеральных округов в Сибирский и Дальневосточный;
- 4) из Центрального и Северо-Западного федеральных округов в Северо-Кавказский и Южный.

2. Выберите пару портов, которые расположены на разных морях России:

- 1) Калининград и Санкт-Петербург; ② Новороссийск и Туапсе;
- 3) Мурманск и Архангельск; 4) Владивосток и Находка.

3. Выберите вариант ответа, в котором присутствуют только столицы автономных округов России:

- 1) Петрозаводск, Сыктывкар, Элиста; 2) Москва, Санкт-Петербург, Севастополь;
- ③ Ханты-Мансийск, Нарьян-Мар, Салехард; 4) Екатеринбург, Биробиджан, Владивосток.

4. Укажите сочетание, в котором указаны столицы регионов России, граничащих со странами ЕС (Евросоюз):

- 1) Москва, Тверь, Брянск; ② Псков, Петрозаводск, Мурманск;
- 3) Владивосток, Анадырь, Благовещенск; 4) Смоленск, Орел, Курск.

5. Выберите вариант ответа, в котором правильно указано соотношение «субъект Российской Федерации – название курорта»:

- 1) Ленинградская обл. – Марциальные Воды;
- 2) Ставропольский край – Кавказские Минеральные Воды;
- 3) Кемеровская обл. – Белокуриха; 4) Респ. Крым – Геленджик.

6. Выберите вариант ответа, в котором указана пара регионов России, самыми первыми встречающих Новый год:

- 1) Магаданская обл., Респ. Якутия; 2) Приморский край, Хабаровский край;
- 3) Камчатский край, Чукотский авт. округ; 4) Амурская обл., Забайкальский край.

7. Укажите правильное соотношение «природный ресурс – вид природных ресурсов»:

- 1) лес – неисчерпаемые; 2) энергия ветра – исчерпаемые возобновимые;
- 3) плодородие почв – исчерпаемые невозобновимые;
- 4) пресная вода – исчерпаемые возобновимые.

8. Выберите вариант, в котором представлены только специализирующиеся на добыче угля регионы России:

- 1) Астраханская обл., Респ. Калмыкия, Респ. Карачаево-Черкессия;
- 2) Пермский край, Свердловская обл., Респ. Татарстан;
- 3) Липецкая обл., Тамбовская обл., Воронежская обл.;
- 4) Респ. Якутия, Кемеровская обл., Красноярский край.

9. Выберите сочетание регионов Центрального федерального округа с наибольшей долей электроэнергии, выработанной на АЭС:

- 1) Белгородская обл., Брянская обл., Владимирская обл.;
- 2) Ивановская обл., Калужская обл., Костромская обл.;
- 3) Курская обл., Смоленская обл., Тверская обл.;
- 4) Ростовская обл., Саратовская обл., Воронежская обл.

10. Какая из групп факторов размещения преобладает в настоящее время при выборе места для строительства завода по производству автомобилей:

- 1) сырьевой и топливный; 2) энергетический и водный;
- 3) потребительский и экологический; 4) географического положения, транспортный.

11. Выберите группу, где указаны физико-географические объекты, на территории которых фиксируется максимальная плотность населения:

- 1) о. Баффинова Земля, Амазонская низм., п-ов Сомали;
- 2) Великая Китайская равнина, плск. Декан, Центральные равнины;
- 3) Северо-Сибирская низм., Алданское нагорье, плато Путорана;
- 4) Аравийский п-ов, Скандинавский п-ов, Фолклендские острова.

12. Выберите правильное сочетание «страна – столица – материк»:

- 1) Бразилия – Бразилиа – Евразия; 2) Египет – Триполи – Африка;
- 3) Мексика – Мехико – Северная Америка; 5) Эфиопия – Аддис-Абеба – Южная Америка.

13. Выберите вариант ответа, в котором правильно указаны государства, территории которых омываются водами соответствующие проливы:

- 1) Гибралтарский пролив – Испания и Марокко; 2) Берингов пролив – США и Китай;
- 3) Баб-эль-Мандебский пролив – Йемен и Кения;
- 4) Мозамбикский пролив – Мадагаскар и Египет.

14. Странами-лидерами по запасам золота являются:

- 1) Мексика, Бразилия, Чили; 2) США, Германия, Италия;
- 3) Бельгия, Нидерланды, Швеция; 4) Турция, Иран, Израиль.

15. Выберите вариант ответа, в котором представлены страны с максимальными запасами нефти:

- 1) Китай, США, Россия; 2) Австралия, Китай, Украина;
- 3) Венесуэла, Саудовская Аравия, Канада; 4) Гвинея, Мали, Камерун.

16. В каком из вариантов ответа представлены страны-лидеры по численности населения в Африке:

- 1) Нигерия, Эфиопия, Египет; 2) Маврикий, Габон, Гвинея Бисау;
- 3) Камерун, Ангола, Нигер; 4) ДР Конго, ЮАР, Танзания.

17. На какой паре материков будет наблюдаться наиболее высокая доля городского населения (более 80%):

- 1) Северная Америка и Евразия; 2) Африка и Северная Америка;
- 3) Южная Америка и Северная Америка; 4) Южная Америка и Австралия.

18. Самую низкую плотность населения в Европейском Союзе имеет:

- 1) Мальта; 2) Франция; 3) Финляндия; 4) Эстония.

19. Выберите вариант ответа, в котором указаны самые крупные так называемые народы без государства:

- 1) баски, курды, каталонцы; 2) уйгуры, тибетцы, папуасы; 3) бушмены, якуты, эвены;
- 4) перуанцы, чилийцы, румыны.

20. Укажите вариант, включающий страны Магриба:

- 1) Ирак, Иран, Турция; 2) Киргизия, Таджикистан, Туркмения; 3) Марокко, Алжир, Тунис;
- 4) Литва, Латвия, Эстония.

Максимальное количество баллов – 20.

Бланк ответов

№ задания	Ответ	№ задания	Ответ
1.	1 +	11.	4 -
2.	2 -	12.	2 -
3.	3 +	13.	1 -
4.	2 +	14.	4 -
5.	4 -	15.	1 -
6.	3 +	16.	1 -
7.	3 -	17.	1 -
8.	4 +	18.	3 -
9.	3 +	19.	2 -
10.	3 -	20.	3 -

Член жюри : _____
(подписи)

(фактически набранное количество баллов)

Код / шифр участника

10-11-02

БЛАНК ЗАДАНИЙ**муниципального этапа всероссийской олимпиады школьников**по географии

(предмет)

II ТУР (АНАЛИТИЧЕСКИЙ)**2021/2022 учебный год****10 – 11 класс**Общее время выполнения работы – **180 минут**.На II (аналитический) тур отводится **120 минут**.

Максимально возможное количество баллов, которое Вы можете набрать на аналитическом туре, составляет 80 баллов.

При ответе на задания запрещено пользоваться школьными и прочими атласами, справочными материалами, а также учебниками, мобильными телефонами, карманными компьютерами! Желаем успеха!

Задание 1. «Знатоки-картографы».

Вашему вниманию предоставляется фрагмент топографической карты участка местности (рис. 1). Необходимо его изучить и ответить на ряд вопросов. Результаты своего картографического исследования необходимо оформить в предложенной таблице 1.

Таблица 1

Бланк ответа на задание 1

№	Вопрос	Ответ
1.	Какая максимальная обозначенная абсолютная высота фиксируется на фрагменте топографической карты?	349,2 1
2.	Какие гидрографические объекты присутствуют на карте?	1. МТС 2. МТР 3. ПТСР 0 4. балка 5. шала
3.	В каком направлении протекает река Сиверка на участке, обозначенном цифрой 1?	северо-западном 1
4.	Какие объекты социальной инфраструктуры (сферы обслуживания) можно найти в пос. Тугарино?	школа, балка 1
5.	Какой элемент антропогенного рельефа обозначен цифрой 2?	карьер 0
6.	Что означает отметка +1,4 у предыдущего объекта?	высота камня 1
7.	Какой объект обозначен цифрой 3?	карьер 0
8.	Через какой высотный промежуток проведены сплошные горизонтالي на карте?	5м 2

Члены жюри (подписи) _____

№	Вопрос	Ответ
9.	Сможет ли преодолеть вброд реку Сиверка внедорожник, рассчитанный на преодоление водных преград глубиной до 1,5? Объясните, почему Вы так решили.	Сможет, т.к. глубина реки 1,2 м. 2
10.	К какой природной зоне относится местность, изображенная на представленном фрагменте топографической карты? Почему Вы так считаете? Постарайтесь привести два довода.	Природная зона: <u>лесостепь</u> Обоснование:
11.	Разъедутся ли два транспортных средства, шириной по 3,7 м каждое, на шоссе, обозначенном 8(12)Б? Свой ответ объясните.	Смогут, т.к. их ширина вместе меньше, чем ширина шоссе 4

Максимальное количество баллов – 20.

(фактически набранное количество баллов)

Члены жюри (подписи) _____

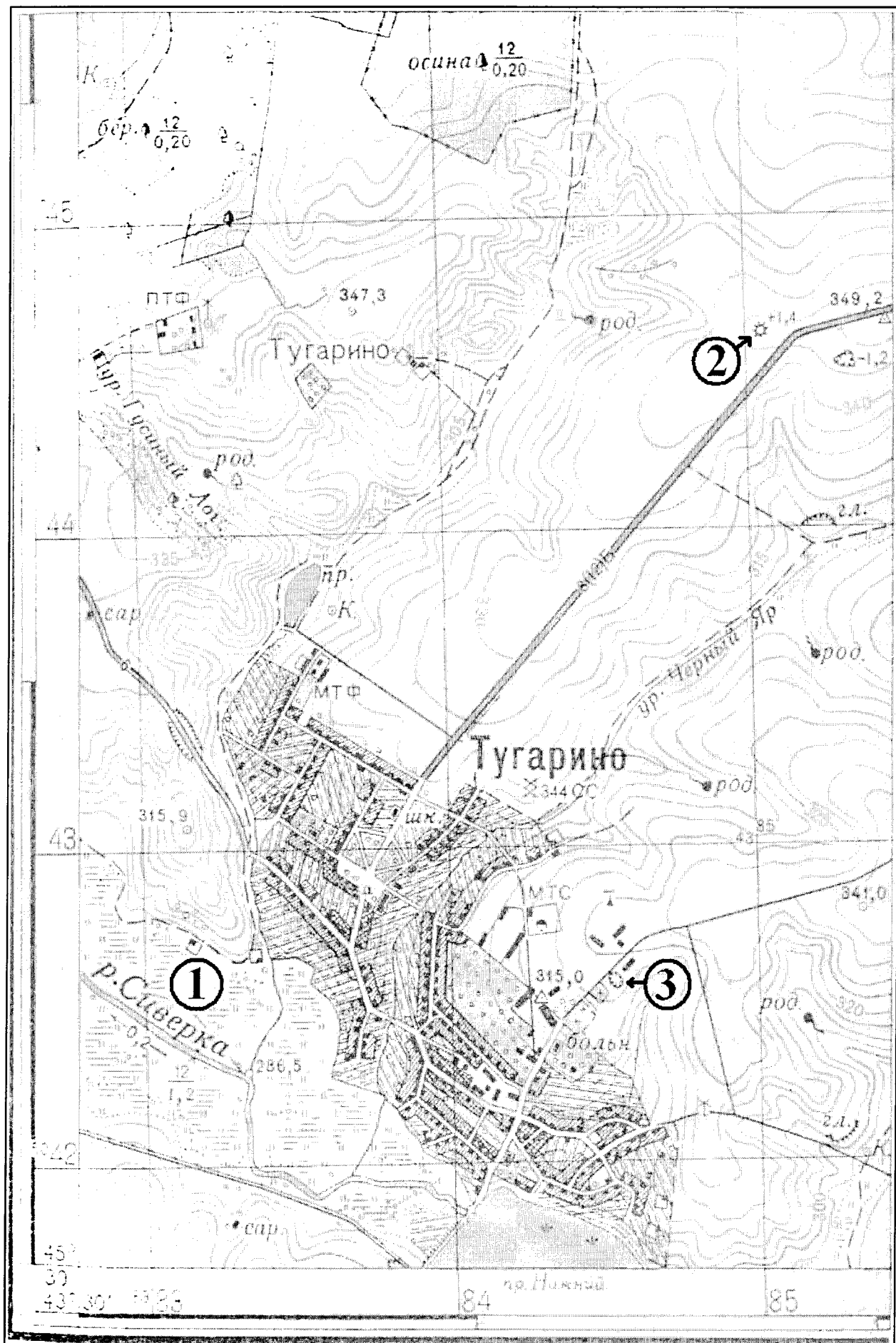



Рис. 1. Фрагмент топографической карты участка местности
Члены жюри (подписи) _____

Задание 2. «Географическая разминка: терминологический батл».

Разгадайте географический кроссворд. Обратите внимание, что задания под одинаковыми номерами могут быть как по вертикали, так и по горизонтали.



(фактически
набранные
количество баллов)

По горизонтали:

2. Стойкая тенденция уменьшения абсолютной численности населения (вырождение населения). Является следствием суженного воспроизводства населения, когда последующее поколение численно меньше предыдущих. 3. Специально построенный комплексный научно-производственный городок, спутник промышленного и научного центра, занимающийся разработкой инновационных технологий, развитием наукоемких производств и подготовкой научных кадров. 6. Мировая религия, названная в честь ее основателя, возникшая в Индии в VI – V вв. до н.э., ныне распространенная главным образом в странах Восточной и Центральной Азии. 8. Исторически сложившаяся, устойчивая общность людей, объединенных языком, территорией, хозяйством, культурой, национальным самосознанием. 9. Район города, в котором проживает дискриминированное национальное меньшинство. 11.

Члены жюри (подписи) _____

Въезд в страну на постоянное или временное длительное проживание граждан другой страны, сопровождающийся получением нового гражданства. 13. Часть территории государства или целое государство, со всех сторон окруженная территориями других государств и не имеющая морского побережья. 14. Группа близко расположенных городских поселений, тесно связанных между собой разнообразными связями: экономическими, трудовыми, культурно-бытовыми и т.д. Имеет, как правило, полицентрическую структуру. Часто используется как синоним городской агломерации. 15. Вид агрессии, проявляющийся в захвате всей территории другого государства или его части, а также насильственное удержание народности в пределах чужого государства. 17. Система мероприятий, направленных на повышение плодородия земель. 18. Политика, направленная на отделение, обособление и ставящая главной целью создание собственного национального государственного образования.

По вертикали:

1. Соотношение между величиной природных ресурсов и размерами их использования. Выражается количеством лет, на которое должно хватить данного ресурса или его запасами на душу населения. 4. Форма правления, при которой во главе государства находится король, королева, князь, царь, султан и др. Власть при этой форме передается по наследству. 5. Истребление целых групп населения по расовым, национальным, этническим или религиозным признакам. 7. Обширное землевладение, которое возникло в Древнем Риме, характерное для феодального периода. Существовали в Пруссии, России, Америке. В настоящее время сохранились в некоторых странах Латинской Америки. 9. Процесс всемирной экономической, политической и культурной интеграции и унификации. 10. Фактически самоуправляющееся государство в составе бывшей Британской империи, признающее своим главой английского короля (королеву). 12. Страна, владеющая своими колониями. 15. Человек, относящийся к коренному населению какой-либо страны или региона. 16. Группы или цепочки островов, расположенные на небольшом расстоянии друг от друга и имеющие одинаковое происхождение.

Максимальное количество баллов – 20.

Задание 3. «По городам и весям России».

В таблице приведены неофициальные (альтернативные) названия российских регионов, сложившиеся исторически. Подумайте, каким регионам (большим их частям) принадлежат эти названия и почему. Результат оформите в виде таблицы (табл. 2).

Таблица 2

№	Неофициальное название	Официальное название региона	Причина такого названия
1.	Кубань. Говорят: «на Кубани».	Краснодарский край	
2.	Поморье		

Члены жюри (подписи) _____

№	Неофициальное название	Официальное название региона	Причина такого названия
3.	Таврида		
4.	Ситцевый край (ситцевое царство), его столица называлась «городом невест».	Название региона: _____ _____ Название столицы региона: _____	Объяснение названия региона: Объяснение названия его столицы:
5.	Северная Пальмира		

Члены жюри (подписи) _____

№	Неофициальное название	Официальное название региона	Причина такого названия
6.	Янтарный край	Калининградская область ↓	В названии «Янтаря» и она отдалена от Вост. & России ↓
7.	Югра (является частью официального названия этого региона)	Ханты-Мансийск ↓	
8.	Кузбасс	Кузнецкий бассейн	Т.к. Куз от Кузнецкий, а басс- от бассейна ↓
9.	Прикамье		

Члены жюри (подписи) _____

№	Неофициальное название	Официальное название региона	Причина такого названия

Максимально возможное количество баллов – 20.

(фактически
набранное
количество баллов)

Задание 4. «Обычай и традиции стран мира».

Многие страны и народы мира выделяются интересными традициями и обычаями, особенностями этикета, церемониями, праздниками. При визите в эти страны необходимо в какой-то степени уметь ориентироваться в этих традициях. Постарайтесь определить, в каких странах приняты те или иные традиции, обычаи или ритуалы. Результат своего исследования оформите в виде предложенной таблицы (табл. 3).

Таблица 3

№	Описание традиции	Традиция и страна, в которой она принята
1.	Жители этих стран 2 февраля собираются около нор сурков и внимательно следят, когда животное выйдет. Согласно поверью, если оно выйдет из норы в пасмурный день, то весна придет рано. А если сурок выйдет в солнечный день, увидит свою тень и снова уйдет в нору, то холодная погода будет еще сохраняться на протяжении шести недель.	1. Название традиции: _____ 2. Страны: 1) _____ 2) _____
2.	Хотя плевок считается грубым действием во многих культурах, в этом племени это обычный способ приветствовать и проявлять уважение. Члены племени поплюют на руки, прежде чем пожать их, проделывая то же самое с новорожденными детьми и даже невестой, чтобы благословить их и принести им удачу.	Укажите племя: _____ Укажите два государства, где проживает это племя: 1. _____ 2. _____
3.	В период майских и июньских праздников и фестивалей в небольшом городке Кастильо де Мурсия проходит шокирующий ритуал очищения Эль Колачо. Это прыжки через младенцев. Подобный ритуал призван очистить души младенцев и унести с собой все зло и болезни.	Страна: <u>Испания</u>
4.	Когда жители этой страны говорят «да», они отрицательно качают головой, когда говорят «нет», наоборот, кивают ей. Предание гласит, что во времена османского владычества жители страны специально поменяли жесты согласия и отрицания, чтобы обманывать турков. Когда турки требовали отречься от Христа, они приставляли к шее острый кинжал. Отрицательные движение головой приводили к перерезанию горла. Чтобы избежать смерти и не отречься от Христа, и поменяли жесты местами.	Страна: <u>Мальта</u>
5.	Жители этой страны никогда не говорят слово «нет», стараются заменить его другой вежливой фразой или отойти от темы. Не принято отказывать человеку. В этой стране не принято пожимать руки при встрече, вместо этого люди кланяются. В метро есть специальные дежурные, которые буквально запикивают людей в вагоны и утрамбовывают их.	Страна: <u>Индия</u>

Члены жюри (подписи) _____

№	Описание традиции	Традиция и страна, в которой она принята
	Многие улицы не имеют названий, дома указываются описательно или по номеру внутри квартала.	
6.	В этой стране тех, кто до 25 лет не встретил свою вторую половину, ждет интересная участь. Им друзья презентуют длинные гирлянды из носков. Притом из разноцветных. И чем длиннее гирлянда, тем лучше. Подобные украшения могут развесить не только в доме холостяков, но и во дворе. Чтобы все видели, что в этом доме можно познакомиться с будущим мужем или женой. А бывает и так, что гирлянды не дают снимать, пока хозяин или хозяйка не найдут свою пару.	Страна: <u>Япония</u>
7.	В одном из городов этой страны (Буньоль) в последнюю неделю августа ежегодно проходит фестиваль Томатина. Этот праздник сопровождается танцами, музыкой, фейерверками и всевозможными угощениями. А главная традиция – бой томатами. Это поистине «томатное безумие», которое продолжается целый час. Тысячи людей из многих стран съезжаются, чтобы принять участие в необычном сражении. Единственным оружием служат томаты.	Страна: <u>Испания</u>
8.	Спиливание зубов. Этот ритуал является одним из самых важных у жителей страны. Все подростки в возрасте 18 лет должны перетерпеть спиливание верхних боковых клыков. Жители свято верят в то, что острые зубы являются символом злых духов. Это делается для того, чтобы лишить человека семи главных «демонических грехов». Это вождение и похоть, надменность и высокомерие, жадность и стяжательство, ярость и злоба, неоправданное плохое настроение, беспричинная ревность, беспробудное пьянство. И если эти клыки не спилить, то человек после смерти не сможет попасть на небеса. Эта священная церемония проходит в храме. Священник самым обычным напильником спиливает верхние боковые клыки. Затем всю зубную пыль в торжественной обстановке закапывают в семейном храме.	Страна: <u>Индия</u>
9.	Отсутствие числа 4 в лифтах. На языке этой страны число четыре считается символом несчастий и неудач. Это суеверие возникло из-за того, что слова «четыре» и «смерть» созвучны между собой. Именно поэтому во многих лифтах в стране отсутствует число 4. Вместо него можно встретить альтернативные варианты написания, например: 3+1 или 3 b.	Страна: <u>Китай</u>

Максимальное количество баллов – 20.

Максимальное количество баллов за аналитический раунд – 80

(фактически набранное количество баллов)

Члены жюри (подписи) _____

Код /шифр участника

17-11-02

БЛАНК ЗАДАНИЙ**муниципального этапа всероссийской олимпиады школьников****по географии**

(предмет)

I ТУР (ТЕСТОВЫЙ)**2021/2022 учебный год****10 – 11 класс**Общее время выполнения работы – **180 минут**.На выполнение заданий I (тестового) тура отводится **60 минут**. На II (аналитический) тур отводится **120 минут**.

При ответе на задания запрещено пользоваться школьными и прочими атласами, справочными материалами, а также учебниками, мобильными телефонами, карманными компьютерами! Желаем успеха!

Ответьте на поставленные вопросы, выбрав **один** правильный вариант ответа. При ответе на вопросы будьте очень внимательны, так как некоторые вопросы требуют определить неверный вариант или имеют формулировку с отрицанием.**Не забудьте перенести свои ответы в бланк ответов (таблица)!**

1. Укажите вариант ответа, в котором правильно указано направление внутренних межрайонных миграций в России в 20-х годах XXI века:

- ① из Дальневосточного и Сибирского федеральных округов в Центральный и Северо-Западный;
- 2) из Уральского и Приволжского федеральных округов в Северо-Кавказский и Южный;
- 3) из Центрального и Северо-Западного федеральных округов в Сибирский и Дальневосточный;
- 4) из Центрального и Северо-Западного федеральных округов в Северо-Кавказский и Южный.

2. Выберите пару портов, которые расположены на разных морях России:

- 1) Калининград и Санкт-Петербург; ② Новороссийск и Туапсе;
- 3) Мурманск и Архангельск; 4) Владивосток и Находка.

3. Выберите вариант ответа, в котором присутствуют только столицы автономных округов России:

- 1) Петрозаводск, Сыктывкар, Элиста; 2) Москва, Санкт-Петербург, Севастополь;
- ③ Ханты-Мансийск, Нарьян-Мар, Салехард; 4) Екатеринбург, Биробиджан, Владивосток.

4. Укажите сочетание, в котором указаны столицы регионов России, граничащих со странами ЕС (Евросоюз):

- 1) Москва, Тверь, Брянск; 2) Псков, Петрозаводск, Мурманск;
- ③ Владивосток, Анадырь, Благовещенск; 4) Смоленск, Орел, Курск.

5. Выберите вариант ответа, в котором правильно указано соотношение «субъект Российской Федерации – название курорта»:

- 1) Ленинградская обл. – Марциальные Воды;
- 2) Ставропольский край – Кавказские Минеральные Воды;
- 3) Кемеровская обл. – Белокуриха; 4) Респ. Крым – Геленджик.

6. Выберите вариант ответа, в котором указана пара регионов России, самыми первыми встречающих Новый год:

- 1) Магаданская обл., Респ. Якутия; 2) Приморский край, Хабаровский край;
- 3) Камчатский край, Чукотский авт. округ; 4) Амурская обл., Забайкальский край.

7. Укажите правильное соотношение «природный ресурс – вид природных ресурсов»:

- 1) лес – неисчерпаемые; 2) энергия ветра – исчерпаемые возобновимые;
- 3) плодородие почв – исчерпаемые невозобновимые;
- 4) пресная вода – исчерпаемые возобновимые.

8. Выберите вариант, в котором представлены только специализирующиеся на добыче угля регионы России:

- 1) Астраханская обл., Респ. Калмыкия, Респ. Карачаево-Черкессия;
- 2) Пермский край, Свердловская обл., Респ. Татарстан;
- 3) Липецкая обл., Тамбовская обл., Воронежская обл.;
- 4) Респ. Якутия, Кемеровская обл., Красноярский край.

9. Выберите сочетание регионов Центрального федерального округа с наибольшей долей электроэнергии, выработанной на АЭС:

- 1) Белгородская обл., Брянская обл., Владимирская обл.;
- 2) Ивановская обл., Калужская обл., Костромская обл.;
- 3) Курская обл., Смоленская обл., Тверская обл.;
- 4) Ростовская обл., Саратовская обл., Воронежская обл.

10. Какая из групп факторов размещения преобладает в настоящее время при выборе места для строительства завода по производству автомобилей:

- 1) сырьевой и топливный; 2) энергетический и водный;
- 3) потребительский и экологический; 4) географического положения, транспортный.

11. Выберите группу, где указаны физико-географические объекты, на территории которых фиксируется максимальная плотность населения:

- 1) о. Баффинова Земля, Амазонская низм., п-ов Сомали;
- 2) Великая Китайская равнина, плск. Декан, Центральные равнины;
- 3) Северо-Сибирская низм., Алданское нагорье, плато Путорана;
- 4) Аравийский п-ов, Скандинавский п-ов, Фолклендские острова.

12. Выберите правильное сочетание «страна – столица – материк»:

- 1) Бразилия – Бразилиа – Евразия; 2) Египет – Триполи – Африка;
- 3) Мексика – Мехико – Северная Америка; 5) Эфиопия – Аддис-Абеба – Южная Америка.

13. Выберите вариант ответа, в котором правильно указаны государства, территории которых омываются водами соответствующие проливов:

- 1) Гибралтарский пролив – Испания и Марокко; 2) Берингов пролив – США и Китай;
- 3) Баб-эль-Мандебский пролив – Йемен и Кения;
- 4) Мозамбикский пролив – Мадагаскар и Египет.

14. Странами-лидерами по запасам золота являются:
 1) Мексика, Бразилия, Чили; ② США, Германия, Италия;
 3) Бельгия, Нидерланды, Швеция; 4) Турция, Иран, Израиль.

15. Выберите вариант ответа, в котором представлены страны с максимальными запасами нефти:

- ① Китай, США, Россия; 2) Австралия, Китай, Украина;
 3) Венесуэла, Саудовская Аравия, Канада; 4) Гвинея, Мали, Камерун.

16. В каком из вариантов ответа представлены страны-лидеры по численности населения в Африке:

- ① Нигерия, Эфиопия, Египет; 2) Маврикий, Габон, Гвинея Бисау;
 3) Камерун, Ангола, Нигер; 4) ДР Конго, ЮАР, Танзания.

17. На какой паре материков будет наблюдаться наиболее высокая доля городского населения (более 80%):

- 1) Северная Америка и Евразия; 2) Африка и Северная Америка;
 ③ Южная Америка и Северная Америка; 4) Южная Америка и Австралия.

18. Самую низкую плотность населения в Европейском Союзе имеет:

- ① Мальта; 2) Франция; 3) Финляндия; 4) Эстония.

19. Выберите вариант ответа, в котором указаны самые крупные так называемые народы без государства:

- 1) баски, курды, каталонцы; ② уйгуры, тибетцы, папуасы; 3) бушмены, якуты, эвены;
 4) перуанцы, чилийцы, румыны.

20. Укажите вариант, включающий страны Магриба:

- 1) Ирак, Иран, Турция; 2) Киргизия, Таджикистан, Туркмения; ③ Марокко, Алжир, Тунис;
 4) Литва, Латвия, Эстония.

Максимальное количество баллов – 20.

Бланк ответов

№ задания	Ответ	№ задания	Ответ
1.	1 +	11.	2 +
2.	2 --	12.	3 +
3.	3 +	13.	4 --
4.	3 ---	14.	2 +
5.	3 ---	15.	1 --
6.	3 +	16.	1 +
7.	4 --	17.	3 --
8.	1 --	18.	1 --
9.	3 +	19.	2 --
10.	4 +	20.	3 +

Член жюри : _____
 (подписи)

(фактически
 набранное
 количество баллов)

Код /шифр участника

19-99-05

БЛАНК ЗАДАНИЙ**муниципального этапа всероссийской олимпиады школьников****по географии**
(предмет)**II ТУР (АНАЛИТИЧЕСКИЙ)****2021/2022 учебный год****10 – 11 класс**Общее время выполнения работы – **180 минут**.На II (аналитический) тур отводится **120 минут**.

Максимально возможное количество баллов, которое Вы можете набрать на аналитическом туре, составляет 80 баллов.

При ответе на задания запрещено пользоваться школьными и прочими атласами, справочными материалами, а также учебниками, мобильными телефонами, карманными компьютерами! Желаем успеха!

Задание 1. «Знатоки-картографы».

Вашему вниманию предоставляется фрагмент топографической карты участка местности (рис. 1). Необходимо его изучить и ответить на ряд вопросов. Результаты своего картографического исследования необходимо оформить в предложенной таблице 1.

Таблица 1

Бланк ответа на задание 1

№	Вопрос	Ответ
1.	Какая максимальная обозначенная абсолютная высота фиксируется на фрагменте топографической карты?	349,2 м 1
2.	Какие гидрографические объекты присутствуют на карте?	1. <u>родник</u> ✓ 2. <u>колодезь</u> ✓ 3. <u>пруд</u> ✓ 4. <u>река</u> ✓ 5. <u>болото</u> ✓
3.	В каком направлении протекает река Сиверка на участке, обозначенном цифрой 1?	в СЗ 1
4.	Какие объекты социальной инфраструктуры (сферы обслуживания) можно найти в пос. Тугарино?	Больница, школа 1
5.	Какой элемент антропогенного рельефа обозначен цифрой 2?	насыпь насыпь 0
6.	Что означает отметка +1,4 у предыдущего объекта?	высоту объекта 1
7.	Какой объект обозначен цифрой 3?	овраг 0
8.	Через какой высотный промежуток проведены сплошные горизонтالي на карте?	5 м 2

Члены жюри (подписи) _____

№	Вопрос	Ответ
9.	Сможет ли преодолеть вброд реку Сиверка внедорожник, рассчитанный на преодоление водных преград глубиной до 1,5? Объясните, почему Вы так решили.	Да, сможет, т.к. макс. глубина реки - 1,2 м
10.	К какой природной зоне относится местность, изображенная на представленном фрагменте топографической карты? Почему Вы так считаете? Постарайтесь привести два довода.	Природная зона: широколиственный смешанный и широколиственный лес Обоснование: на территории произрастают береза и осина, которые относятся к мелкоствольным деревьям. Также мелкотравянистость находится в умеренной климатической зоне.
11.	Разъедутся ли два транспортных средства, шириной по 3,7 м каждое, на шоссе, обозначенном 8(12)Б? Свой ответ объясните.	Да, разъедутся, т.к. ширина двояк от 8 до 12 м, а общая ширина автомобилей - 7,4 м

Максимальное количество баллов – 20.

(фактически набранное количество баллов) 13

Члены жюри (подписи) _____

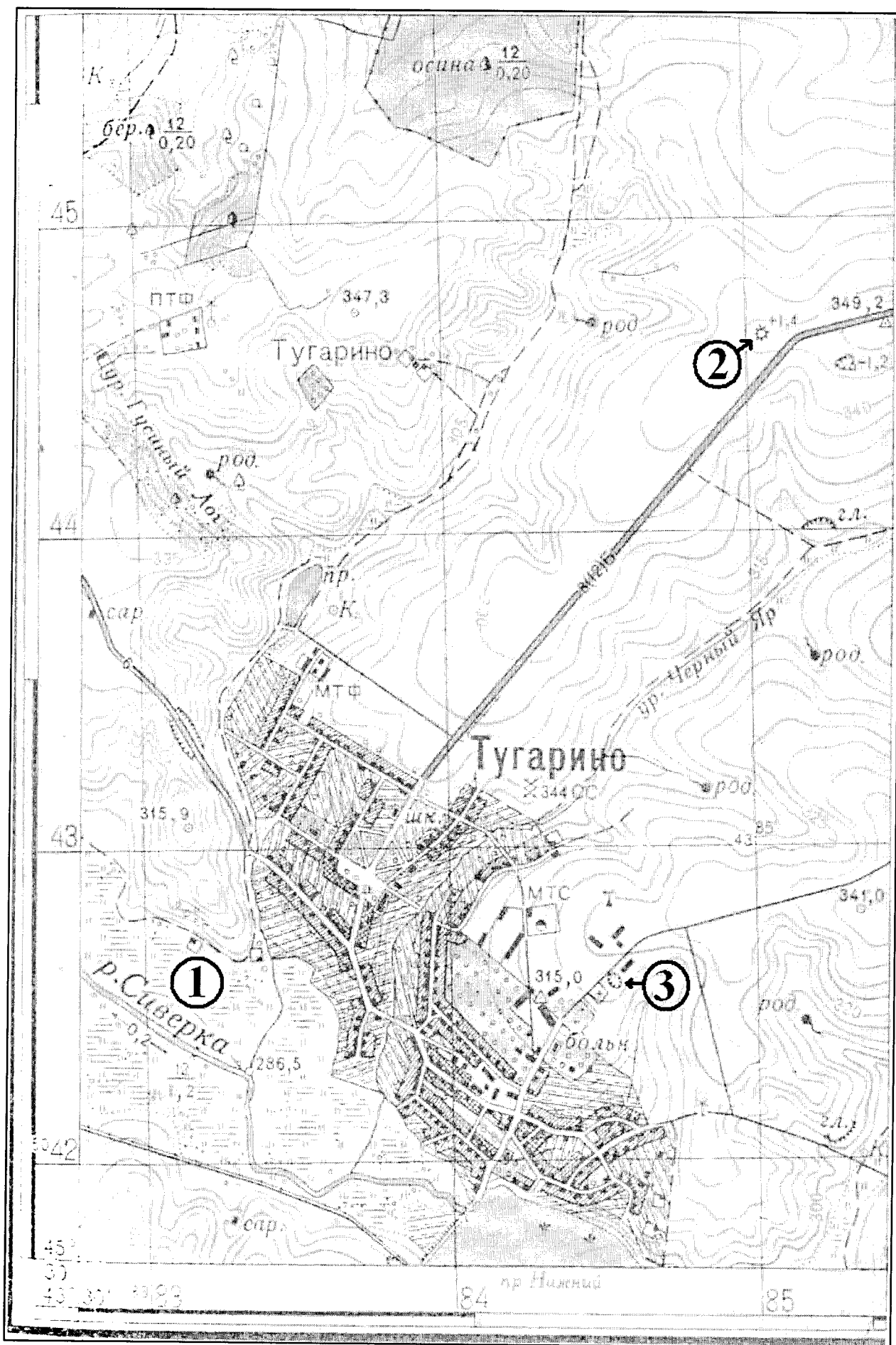
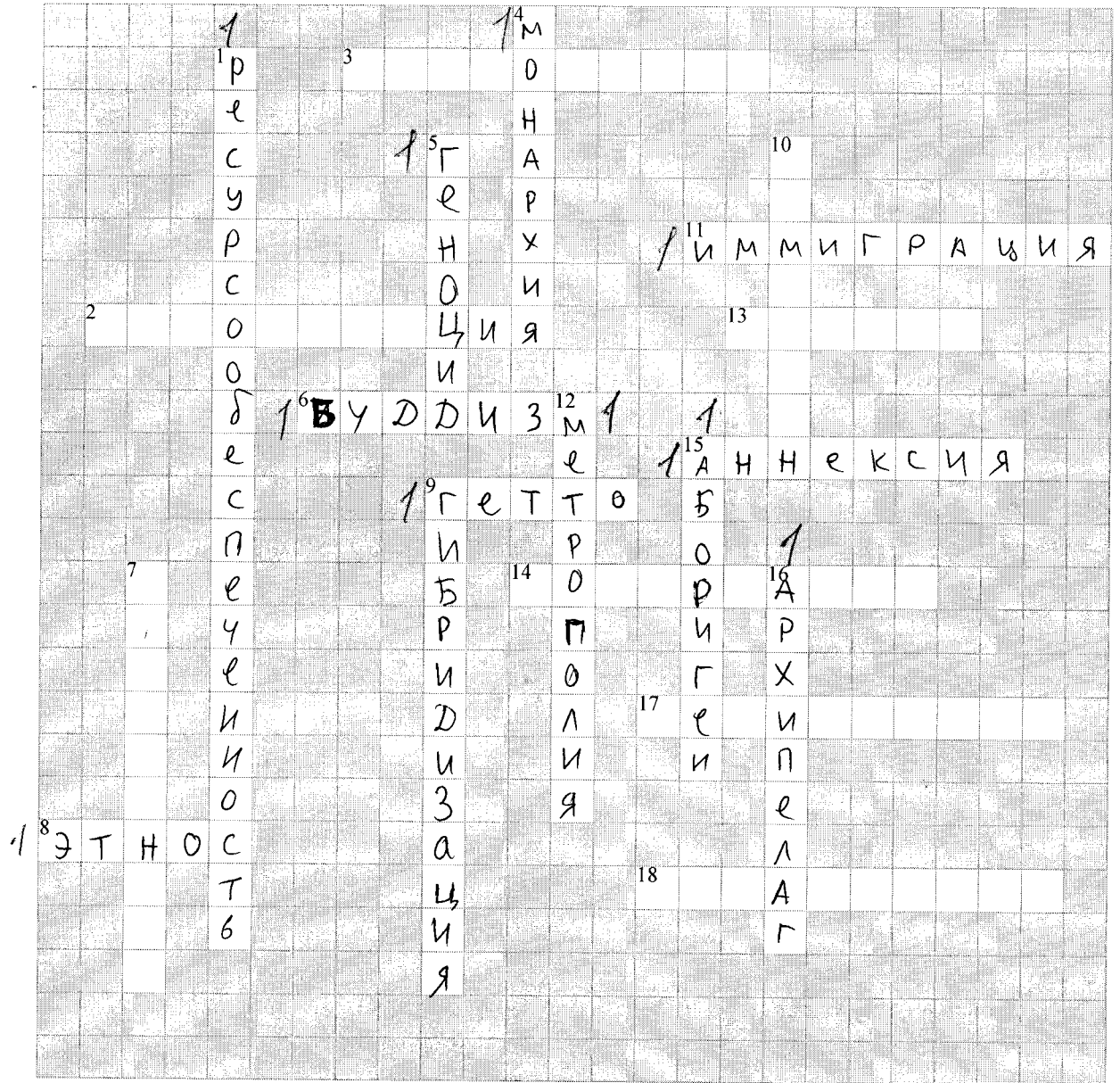


Рис. 1. Фрагмент топографической карты участка местности
Члены жюри (подписи)

Задание 2. «Географическая разминка: терминологический батл».

Разгадайте географический кроссворд. Обратите внимание, что задания под одинаковыми номерами могут быть как по вертикали, так и по горизонтали.



По горизонтали:

2. Стойкая тенденция уменьшения абсолютной численности населения (вырождение населения). Является следствием суженного воспроизводства населения, когда последующее поколение численно меньше предыдущих. 3. Специально построенный комплексный научно-производственный городок, спутник промышленного и научного центра, занимающийся разработкой инновационных технологий, развитием наукоемких производств и подготовкой научных кадров. 6. ^{буддизм}Мировая религия, названная в честь ее основателя, возникшая в Индии в VI – V вв. до н.э., ныне распространенная главным образом в странах Восточной и Центральной Азии. 8. ^{Исторически сложившаяся} Исторически сложившаяся, устойчивая общность людей, объединенных языком, территорией, хозяйством, культурой, национальным самосознанием. 9. Район города, в котором проживает дискриминированное национальное меньшинство. 11.

Члены жюри (подписи) _____

(фактически
набранное *1/10*
количество баллов)

Въезд в страну на постоянное или временное длительное проживание граждан другой страны, сопровождающийся получением нового гражданства. 13. Часть территории государства или целое государство, со всех сторон окруженная территориями других государств и не имеющая морского побережья. 14. Группа близко расположенных городских поселений, тесно связанных между собой разнообразными связями: экономическими, трудовыми, культурно-бытовыми и т.д. Имеет, как правило, полицентрическую структуру. Часто используется как синоним городской агломерации. 15. Вид агрессии, проявляющийся в захвате всей территории другого государства или его части, а также насильственное удержание народности в пределах чужого государства. 17. Система мероприятий, направленных на повышение плодородия земель. 18. Политика, направленная на отделение, обособление и ставящая главной целью создание собственного национального государственного образования.

По вертикали:

1. Соотношение между величиной природных ресурсов и размерами их использования. Выражается количеством лет, на которое должно хватить данного ресурса или его запасами на душу населения. 4. Форма правления, при которой во главе государства находится король, королева, князь, царь, султан и др. Власть при этой форме передается по наследству. 5. Истребление целых групп населения по расовым, национальным, этническим или религиозным признакам. 7. Обширное землевладение, которое возникло в Древнем Риме, характерное для феодального периода. Существовали в Пруссии, России, Америке. В настоящее время сохранились в некоторых странах Латинской Америки. 9. Процесс всемирной экономической, политической и культурной интеграции и унификации. 10. Фактически самоуправляющееся государство в составе бывшей Британской империи, признающее своим главой английского короля (королеву). 12. Страна, владеющая своими колониями. 15. Человек, относящийся к коренному населению какой-либо страны или региона. 16. Группы или цепочки островов, расположенные на небольшом расстоянии друг от друга и имеющие одинаковое происхождение.

Максимальное количество баллов – 20.

Задание 3. «По городам и весям России».

В таблице приведены неофициальные (альтернативные) названия российских регионов, сложившиеся исторически. Подумайте, каким регионам (большим их частям) принадлежат эти названия и почему. Результат оформите в виде таблицы (табл. 2).

Таблица 2

№	Неофициальное название	Официальное название региона	Причина такого названия
1.	Кубань. Говорят: «на Кубани».	Краснодарский край	
2.	Поморье		

Члены жюри (подписи) _____

№	Неофициальное название	Официальное название региона	Причина такого названия
3.	Таврида		
4.	Ситцевый край (ситцевое царство), его столица называлась «городом невест».	Название региона: _____ _____ Название столицы региона: _____	Объяснение названия региона: Объяснение названия его столицы:
5.	Северная Пальмира		

Члены жюри (подписи) _____

№	Неофициальное название	Официальное название региона	Причина такого названия
6.	Янтарный край	Калининградская область ↑	*Самые большие запасы янтаря в мире. ↑
7.	Югра (является частью официального названия этого региона)	Ямало-Ненецкий АО ○	
8.	Кузбасс		
9.	Прикамье		

Члены жюри (подписи) _____

№	Неофициальное название	Официальное название региона	Причина такого названия

Максимально возможное количество баллов – 20.

(фактически набранное количество баллов) 3

Задание 4. «Обычаи и традиции стран мира».

Многие страны и народы мира выделяются интересными традициями и обычаями, особенностями этикета, церемониями, праздниками. При визите в эти страны необходимо в какой-то степени уметь ориентироваться в этих традициях. Постарайтесь определить, в каких странах приняты те или иные традиции, обычаи или ритуалы. Результат своего исследования оформите в виде предложенной таблицы (табл. 3).

Таблица 3

№	Описание традиции	Традиция и страна, в которой она принята
1.	Жители этих стран 2 февраля собираются около нор сурков и внимательно следят, когда животное выйдет. Согласно поверью, если оно выйдет из норы в пасмурный день, то весна придет рано. А если сурок выйдет в солнечный день, увидит свою тень и снова уйдет в нору, то холодная погода будет еще сохраняться на протяжении шести недель.	1. Название традиции: _____ 2. Страны: 1) <u>Норвегия</u> 2) <u>Швеция</u>
2.	Хотя плевок считается грубым действием во многих культурах, в этом племени это обычный способ приветствовать и проявлять уважение. Члены племени поплюют на руки, прежде чем пожать их, проделывая то же самое с новорожденными детьми и даже невестой, чтобы благословить их и принести им удачу.	Укажите племя: _____ Укажите два государства, где проживает это племя: 1. _____ 2. _____
3.	В период майских и июньских праздников и фестивалей в небольшом городке Кастильо де Мурсия проходит шокирующий ритуал очищения Эль Колачо. Это прыжки через младенцев. Подобный ритуал призван очистить души младенцев и унести с собой все зло и болезни.	Страна: <u>Мексика</u>
4.	Когда жители этой страны говорят «да», они отрицательно качают головой, когда говорит «нет», наоборот, кивают ей. Предание гласит, что во времена османского владычества жители страны специально поменяли жесты согласия и отрицания, чтобы обманывать турков. Когда турки требовали отречься от Христа, они приставляли к шее острый кинжал. Отрицательные движение головой приводили к перерезанию горла. Чтобы избежать смерти и не отречься от Христа, и поменяли жесты местами.	Страна: _____
5.	Жители этой страны никогда не говорят слово «нет», стараются заменить его другой вежливой фразой или отойти от темы. Не принято отказывать человеку. В этой стране не принято пожимать руки при встрече, вместо этого люди кланяются. В метро есть специальные дежурные, которые буквально запикивают людей в вагоны и утрумбовывают их.	Страна: <u>Япония</u>

Члены жюри (подписи) _____

№	Описание традиции	Традиция и страна, в которой она принята
	Многие улицы не имеют названий, дома указываются описательно или по номеру внутри квартала.	
6.	В этой стране тех, кто до 25 лет не встретил свою вторую половину, ждет интересная участь. Им друзья презентуют длинные гирлянды из носков. Притом из разноцветных. И чем длиннее гирлянда, тем лучше. Подобные украшения могут развесить не только в доме холостяков, но и во дворе. Чтобы все видели, что в этом доме можно познакомиться с будущим мужем или женой. А бывает и так, что гирлянды не дают снимать, пока хозяин или хозяйка не найдут свою пару.	Страна: _____
7.	В одном из городов этой страны (Буньоль) в последнюю неделю августа ежегодно проходит фестиваль Томатина. Этот праздник сопровождается танцами, музыкой, фейерверками и всевозможными угощениями. А главная традиция – бой томатами. Это поистине «томатное безумие», которое продолжается целый час. Тысячи людей из многих стран съезжаются, чтобы принять участие в необычном сражении. Единственным оружием служат томаты.	Страна: _____
8.	Спиливание зубов. Этот ритуал является одним из самых важных у жителей страны. Все подростки в возрасте 18 лет должны перетерпеть спиливание верхних боковых клыков. Жители свято верят в то, что острые зубы являются символом злых духов. Это делается для того, чтобы лишить человека семи главных «демонических грехов». Это вождление и похоть, надменность и высокомерие, жадность и стяжательство, ярость и злоба, неоправданное плохое настроение, беспричинная ревность, беспробудное пьянство. И если эти клыки не спилить, то человек после смерти не сможет попасть на небеса. Эта священная церемония проходит в храме. Священник самым обычным напильником спиливает верхние боковые клыки. Затем всю зубную пыль в торжественной обстановке закапывают в семейном храме.	Страна: _____
9.	Отсутствие числа 4 в лифтах. На языке этой страны число четыре считается символом несчастий и неудач. Это суеверие возникло из-за того, что слова «четыре» и «смерть» созвучны между собой. Именно поэтому во многих лифтах в стране отсутствует число 4. Вместо него можно встретить альтернативные варианты написания, например: 3+1 или 3 b.	Страна: _____

Максимальное количество баллов – 20.

Максимальное количество баллов за аналитический раунд – 80

(фактически
набранное
количество баллов)

Члены жюри (подписи) _____

Код /шифр участника

Р. И. 05

БЛАНК ЗАДАНИЙ**муниципального этапа всероссийской олимпиады школьников****по географии**

(предмет)

I ТУР (ТЕСТОВЫЙ)**2021/2022 учебный год****10 – 11 класс**Общее время выполнения работы – **180 минут**.На выполнение заданий I (тестового) тура отводится **60 минут**. На II (аналитический) тур отводится **120 минут**.

При ответе на задания запрещено пользоваться школьными и прочими атласами, справочными материалами, а также учебниками, мобильными телефонами, карманными компьютерами! Желаем успеха!

Ответьте на поставленные вопросы, выбрав **один** правильный вариант ответа. При ответе на вопросы будьте очень внимательны, так как некоторые вопросы требуют определить неверный вариант или имеют формулировку с отрицанием.**Не забудьте перенести свои ответы в бланк ответов (таблица)!**

1. Укажите вариант ответа, в котором правильно указано направление внутренних межрайонных миграций в России в 20-х годах XXI века:

- 1) из Дальневосточного и Сибирского федеральных округов в Центральный и Северо-Западный;
- 2) из Уральского и Приволжского федеральных округов в Северо-Кавказский и Южный;
- 3) из Центрального и Северо-Западного федеральных округов в Сибирский и Дальневосточный;
- 4) из Центрального и Северо-Западного федеральных округов в Северо-Кавказский и Южный.

2. Выберите пару портов, которые расположены на разных морях России:

- 1) Калининград и Санкт-Петербург; 2) Новороссийск и Туапсе;
- 3) Мурманск и Архангельск; 4) Владивосток и Находка.

3. Выберите вариант ответа, в котором присутствуют только столицы автономных округов России:

- 1) Петрозаводск, Сыктывкар, Элиста; 2) Москва, Санкт-Петербург, Севастополь;
- 3) Ханты-Мансийск, Нарьян-Мар, Салехард; 4) Екатеринбург, Биробиджан, Владивосток.

4. Укажите сочетание, в котором указаны столицы регионов России, граничащих со странами ЕС (Евросоюз):

- 1) Москва, Тверь, Брянск; 2) Псков, Петрозаводск, Мурманск;
- 3) Владивосток, Анадырь, Благовещенск; 4) Смоленск, Орел, Курск.

5. Выберите вариант ответа, в котором правильно указано соотношение «субъект Российской Федерации – название курорта»:

- 1) Ленинградская обл. – Марциальные Воды;
2) Ставропольский край – Кавказские Минеральные Воды;
3) Кемеровская обл. – Белокуриха; 4) Респ. Крым – Геленджик.

6. Выберите вариант ответа, в котором указана пара регионов России, самыми первыми встречающих Новый год:

- 1) Магаданская обл., Респ. Якутия; 2) Приморский край, Хабаровский край;
3) Камчатский край, Чукотский авт. округ; 4) Амурская обл., Забайкальский край.

7. Укажите правильное соотношение «природный ресурс – вид природных ресурсов»:

- 1) лес – неисчерпаемые; 2) энергия ветра – исчерпаемые возобновимые;
3) плодородие почв – исчерпаемые невозобновимые;
4) пресная вода – исчерпаемые возобновимые.

8. Выберите вариант, в котором представлены только специализирующиеся на добыче угля регионы России:

- 1) Астраханская обл., Респ. Калмыкия, Респ. Карачаево-Черкессия;
2) Пермский край, Свердловская обл., Респ. Татарстан;
3) Липецкая обл., Тамбовская обл., Воронежская обл.;
4) Респ. Якутия, Кемеровская обл., Красноярский край.

9. Выберите сочетание регионов Центрального федерального округа с наибольшей долей электроэнергии, выработанной на АЭС:

- 1) Белгородская обл., Брянская обл., Владимирская обл.;
2) Ивановская обл., Калужская обл., Костромская обл.;
3) Курская обл., Смоленская обл., Тверская обл.;
4) Ростовская обл., Саратовская обл., Воронежская обл.

10. Какая из групп факторов размещения преобладает в настоящее время при выборе места для строительства завода по производству автомобилей:

- 1) сырьевой и топливный; 2) энергетический и водный;
3) потребительский и экологический; 4) географического положения, транспортный.

11. Выберите группу, где указаны физико-географические объекты, на территории которых фиксируется максимальная плотность населения:

- 1) о. Баффинова Земля, Амазонская низм., п-ов Сомали;
2) Великая Китайская равнина, плск. Декан, Центральные равнины;
3) Северо-Сибирская низм., Алданское нагорье, плато Путорана;
4) Аравийский п-ов, Скандинавский п-ов, Фолклендские острова.

12. Выберите правильное сочетание «страна – столица – материк»:

- 1) Бразилия – Бразилиа – Евразия; 2) Египет – Триполи – Африка;
3) Мексика – Мехико – Северная Америка; 4) Эфиопия – Аддис-Абеба – Южная Америка.

13. Выберите вариант ответа, в котором правильно указаны государства, территории которых омываются водами соответствующие проливы:

- 1) Гибралтарский пролив – Испания и Марокко; 2) Берингов пролив – США и Китай;
3) Баб-эль-Мандебский пролив – Йемен и Кения;
4) Мозамбикский пролив – Мадагаскар и Египет.

14. Странами-лидерами по запасам золота являются:
 1) Мексика, Бразилия, Чили; 2) США, Германия, Италия;
 3) Бельгия, Нидерланды, Швеция; 4) Турция, Иран, Израиль.

15. Выберите вариант ответа, в котором представлены страны с максимальными запасами нефти:
 1) Китай, США, Россия; 2) Австралия, Китай, Украина;
 3) Венесуэла, Саудовская Аравия, Канада; 4) Гвинея, Мали, Камерун.

16. В каком из вариантов ответа представлены страны-лидеры по численности населения в Африке:
 1) Нигерия, Эфиопия, Египет; 2) Маврикий, Габон, Гвинея Бисау;
 3) Камерун, Ангола, Нигер; 4) ДР Конго, ЮАР, Танзания.

17. На какой паре материков будет наблюдаться наиболее высокая доля городского населения (более 80%):
 1) Северная Америка и Евразия; 2) Африка и Северная Америка;
 3) Южная Америка и Северная Америка; 4) Южная Америка и Австралия.

18. Самую низкую плотность населения в Европейском Союзе имеет:
 1) Мальта; 2) Франция; 3) Финляндия; 4) Эстония.

19. Выберите вариант ответа, в котором указаны самые крупные так называемые народы без государства:
 1) баски, курды, каталонцы; 2) уйгуры, тибетцы, папуасы; 3) бушмены, якуты, эвены;
 4) перуанцы, чилийцы, румыны.

20. Укажите вариант, включающий страны Магриба:
 1) Ирак, Иран, Турция; 2) Киргизия, Таджикистан, Туркмения; 3) Марокко, Алжир, Тунис;
 4) Литва, Латвия, Эстония.

Максимальное количество баллов – 20.

Бланк ответов

№ задания	Ответ	№ задания	Ответ
1.	3 -	11.	2 +
2.	2 -	12.	3 +
3.	1 -	13.	1 +
4.	2 +	14.	1 -
5.	2 +	15.	3 +
6.	2 -	16.	1 +
7.	4 +	17.	1 -
8.	4 +	18.	3 +
9.	1 -	19.	2 -
10.	4 +	20.	3 +

Член жюри: _____

(подписи)

(фактически набранное количество баллов) 12