

Код /шифр участника

09-04

**БЛАНК ЗАДАНИЙ**

16 + 46 = 62

муниципального этапа всероссийской олимпиады школьников

по географии

(предмет)

**II ТУР (АНАЛИТИЧЕСКИЙ)****2021/2022 учебный год****9 класс**

Общее время выполнения работы – 180 минут.

На II (аналитический) тур отводится 120 минут.

Максимально возможное количество баллов, которое Вы можете набрать на аналитическом туре, составляет 80 баллов.

При ответе на задания запрещено пользоваться школьными и прочими атласами, справочными материалами, а также учебниками, мобильными телефонами, карманными компьютерами! Желаем успеха!

**Задание I. «Знатоки-картографы».**

Вашему вниманию предоставляется фрагмент топографической карты участка местности (рис. 1). Необходимо его изучить и ответить на ряд вопросов. Результаты своего картографического исследования необходимо оформить в предложенной таблице 1.

Таблица 1

**Бланк ответа на задание 1**

№	Вопрос	Ответ
1.	Какая максимальная обозначенная абсолютная высота фиксируется на фрагменте топографической карты?	<del>347,3</del> 349,2 1
2.	Какие гидрографические объекты присутствуют на карте?	1. Родники 2. Река 3. Труды 2 4. Болото 5.
3.	В каком направлении протекает река Сиверка на участке, обозначенном цифрой 1?	Юго-запад 0
4.	Какие объекты социальной инфраструктуры (сферы обслуживания) можно найти в пос. Тугарино?	Больница; школа 1
5.	Какой элемент антропогенного рельефа обозначен цифрой 2?	
6.	Что означает отметка +1,4 у предыдущего объекта?	
7.	Какой объект обозначен цифрой 3?	Обвал 0
8.	Через какой высотный промежуток проведены сплошные горизонтали на карте?	

Члены жюри (подписи)

№	Вопрос	Ответ
9.	Сможет ли преодолеть вброд реку Сиверка внедорожник, рассчитанный на преодоление водных преград глубиной до 1,5? Объясните, почему Вы так решили.	<p>1 Да, так как её глубина равна 1,5 м.</p>
10.	К какой природной зоне относится местность, изображенная на представленном фрагменте топографической карты? Почему Вы так считаете? Постарайтесь привести два довода.	<p>Природная зона: _____</p> <p>Обоснование: _____</p>
11.	Разъедутся ли два транспортных средства, шириной по 3,7 м каждое, на шоссе, обозначенном 8(12)Б? Свой ответ объясните.	

Максимальное количество баллов – 20.

Сумма баллов: 5

Члены жюри (подписи) \_\_\_\_\_





Рис. 1. Фрагмент топографической карты участка местности  
Члены жюри (подписи)

Задание 2. «Географическая разминка: термины экономической географии».

Разгадайте географический кроссворд. Обратите внимание, что задания под одинаковыми номерами могут быть как по вертикали, так и по горизонтали.



По горизонтали:

- Сочетание производств, основанное на последовательной обработке сырья, комплексном использовании сырья и утилизации отходов. ④ Форма государственного устройства, при котором государство имеет в своем составе самоуправляемые образования.
- Место схождения (расхождения) нескольких транспортных путей (дорог), где осуществляется перевалка грузов или пересадка пассажиров, а также сортировка транспортных средств. ⑤
- Административная казачья сельская единица, состоит из одного или нескольких казачьих поселений. Распространены такие поселения в основном в южной части Европейской территории России. ⑥
- Населенный пункт, в котором более 85% населения занято поселскохозяйственной деятельностью и численностью населения более

Члены жюри (подписи) \_\_\_\_\_

15

12 тыс. чел. 11 Исторически сложившаяся группа людей, обладающих общностью языка, культуры, психики, норм поведения и мироопимания, т.е. осознающих свою принадлежность к этой общности. 12 Размещение населения или совокупность населенных пунктов на какой-либо территории, сложившаяся в результате процесса ее освоения. 14 Место, расположенное вблизи берега моря или реки, устроенное для стоянки кораблей и судов, а также переработки грузов и пассажиропотоков. 15 Совокупность всех предприятий, производящих однотипную продукцию или оказывающих населению одинаковые виды услуг. 16 Сосредоточение производства какой-либо продукции на крупных предприятиях. 18 Въезд людей из одного государства в другое с целью временного пребывания или постоянного проживания. 19 Въезд за границу для постоянного проживания или работы.

#### По вертикали:

2 Рост доли городских жителей, распространение городского образа жизни на все большую часть населения. 3 Территориальное скопление полезных ископаемых. 6 Наиболее крупная форма городского расселения, образующаяся в результате слияния большого числа соседних городских территориальных структур. 7 Наука о народонаселении (численности и воспроизводстве населения). 8 Малый населенный пункт, состоящий из одного, иногда нескольких домохозяйств; отдельная крестьянская усадьба с обособленным хозяйством. 11 Вывоз продукции из страны. 13 Ввоз иностранных товаров в страну. 17 Компактное скопление населенных пунктов, главным образом городских, местами срастающихся, объединенных в сложную многокомпонентную динамическую систему с интенсивными производственными, транспортными и культурными связями.

Максимальное количество баллов – 20.

#### Задание 3. «По городам и весям России».

В таблице приведены неофициальные (альтернативные) названия российских регионов, сложившиеся исторически. Подумайте, каким регионам (большим их частям) принадлежат эти названия и почему. Результат оформите в виде таблицы (табл. 2).

Таблица 2

№	Неофициальное название	Официальное название региона	Причина такого названия
1.	Кубань. Говорят: «на Кубани».	Краснодарский край ↑	На этой территории проживали <del>кубы</del> <del>кубы</del> <del>казыки</del> , а также протекает река Кубань ↑
2.	Поморье	Архангельская область ↑	На этой территории проживали поморы ↑

Члены жюри (подписи)

№	Неофициальное название	Официальное название региона	Причина такого названия
3.	Таврида	Республика Крым /	На территории Крыма проживали тавры /
4.	Ситцевый край (ситцевое царство), его столица называлась «городом Ивест».	Название региона: Ивановская Область / Название столицы региона: Иваново /	Объяснение названия региона: В регионе изготавливают ситцевые изделия /  Объяснение названия его столицы:
5.	Северная Пальмира		

Члены жюри (подписи)

№	Неофициальное название	Официальное название региона	Причина такого названия
6.	Янтарный край	Калининградская область ↓	В этом регионе сосредоточены почти все мировые запасы янтаря. ↓
7.	Югра (является частью официального названия этого региона)	Ханты-Мансийский автономный округ - Югра ↓	
8.	Кузбасс	Кемеровская <del>область</del> область ↓	"Кузбасс" - сокращение от "Кузнецкий угольный бассейн", который находится на территории этого региона. ↓
9.	Прикамье		В регионе протекает река Кама. ↓

Максимально возможное количество баллов – 20.

15

**Задание 4. «Обычаи и традиции стран мира».**

Многие страны и народы мира выделяются интересными традициями и обычаями, особенностями этикета, церемониями, праздниками. При визите в эти страны необходимо в какой-то степени уметь ориентироваться в этих традициях. Постарайтесь определить в

Члены жюри (подписи) \_\_\_\_\_

каких странах приняты те или иные традиции, обычаи или ритуалы. Результат своего исследования оформите в виде предложенной таблицы (табл. 3).

Таблица 3

№	Описание традиции	Традиция и страна, в которой она принята
1.	Жители этих стран 2 февраля собираются около нор сурков и внимательно следят, когда животное выйдет. Согласно поверью, если оно выйдет из норы в пасмурный день, то весна придет рано. А если сурок выйдет в солнечный день, увидит свою тень и снова уйдет в нору, то холодная погода будет еще сохраняться на протяжении шести недель.	1. Название традиции: <i>День сурка</i> 2. Страны: 1) <i>США</i> 2) <i>Канада</i>
2.	Хотя плювок считается грубым действием во многих культурах, в этом племени это обычный способ приветствовать и проявлять уважение. Члены племени похлопывают по рукам, прежде чем пожать их, проделывая то же самое с поворожденными детьми и даже невестой, чтобы благословить их и принести им удачу.	Укажите племя:  Укажите два государства, где проживает это племя: 1. _____ 2. _____
3.	В период майских и июньских праздников и фестивалей в небольшом городке Кастильо де Мурсия проходит шокирующий ритуал очищения Эль Колачо. Это прыжки через младенцев. Подобный ритуал призван очистить души младенцев и унести с собой все зло и болезни.	Страна: <i>Испания</i>
4.	Когда жители этой страны говорят «да», они отрицательно качают головой, когда говорят «нет», наоборот, кивают ей. Предание гласит, что во времена османского владычества жители страны специально поменяли жесты согласия и отрицания, чтобы обманывать турков. Когда турки требовали отречься от Христа, они приставляли к шее острый кинжал. Отрицательные движения головой приводили к нерезанию горла. Чтобы избежать смерти и не отречься от Христа, и поменяли жесты местами.	Страна: <i>Болгария</i>
5.	Жители этой страны никогда не говорят слово «нет», стараются заменить его другой вежливой фразой или отойти от темы. Не принято отказывать человеку. В этой стране не принято пожимать руки при встрече, вместо этого люди кланяются. В метро есть специальные дежурные, которые буквально запикивают людей в вагоны и утрумбовывают их. Многие улицы не имеют названий, дома указываются описательно или по номеру внутри квартала.	Страна: <i>Япония</i>
6.	В этой стране тех, кто до 25 лет не встретил свою вторую половину, ждет интересная участь. Им друзья презентуют длинные гирлянды из посков. Причем из разноцветных. И чем длиннее гирлянда, тем лучше. Подобные украшения могут развесить не только в доме холостяков, но и во дворе. Чтобы все видели, что в этом доме можно познакомиться с будущим мужем или женой. А бывает и так, что гирлянды не дают снимать, пока хозяин или хозяйка не найдут свою пару.	Страна: <i>Австралия</i>

Члены жюри (подписи)



№	Описание традиции	Традиция и страна, в которой она принята
7.	<p>В одном из городов этой страны (Буньоль) в последнюю неделю августа ежегодно проходит фестиваль Томатина. Этот праздник сопровождается танцами, музыкой, фейерверками и всевозможными угощениями. А главная традиция – бой томатами. Это поистине «томатное безумие», которое продолжается целый час. Тысячи людей из многих стран съезжаются, чтобы принять участие в необычном сражении. Единственным оружием служат томаты.</p>	<p>Страна: <del>Испания</del> Италия 0</p>
8.	<p>Спиливание зубов. Этот ритуал является одним из самых важных у жителей страны. Все подростки в возрасте 18 лет должны перетерпеть спиливание верхних боковых клыков. Жители свято верят в то, что острые зубы являются символом злых духов. Это делается для того, чтобы лишить человека семи главных «демонических грехов». Это вождленение и похоть, надменность и высокомерие, жадность и стяжательство, ярость и злоба, неоправданное плохое настроение, беспричинная ревность, беспробудное пьянство. И если эти клыки не спилить, то человек после смерти не сможет попасть на небеса. Эта священная церемония проходит в храме. Священник самым обычным напильником спиливает верхние боковые клыки. Затем всю зубную пыль в торжественной обстановке закапывают в семейном храме.</p>	<p>Страна: _____</p>
9.	<p>Отсутствие числа 4 в лифтах. На языке этой страны число четыре считается символом несчастий и неудач. Это суеверие возникло из-за того, что слова «четыре» и «смерть» созвучны между собой. Именно поэтому во многих лифтах в стране отсутствует число 4. Вместо него можно встретить альтернативные варианты написания, например: 3+1 или 3 b.</p>	<p>Страна: Китай 2</p>

Максимальное количество баллов – 20.

11

Максимальное количество баллов за аналитический тур – 80

Код / шифр участника

1 - 29 - 04

**БЛАНК ЗАДАНИЙ****муниципального этапа всероссийской олимпиады школьников****по географии**

(предмет)

**I ТУР (ТЕСТОВЫЙ)****2021/2022 учебный год****9 класс**Общее время выполнения работы – **180 минут**.На выполнение заданий I (тестового) тура отводится **60 минут**. На II (аналитический) тур отводится **120 минут**.

При ответе на задания запрещено пользоваться школьными и прочими атласами, справочными материалами, а также учебниками, мобильными телефонами, карманными компьютерами! Желаем успеха!

Ответьте на поставленные вопросы, выбрав **один** правильный вариант ответа. При ответе на вопросы будьте очень внимательны, так как некоторые вопросы требуют определить неверный вариант или имеют формулировку с отрицанием.**Не забудьте перенести свои ответы в бланк ответов (таблица)!**

1. Укажите вариант ответа, в котором правильно указано направление внутренних межрайонных миграций в России в 20-х годах XXI века:

- 1) из Дальневосточного и Сибирского федеральных округов в Центральный и Северо-Западный;
- 2) из Уральского и Приволжского федеральных округов в Северо-Кавказский и Южный;
- 3) из Центрального и Северо-Западного федеральных округов в Сибирский и Дальневосточный;
- 4) из Центрального и Северо-Западного федеральных округов в Северо-Кавказский и Южный.

2. Выберите пару портов, которые расположены на разных морях России:

- 1) Калининград и Санкт-Петербург;
- 2) Новороссийск и Туапсе;
- 3) Мурманск и Архангельск;
- 4) Владивосток и Находка.

3. Выберите вариант ответа, в котором присутствуют только столицы автономных округов России:

- 1) Петрозаводск, Сыктывкар, Элиста;
- 2) Москва, Санкт-Петербург, Севастополь;
- 3) Хапты-Мапсийск, Нарьян-Мар, Салехард;
- 4) Екатеринбург, Биробиджан, Владивосток.

4. Укажите сочетание, в котором указаны столицы регионов России, граничащих со странами ЕС (Евросоюз):

- 1) Москва, Тверь, Брянск;
- 2) Псков, Петрозаводск, Мурманск;
- 3) Владивосток, Анадырь, Благовещенск;
- 4) Смоленск, Орел, Курск.

5. Выберите вариант ответа, в котором правильно указано соотношение «субъект Российской Федерации – название курорта»:

- 1) Ленинградская обл. – Марциальные Воды;
- 2) Ставропольский край – Кавказские Минеральные Воды;
- 3) Кемеровская обл. – Белокуриха; 4) Респ. Крым – Геленджик.

6. Выберите вариант ответа, в котором указана пара регионов России, самыми первыми встречающих Новый год:

- 1) Магаданская обл., Респ. Якутия; –2) Приморский край, Хабаровский край;
- 3) Камчатский край, Чукотский авт. округ; –4) Амурская обл., Забайкальский край.

7. Укажите правильное соотношение «природный ресурс – вид природных ресурсов»:

- 1) лес – неисчерпаемые; –2) энергия ветра – исчерпаемые возобновимые;
- 3) плодородие почв – исчерпаемые невозобновимые;
- 4) пресная вода – исчерпаемые возобновимые.

8. В каком варианте ответа верно указано соотношение «горная вершина – субъект РФ»:

- 1) Эльбрус – Ставропольский край; 2) Белуха – Респ. Алтай;
- 3) г. Народная – Свердловская область; 4) Ключевская Сопка – Сахалинская обл.

9. Выберите правильное соотношение «столица субъекта РФ – река, на которой она стоит»:

- 1) г. Краснодар – р. Кубань; 2) г. Новосибирск – р. Енисей; 3) г. Челябинск – р. Урал;
- 4) г. Воронеж – р. Волга.

10. Определите вариант ответа, в котором указаны регионы, реки которых имеют половодье в теплый сезон года (летом):

- 1) Калининградская обл., Псковская обл., Новгородская обл.;
- 2) Волгоградская обл., Пензенская обл., Оренбургская обл.;
- 3) Краснодарский край, Респ. Адыгея, Ростовская обл.;
- 4) Хабаровский край, Еврейская авт. обл., Амурская обл.

11. На территории какого субъекта РФ находится первая и единственная в стране приливная электростанция:

- 1) Камчатский край; 2) Чукотский авт. округ; 3) Мурманская обл.; 4) Ленинградская обл.

12. На территории какого современного региона России находится родина старинного русского промысла хохлома (хохломекая роспись):

- 1) Костромская обл.; –2) Нижегородская обл.; 3) Владимирская обл.; –4) Московская обл.

13. Выберите вариант, в котором представлены только специализирующиеся на добыче угля регионы России:

- 1) Астраханская обл., Респ. Калмыкия, Респ. Карачаево-Черкессия;
- 2) Пермский край, Свердловская обл., Респ. Татарстан;
- 3) Липецкая обл., Тамбовская обл., Воронежская обл.;
- 4) Респ. Якутия, Кемеровская обл., Красноярский край.

14. Выберите сочетание регионов Центрального федерального округа с наибольшей долей электроэнергии, выработанной на АЭС:

- 1) Белгородская обл., Брянская обл., Владимирская обл.;
- 2) Ивановская обл., Калужская обл., Костромская обл.;
- 3) Курская обл., Смоленская обл., Тверская обл.;
- 4) Ростовская обл., Саратовская обл., Воронежская обл.

15. Выберите вариант ответа, в котором представлены города с самыми высокими температурами самого холодного месяца в году:

- 1) Владивосток, Южно-Сахалинск, Петропавловск Камчатский;
- 2) Ростов на Дону, Волгоград, Астрахань;
- 3) Улан-Удэ, Барнаул, Горно-Алтайск.
- 4) Сочи, Ялта, Севастополь.

16. Какие крупные города Вы проедете, путешествуя прямым маршрутом на поезде из Москвы в Крым:

- 1) Рязань, Воронеж, Ростов-на-Дону;
- 2) Ярославль, Пермь, Екатеринбург;
- 3) Санкт-Петербург, Петрозаводск, Мурманск;
- 4) Курган, Красноярск, Иркутск.

17. В какие регионы России Вы организуете тур, чтобы насладиться красотой нецен:

- 1) Краснодарский край и Респ. Адыгея, Крым, Пермский край;
- 2) Респ. Карелия, Мурманская обл., Респ. Коми;
- 3) Саратовская обл., Оренбургская обл., Пензенская обл.;
- 4) Тульская обл., Орловская обл., Курская обл.

18. Какая из групп факторов размещения преобладает в настоящее время при выборе места для строительства завода по производству автомобилей:

- 1) сырьевой и топливный; 2) энергетический и водный;
- 3) потребительский и экологический; 4) географического положения, транспортный.

19. Выберите сочетание регионов России с максимально неблагоприятными природными условиями проживания:

- 1) Омская обл., Новосибирская обл., Иркутская обл.;
- 2) Астраханская обл., Респ. Кабардино-Балкария, Респ. Дагестан;
- 3) Архангельская обл., Ямало-Ненецкий авт. окр., Респ. Якутия;
- 4) Приморский край, Забайкальский край, Респ. Хакасия.

20. Выберите группу, где указаны физико-географические объекты России, на территории которых фиксируется максимальная плотность населения:

- 1) Тиманский край, Северные Увалы, горы Хибинь;
- 2) Среднерусская возв., Приволжская возв, Ставропольская возв;
- 3) Северо-Сибирская низм., Алданское пагорье, плато Путорана;
- 4) Колымская низм, Западно-Сибирская равнина, Яно-Индибирская низм.

**Максимальное количество баллов – 20.**

## Бланк ответов

№ задания	Ответ	№ задания	Ответ
1.	1 +	11.	3 +
2.	3 +	12.	3 -
3.	3 +	13.	4 +
4.	2 +	14.	1 -
5.	2 +	15.	4 +
6.	3 +	16.	1 +
7.	3 -	17.	1 +
8.	2 +	18.	4 +
9.	1 +	19.	3 +
10.	3 -	20.	2 +

Член жюри : \_\_\_\_\_  
(подпись)

166  
количество баллов

Код /шифр участника

29-20

**БЛАНК ЗАДАНИЙ****муниципального этапа всероссийской олимпиады школьников****по географии**  
(предмет)

370

**II ТУР (АНАЛИТИЧЕСКИЙ)****2021/2022 учебный год**

370 + 140 = 510

**9 класс**Общее время выполнения работы – **180 минут**.На II (аналитический) тур отводится **120 минут**.

Максимально возможное количество баллов, которое Вы можете набрать на аналитическом туре, составляет 80 баллов.

При ответе на задания запрещено пользоваться школьными и прочими атласами, справочными материалами, а также учебниками, мобильными телефонами, карманными компьютерами! Желаем успеха!

**Задание 1. «Знатоки-картографы».**

Вашему вниманию предоставляется фрагмент топографической карты участка местности (рис. 1). Необходимо его изучить и ответить на ряд вопросов. Результаты своего картографического исследования необходимо оформить в предложенной таблице 1.

Таблица 1

**Бланк ответа на задание 1**

№	Вопрос	Ответ
1.	Какая максимальная обозначенная абсолютная высота фиксируется на фрагменте топографической карты?	349,2 м 10
2.	Какие гидрографические объекты присутствуют на карте?	1. р. Сиверка 0,5 2. ср. Черный Яр 3. пр. Житкий 0,5 4. ручей 0,5 5. родник 0,5
3.	В каком направлении протекает река Сиверка на участке, обозначенном цифрой 1?	с юго-востока на северо-запад 1
4.	Какие объекты социальной инфраструктуры (сферы обслуживания) можно найти в пос. Тугарино?	ПТФ 0
5.	Какой элемент антропогенного рельефа обозначен цифрой 2?	Хурган (бухан) 1
6.	Что означает отметка +1,4 у предыдущего объекта?	высоту объекта от основания до вершины 1
7.	Какой объект обозначен цифрой 3?	Яма 1
8.	Через какой высотный промежуток проведены сплошные горизонталы на карте?	5 метров 1

Члены жюри (подписи) \_\_\_\_\_

№	Вопрос	Ответ
9.	Сможет ли преодолеть вброд реку Северка внедорожник, рассчитанный на преодоление водных преград глубиной до 1,5? Объясните, почему Вы так решили.	Да, т.к. глубина р. Северка 1,2 м, а внедорожник рассчитан на водные преграды м. до 1,5 м.
10.	К какой природной зоне относится местность, изображенная на представленном фрагменте топографической карты? Почему Вы так считаете? Постарайтесь привести два довода.	<p>Природная зона: <u>Широколиственные леса</u></p> <p>Обоснование: 1. На данной территории преобладают широколиственные растения (бер., осина, и т.д.), но совсем нет хвойных.</p>
11.	Разъедутся ли два транспортных средства, шириной по 3,7 м каждое, на шоссе, обозначенном 8(12)Б? Свой ответ объясните.	Да, т.к. ширина дорожки больше ширины двух грузовиков.

Максимальное количество баллов – 20.

(фактически набранное количество баллов)

Члены жюри (подписи) \_\_\_\_\_

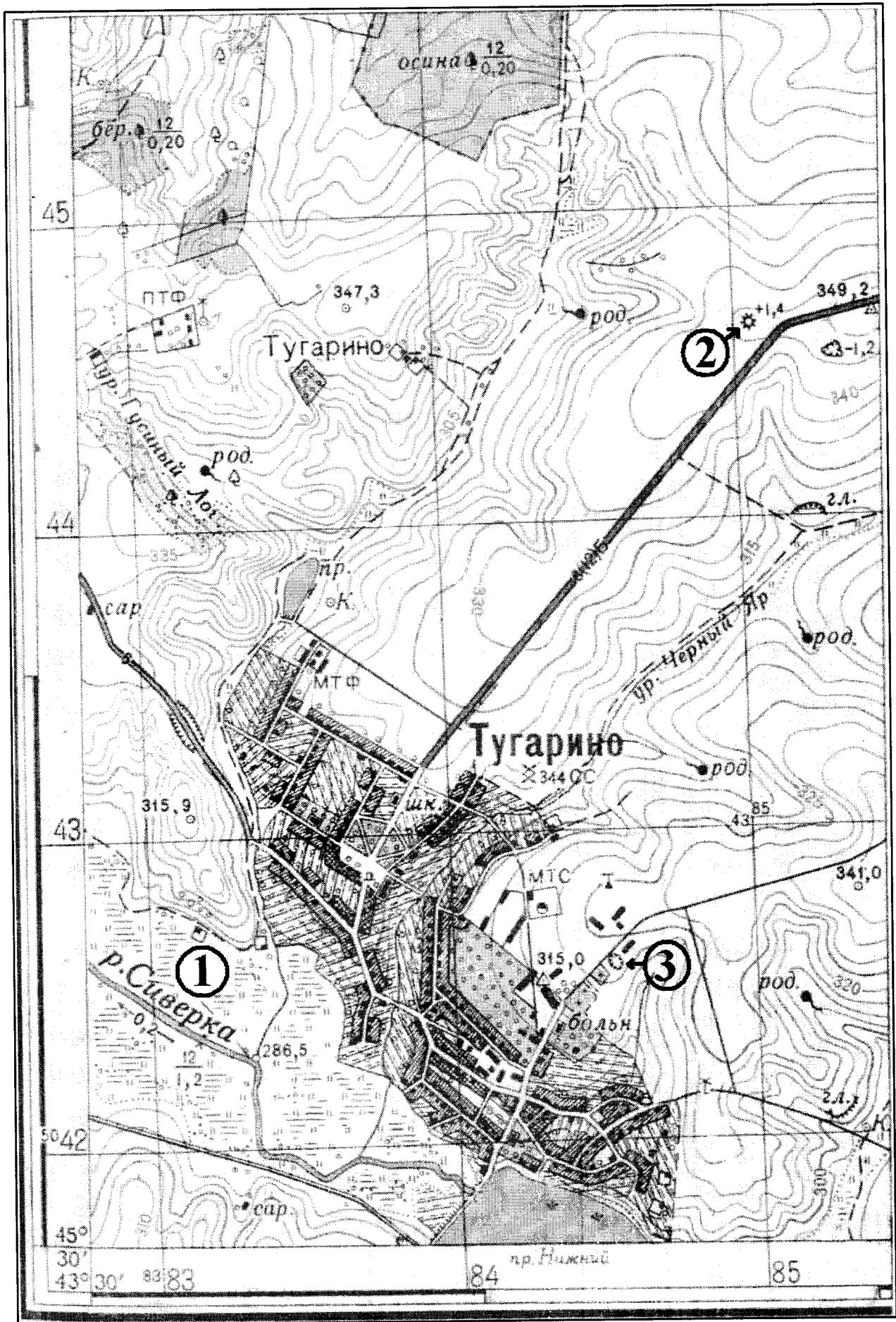


Рис. 1. Фрагмент топографической карты участка местности  
Члены жюри (подписи)





12 тыс. чел. 11. Исторически сложившаяся группа людей, обладающих общностью языка, культуры, психики, норм поведения и миропонимания, т.е. осознающих свою принадлежность к этой общности. 12. Размещение населения или совокупность населенных пунктов на какой-либо территории, сложившаяся в результате процесса ее освоения. 14. Место, расположенное вблизи берега моря или реки, устроенное для стоянки кораблей и судов, а также переработки грузов и пассажиропотоков. 15. Совокупность всех предприятий, производящих однотипную продукцию или оказывающих населению одинаковые виды услуг. 16. Сосредоточение производства какой-либо продукции на крупных предприятиях. 18. Въезд людей из одного государства в другое с целью временного пребывания или постоянного проживания. 19. Выезд за границу для постоянного проживания или работы.

### По вертикали:

2. Рост доли городских жителей, распространение городского образа жизни на все большую часть населения. 3. Территориальное скопление полезных ископаемых. 6. Наиболее крупная форма городского расселения, образующаяся в результате слияния большого числа соседних городских территориальных структур. 7. Наука о народонаселении (численности и воспроизводстве населения). 8. Малый населённый пункт, состоящий из одного, иногда нескольких домохозяйств; отдельная крестьянская усадьба с обособленным хозяйством. 11. Вывоз продукции из страны. 13. Ввоз иностранных товаров в страну. 17. Компактное скопление населённых пунктов, главным образом городских, местами срастающихся, объединённых в сложную многокомпонентную динамическую систему с интенсивными производственными, транспортными и культурными связями.

Максимальное количество баллов – 20.

### Задание 3. «По городам и весям России».

В таблице приведены неофициальные (альтернативные) названия российских регионов, сложившиеся исторически. Подумайте, каким регионам (большим их частям) принадлежат эти названия и почему. Результат оформите в виде таблицы (табл. 2).

Таблица 2

№	Неофициальное название	Официальное название региона	Причина такого названия
1.	Кубань. Говорят: «на Кубани».	Краснодарский край 1	Главная река в крае - Кубань
2.	Поморье		

Члены жюри (подписи) \_\_\_\_\_

№	Неофициальное название	Официальное название региона	Причина такого названия
3.	Таврида		
4.	Ситцевый край (ситцевое царство), его столица называлась «городом невест».	Название региона: _____ _____ Название столицы региона: _____	Объяснение названия региона:  Объяснение названия его столицы:
5.	Северная Пальмира		<div data-bbox="975 1767 1497 1872" style="border: 1px solid black; padding: 5px; margin: 20px auto; width: fit-content;">                         Кодификатор участия                     </div>

Члены жюри (подписи) \_\_\_\_\_

№	Неофициальное название	Официальное название региона	Причина такого названия
6.	Янтарный край	Калининградская область 1	Наибольшее в мире месторождение янтаря. 1
7.	Югра (является частью официального названия этого региона)		
8.	Кузбасс	Кирзнецкий бассейн. 0	Крупное месторождение качественного каменного угля. 1
9.	Прикамье		

Максимально возможное количество баллов – 20.

(фактически набранное количество баллов) 56

**Задание 4. «Обычай и традиции стран мира».**

Многие страны и народы мира выделяются интересными традициями и обычаями, особенностями этикета, церемониями, праздниками. При визите в эти страны необходимо в какой-то степени уметь ориентироваться в этих традициях. Постарайтесь определить, в

Члены жюри (подписи) \_\_\_\_\_

каких странах приняты те или иные традиции, обычаи или ритуалы. Результат своего исследования оформите в виде предложенной таблицы (табл. 3).

Таблица 3

№	Описание традиции	Традиция и страна, в которой она принята
1.	Жители этих стран 2 февраля собираются около нор сурков и внимательно следят, когда животное выйдет. Согласно поверью, если оно выйдет из норы в пасмурный день, то весна придет рано. А если сурок выйдет в солнечный день, увидит свою тень и снова уйдет в нору, то холодная погода будет еще сохраняться на протяжении шести недель.	1. Название традиции: _____ 2. Страны: 1) _____ 2) _____
2.	Хотя плевков считается грубым действием во многих культурах, в этом племени это обычный способ приветствовать и проявлять уважение. Члены племени поплюют на руки, прежде чем пожать их, проделывая то же самое с новорожденными детьми и даже невестой, чтобы благословить их и принести им удачу.	Укажите племя: _____ Укажите два государства, где проживает это племя: 1. _____ 2. _____
3.	В период майских и июньских праздников и фестивалей в небольшом городке Кастильо де Мурсия проходит шокирующий ритуал очищения Эль Колачо. Это прыжки через младенцев. Подобный ритуал призван очистить души младенцев и унести с собой все зло и болезни.	Страна: <u>Испания</u> 28
4.	Когда жители этой страны говорят «да», они отрицательно качают головой, когда говорит «нет», наоборот, кивают ей. Предание гласит, что во времена османского владычества жители страны специально поменяли жесты согласия и отрицания, чтобы обманывать турков. Когда турки требовали отречься от Христа, они приставляли к шее острый кинжал. Отрицательные движение головой приводили к перерезанию горла. Чтобы избежать смерти и не отречься от Христа, и поменяли жесты местами.	Страна: _____
5.	Жители этой страны никогда не говорят слово «нет», стараются заменить его другой вежливой фразой или отойти от темы. Не принято отказывать человеку. В этой стране не принято пожимать руки при встрече, вместо этого люди кланяются. В метро есть специальные дежурные, которые буквально запикивают людей в вагоны и утрамбовывают их. Многие улицы не имеют названий, дома указываются описательно или по номеру внутри квартала.	Страна: _____
6.	В этой стране тех, кто до 25 лет не встретил свою вторую половину, ждет интересная участь. Им друзья презентуют длинные гирлянды из носков. Притом из разноцветных. И чем длиннее гирлянда, тем лучше. Подобные украшения могут развесить не только в доме холостяков, но и во дворе. Чтобы все видели, что в этом доме можно познакомиться с будущим мужем или женой. А бывает и так, что гирлянды не дают снимать, пока хозяин или хозяйка не найдут свою пару.	Страна: _____

Члены жюри (подписи) \_\_\_\_\_

№	Описание традиции	Традиция и страна, в которой она принята
7.	В одном из городов этой страны (Буньоль) в последнюю неделю августа ежегодно проходит фестиваль Томатина. Этот праздник сопровождается танцами, музыкой, фейерверками и всевозможными угощениями. А главная традиция – бой томатами. Это поистине «томатное безумие», которое продолжается целый час. Тысячи людей из многих стран съезжаются, чтобы принять участие в необычном сражении. Единственным оружием служат томаты.	Страна: _____
8.	Спиливание зубов. Этот ритуал является одним из самых важных у жителей страны. Все подростки в возрасте 18 лет должны перетерпеть спиливание верхних боковых клыков. Жители свято верят в то, что острые зубы являются символом злых духов. Это делается для того, чтобы лишить человека семи главных «демонических грехов». Это вождление и похоть, надменность и высокомерие, жадность и стяжательство, ярость и злоба, неоправданное плохое настроение, беспричинная ревность, беспробудное пьянство. И если эти клыки не спилить, то человек после смерти не сможет попасть на небеса. Эта священная церемония проходит в храме. Священник самым обычным напильником спиливает верхние боковые клыки. Затем всю зубную пыль в торжественной обстановке закапывают в семейном храме.	Страна: _____
9.	Отсутствие числа 4 в лифтах. На языке этой страны число четыре считается символом несчастий и неудач. Это суеверие возникло из-за того, что слова «четыре» и «смерть» созвучны между собой. Именно поэтому во многих лифтах в стране отсутствует число 4. Вместо него можно встретить альтернативные варианты написания, например: 3+1 или 3 b.	Страна: <u>Япония</u>

Максимальное количество баллов – 20.

(фактически набранное количество баллов)

Максимальное количество баллов за аналитический тур – 80

Члены жюри (подписи) \_\_\_\_\_

Код / шифр участника

10-09-20
----------

**БЛАНК ЗАДАНИЙ****муниципального этапа всероссийской олимпиады школьников****по географии**

(предмет)

**I ТУР (ТЕСТОВЫЙ)**

1/18

**2021/2022 учебный год****9 класс**Общее время выполнения работы – **180 минут**.На выполнение заданий I (тестового) тура отводится **60 минут**. На II (аналитический) тур отводится **120 минут**.

При ответе на задания запрещено пользоваться школьными и прочими атласами, справочными материалами, а также учебниками, мобильными телефонами, карманными компьютерами! Желаем успеха!

Ответьте на поставленные вопросы, выбрав **один** правильный вариант ответа. При ответе на вопросы будьте очень внимательны, так как некоторые вопросы требуют определить неверный вариант или имеют формулировку с отрицанием.**Не забудьте перенести свои ответы в бланк ответов (таблица)!**

1. Укажите вариант ответа, в котором правильно указано направление внутренних межрайонных миграций в России в 20-х годах XXI века:

- 1) из Дальневосточного и Сибирского федеральных округов в Центральный и Северо-Западный;
- 2) из Уральского и Приволжского федеральных округов в Северо-Кавказский и Южный;
- 3) из Центрального и Северо-Западного федеральных округов в Сибирский и Дальневосточный;
- 4) из Центрального и Северо-Западного федеральных округов в Северо-Кавказский и Южный.

2. Выберите пару портов, которые расположены на разных морях России:

- 1) Калининград и Санкт-Петербург;  2) Новороссийск и Туапсе;
- 3) Мурманск и Архангельск; 4) Владивосток и Находка.

3. Выберите вариант ответа, в котором присутствуют только столицы автономных округов России:

- 1) Петрозаводск, Сыктывкар, Элиста; 2) Москва, Санкт-Петербург, Севастополь;
- 3) Ханты-Мансийск, Нарьян-Мар, Салехард; 4) Екатеринбург, Биробиджан, Владивосток.

4. Укажите сочетание, в котором указаны столицы регионов России, граничащих со странами ЕС (Евросоюз):

- 1) Москва, Тверь, Брянск; 2) Псков, Петрозаводск, Мурманск;
- 3) Владивосток, Анадырь, Благовещенск;  4) Смоленск, Орел, Курск.

5. Выберите вариант ответа, в котором правильно указано соотношение « субъект Российской Федерации – название курорта»:

- 1) Ленинградская обл. – Марциальные Воды;
- 2) Ставропольский край – Кавказские Минеральные Воды;
- 3) Кемеровская обл. – Белокуриха; 4) Респ. Крым – Геленджик.

6. Выберите вариант ответа, в котором указана пара регионов России, самыми первыми встречающих Новый год:

- 1) Магаданская обл., Респ. Якутия; 2) Приморский край, Хабаровский край;
- 3) Камчатский край, Чукотский авт. округ; 4) Амурская обл., Забайкальский край.

7. Укажите правильное соотношение «природный ресурс – вид природных ресурсов»:

- 1) лес – неисчерпаемые; 2) энергия ветра – исчерпаемые возобновимые;
- 3) плодородие почв – исчерпаемые невозобновимые;
- 4) пресная вода – исчерпаемые возобновимые.

8. В каком варианте ответа верно указано соотношение «горная вершина – субъект РФ»:

- 1) Эльбрус – Ставропольский край;  2) Белуха – Респ. Алтай;
- 3) г. Народная – Свердловская область; 4) Ключевская Сопка – Сахалинская обл.

9. Выберите правильное соотношение «столица субъекта РФ – река, на которой она стоит»:

- 1) г. Краснодар – р. Кубань; 2) г. Новосибирск – р. Енисей; 3) г. Челябинск – р. Урал;
- 4) г. Воронеж – р. Волга.

10. Определите вариант ответа, в котором указаны регионы, реки которых имеют половодье в теплый сезон года (летом):

- 1) Калининградская обл., Псковская обл., Новгородская обл.;
- 2) Волгоградская обл., Пензенская обл., Оренбургская обл.;
- 3) Краснодарский край, Респ. Адыгея, Ростовская обл.;
- 4) Хабаровский край, Еврейская авт. обл., Амурская обл.

11. На территории какого субъекта РФ находится первая и единственная в стране приливная электростанция:

- 1) Камчатский край; 2) Чукотский авт. округ; 3) Мурманская обл.; 4) Ленинградская обл.

12. На территории какого современного региона России находится родина старинного русского промысла хохлома (хохломская роспись):

- 1) Костромская обл.;  2) Нижегородская обл.; 3) Владимирская обл.; 4) Московская обл.

13. Выберите вариант, в котором представлены только специализирующиеся на добыче угля регионы России:

- 1) Астраханская обл., Респ. Калмыкия, Респ. Карачаево-Черкессия;
- 2) Пермский край, Свердловская обл., Респ. Татарстан;
- 3) Липецкая обл., Тамбовская обл., Воронежская обл.;
- 4) Респ. Якутия, Кемеровская обл., Красноярский край.



14. Выберите сочетание регионов Центрального федерального округа с наибольшей долей электроэнергии, выработанной на АЭС:

- 1) Белгородская обл., Брянская обл., Владимирская обл.;
- 2) Ивановская обл., Калужская обл., Костромская обл.;
- 3) Курская обл., Смоленская обл., Тверская обл.;
- 4) Ростовская обл., Саратовская обл., Воронежская обл.

15. Выберите вариант ответа, в котором представлены города с самыми высоким температурами самого холодного месяца в году:

- 1) Владивосток, Южно-Сахалинск, Петропавловск Камчатский;
- 2) Ростов на Дону, Волгоград, Астрахань;
- 3) Улан-Удэ, Барнаул, Горно-Алтайск.
- 4) Сочи, Ялта, Севастополь.

16. Какие крупные города Вы проедете, путешествуя прямым маршрутом на поезде из Москвы в Крым:

- 1) Рязань, Воронеж, Ростов-на-Дону;
- 2) Ярославль, Пермь, Екатеринбург;
- 3) Санкт-Петербург, Петрозаводск, Мурманск;
- 4) Курган, Красноярск, Иркутск.

17. В какие регионы России Вы организуете тур, чтобы насладиться красотой пещер:

- 1) Краснодарский край и Респ. Адыгея, Крым, Пермский край;
- 2) Респ. Карелия, Мурманская обл., Респ. Коми;
- 3) Саратовская обл., Оренбургская обл., Пензенская обл.;
- 4) Тульская обл., Орловская обл., Курская обл.

18. Какая из групп факторов размещения преобладает в настоящее время при выборе места для строительства завода по производству автомобилей:

- 1) сырьевой и топливный; 2) энергетический и водный;
- 3) потребительский и экологический;  4) географического положения, транспортный.

19. Выберите сочетание регионов России с максимально неблагоприятными природными условиями проживания:

- 1) Омская обл., Новосибирская обл., Иркутская обл.;
- 2) Астраханская обл., Респ. Кабардино-Балкария, Респ. Дагестан;
- 3) Архангельская обл., Ямало-Ненецкий авт. окр., Респ. Якутия;
- 4) Приморский край, Забайкальский край, Респ. Хакасия.

20. Выберите группу, где указаны физико-географические объекты России, на территории которых фиксируется максимальная плотность населения:

- 1) Тиманский кряж, Северные Увалы, горы Хибинны;
- 2) Среднерусская возв., Приволжская возв, Ставропольская возв;
- 3) Северо-Сибирская низм., Алданское нагорье, плато Путорана;
- 4) Колымская низм, Западно-Сибирская равнина, Яно-Индибирская низм.

**Максимальное количество баллов – 20.**

## Бланк ответов

№ задания	Ответ	№ задания	Ответ
1.	1	11.	<del>1</del>
2.	<del>2</del>	12.	2
3.	3	13.	4
4.	<del>4</del>	14.	<del>2</del>
5.	2	15.	4
6.	3	16.	1
7.	4	17.	<del>2</del>
8.	2	18.	4
9.	31	19.	3
10.	<del>3</del>	20.	2

Член жюри : \_\_\_\_\_  
(подписи)

145  
(фактически,  
набранное,  
количество баллов)

Код /шифр участника

09-15

**БЛАНК ЗАДАНИЙ**

9 + 38,5 = 47,5

**муниципального этапа всероссийской олимпиады школьников****по географии**

(предмет)

**II ТУР (АНАЛИТИЧЕСКИЙ)****2021/2022 учебный год****9 класс**Общее время выполнения работы – **180 минут.**На II (аналитический) тур отводится **120 минут.**

Максимально возможное количество баллов, которое Вы можете набрать на аналитическом туре, составляет 80 баллов.

При ответе на задания запрещено пользоваться школьными и прочими атласами, справочными материалами, а также учебниками, мобильными телефонами, карманными компьютерами! Желаем успеха!

**Задание 1. «Знатоки-картографы».**

Вашему вниманию предоставляется фрагмент топографической карты участка местности (рис. 1). Необходимо его изучить и ответить на ряд вопросов. Результаты своего картографического исследования необходимо оформить в предложенной таблице 1.

Таблица 1

**Бланк ответа на задание 1**

№	Вопрос	Ответ
1.	Какая максимальная обозначенная абсолютная высота фиксируется на фрагменте топографической карты?	349,2 1
2.	Какие гидрографические объекты присутствуют на карте?	1. р. Сиверка +95 2. пр. Мисский т.с 3. ур. Тусинский Пог-15 4. ур. Черной Яр- 5. родник +95
3.	В каком направлении протекает река Сиверка на участке, обозначенном цифрой 1?	северо-запад 1
4.	Какие объекты социальной инфраструктуры (сферы обслуживания) можно найти в пос. Тугарино?	школа, больница 1
5.	Какой элемент антропогенного рельефа обозначен цифрой 2?	вулкан 0
6.	Что означает отметка +1,4 у предыдущего объекта?	
7.	Какой объект обозначен цифрой 3?	обрат 0
8.	Через какой высотный промежуток проведены сплошные горизонтالي на карте?	1 0

Члены жюри (подписи) \_\_\_\_\_

№	Вопрос	Ответ
9.	Сможет ли преодолеть вброд реку Сиверка внедорожник, рассчитанный на преодоление водных преград глубиной до 1,5? Объясните, почему Вы так решили.	Да, т.к. максимальная глубина реки Сиверка 0,2 м.
10.	К какой природной зоне относится местность, изображенная на представленном фрагменте топографической карты? Почему Вы так считаете? Постарайтесь привести два довода.	Природная зона: <u>смешанные леса</u> Обоснование: 1. Песчаная местность 2. Болотистая местность
11.	Разъедутся ли два транспортных средства, шириной по 3,7 м каждое, на шоссе, обозначенном 8(12)Б? Свой ответ объясните.	Да, т.к. ширина шоссе 12 м.

Максимальное количество баллов – 20.

(фактически набранное количество баллов)

Члены жюри (подписи) \_\_\_\_\_

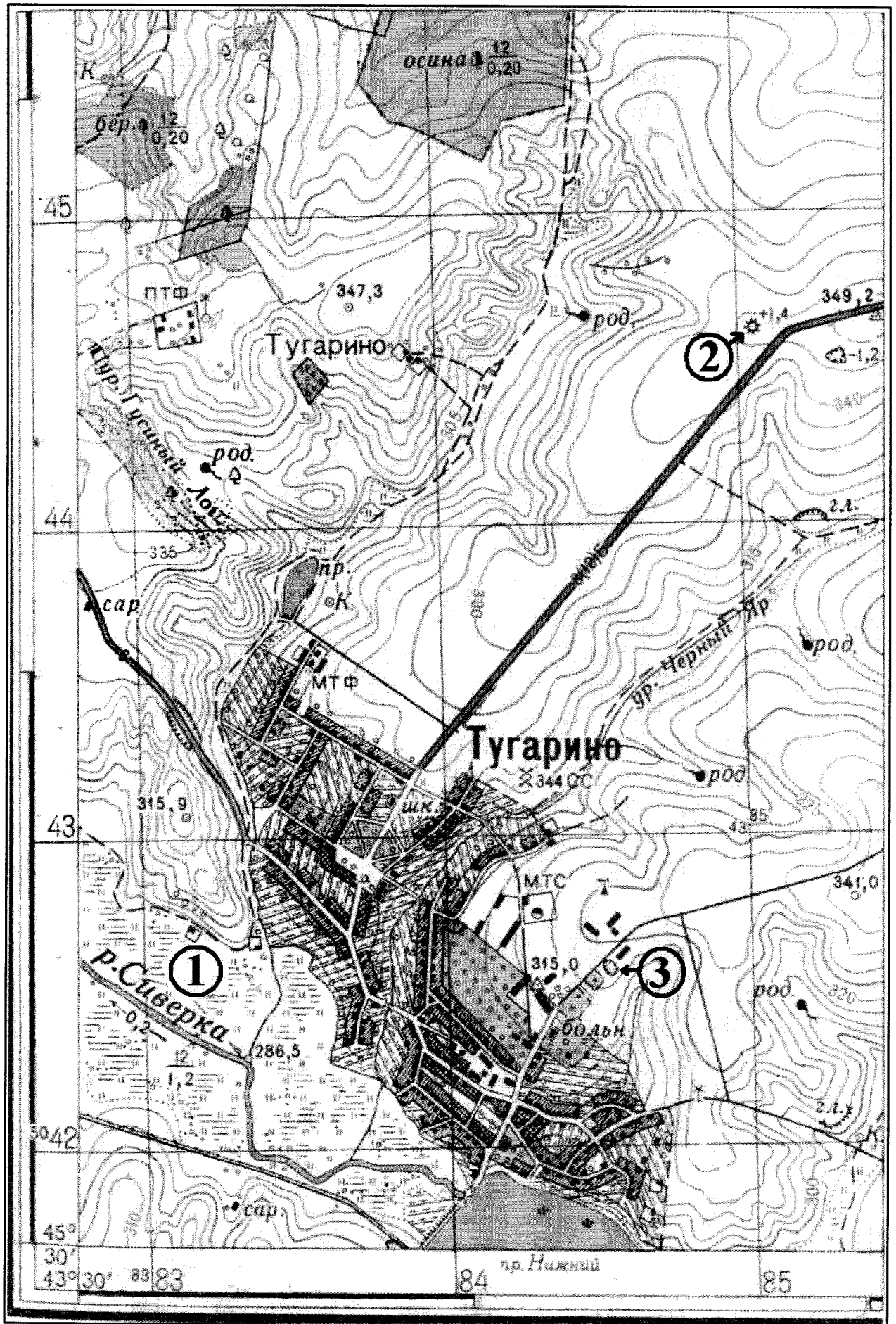



Рис. 1. Фрагмент топографической карты участка местности Члены жюри (подписи)

**Задание 2. «Географическая разминка: термины экономической географии».**

Разгадайте географический кроссворд. Обратите внимание, что задания под одинаковыми номерами могут быть как по вертикали, так и по горизонтали.

**По горизонтали:**

1. Сочетание производств, основанное на последовательной обработке сырья, комплексном использовании сырья и утилизации отходов. 4. Форма государственного устройства, при котором государство имеет в своем составе самоуправляемые образования. 5. Место схождения (расхождения) нескольких транспортных путей (дорог), где осуществляется перевалка грузов или пересадка пассажиров, а также сортировка транспортных средств. 9. Административная казачья сельская единица, состоит из одного или нескольких казачьих поселений. Распространены такие поселения в основном в южной части Европейской территории России. 10. Населенный пункт, в котором более 85% населения занято несельскохозяйственной деятельностью и численностью населения более

(фактически  
набранное  
количество баллов)

Члены жюри (подписи) \_\_\_\_\_

12 тыс. чел. 11. Исторически сложившаяся группа людей, обладающих общностью языка, культуры, психики, норм поведения и миропонимания, т.е. осознающих свою принадлежность к этой общности. 12. Размещение населения или совокупность населенных пунктов на какой-либо территории, сложившаяся в результате процесса ее освоения. 14. Место, расположенное вблизи берега моря или реки, устроенное для стоянки кораблей и судов, а также переработки грузов и пассажиропотоков. 15. Совокупность всех предприятий, производящих однотипную продукцию или оказывающих населению одинаковые виды услуг. 16. Сосредоточение производства какой-либо продукции на крупных предприятиях. 18. Въезд людей из одного государства в другое с целью временного пребывания или постоянного проживания. 19. Выезд за границу для постоянного проживания или работы.

**По вертикали:**

2. Рост доли городских жителей, распространение городского образа жизни на все большую часть населения. 3. Территориальное скопление полезных ископаемых. 6. Наиболее крупная форма городского расселения, образующаяся в результате слияния большого числа соседних городских территориальных структур. 7. Наука о народонаселении (численности и воспроизводстве населения). 8. Малый населённый пункт, состоящий из одного, иногда нескольких домохозяйств; отдельная крестьянская усадьба с обособленным хозяйством. 11. Вывоз продукции из страны. 13. Ввоз иностранных товаров в страну. 17. Компактное скопление населённых пунктов, главным образом городских, местами срастающихся, объединённых в сложную многокомпонентную динамическую систему с интенсивными производственными, транспортными и культурными связями.

**Максимальное количество баллов – 20.**

**Задание 3. «По городам и весям России».**

В таблице приведены неофициальные (альтернативные) названия российских регионов, сложившиеся исторически. Подумайте, каким регионам (большим их частям) принадлежат эти названия и почему. Результат оформите в виде таблицы (табл. 2).

Таблица 2

№	Неофициальное название	Официальное название региона	Причина такого названия
1.	Кубань. Говорят: «на Кубани».	Краснодарский край ↑	Область находится на реке Кубань. ↑
2.	Поморье	Приморский край 0	Область находится возле моря. 0

Члены жюри (подписи) \_\_\_\_\_

№	Неофициальное название	Официальное название региона	Причина такого названия
3.	Таврида	Республика Крым ↑	
4.	Ситцевый край (ситцевое царство), его столица называлась «городом невест».	<p>Название региона: <u>Ивановская область</u> ↑</p> <p>Название столицы региона: <u>Иваново</u> ↑</p>	<p>Объяснение названия региона: В области находится производство ситца. ↑</p> <p>Объяснение названия его столицы: Из этого материала шили свадебные платья. 0</p>
5.	Северная Пальмира		<div data-bbox="970 1771 1497 1877" style="border: 1px solid black; padding: 5px; width: fit-content; margin: 0 auto;">Код/шифр участка</div>



№	Неофициальное название	Официальное название региона	Причина такого названия
6.	Янтарный край	Калининградская область 1	В области находится самое большое месторождение янтаря в мире. 1
7.	Югра (является частью официального названия этого региона)	Тюменская область 0	
8.	Кузбасс	Челябинская область 0	
9.	Прикамье	Камчатский край 0	Область находится рядом с рекой Камья. 1

Максимально возможное количество баллов – 20.

(фактически набранное количество баллов)

#### Задание 4. «Обычай и традиции стран мира».

Многие страны и народы мира выделяются интересными традициями и обычаями, особенностями этикета, церемониями, праздниками. При визите в эти страны необходимо в какой-то степени уметь ориентироваться в этих традициях. Постарайтесь определить, в

Члены жюри (подписи) \_\_\_\_\_

каких странах приняты те или иные традиции, обычаи или ритуалы. Результат своего исследования оформите в виде предложенной таблицы (табл. 3).

Таблица 3

№	Описание традиции	Традиция и страна, в которой она принята
1.	Жители этих стран 2 февраля собираются около нор сурков и внимательно следят, когда животное выйдет. Согласно поверью, если оно выйдет из норы в пасмурный день, то весна придет рано. А если сурок выйдет в солнечный день, увидит свою тень и снова уйдет в нору, то холодная погода будет еще сохраняться на протяжении шести недель.	1. Название традиции: <u>День Сурка 1</u> 2. Страны: 1) <u>США 1</u> 2) <u>Великобритания 1</u>
2.	Хотя плевков считается грубым действием во многих культурах, в этом племени это обычный способ приветствовать и проявлять уважение. Члены племени поплюют на руки, прежде чем пожать их, проделывая то же самое с новорожденными детьми и даже невестой, чтобы благословить их и принести им удачу.	Укажите племя: <u>Индейцы 0</u> Укажите два государства, где проживает это племя: 1. <u>США 0</u> 2. <u>Мексика 0</u>
3.	В период майских и июньских праздников и фестивалей в небольшом городке Кастильо де Мурсия проходит шокирующий ритуал очищения Эль Колачо. Это прыжки через младенцев. Подобный ритуал призван очистить души младенцев и унести с собой все зло и болезни.	Страна: <u>Испания 2</u>
4.	Когда жители этой страны говорят «да», они отрицательно качают головой, когда говорит «нет», наоборот, кивают ей. Предание гласит, что во времена османского владычества жители страны специально поменяли жесты согласия и отрицания, чтобы обманывать турков. Когда турки требовали отречься от Христа, они приставляли к шее острый кинжал. Отрицательные движение головой приводили к перерезанию горла. Чтобы избежать смерти и не отречься от Христа, и поменяли жесты местами.	Страна: _____
5.	Жители этой страны никогда не говорят слово «нет», стараются заменить его другой вежливой фразой или отойти от темы. Не принято отказывать человеку. В этой стране не принято пожимать руки при встрече, вместо этого люди кланяются. В метро есть специальные дежурные, которые буквально запикивают людей в вагоны и утрамбовывают их. Многие улицы не имеют названий, дома указываются описательно или по номеру внутри квартала.	Страна: <u>Япония 2</u>
6.	В этой стране тех, кто до 25 лет не встретил свою вторую половину, ждет интересная участь. Им друзья презентуют длинные гирлянды из носков. Притом из разноцветных. И чем длиннее гирлянда, тем лучше. Подобные украшения могут развесить не только в доме холостяков, но и во дворе. Чтобы все видели, что в этом доме можно познакомиться с будущим мужем или женой. А бывает и так, что гирлянды не дают снимать, пока хозяин или хозяйка не найдут свою пару.	Страна: <u>Китай 0</u>

Члены жюри (подписи) \_\_\_\_\_

№	Описание традиции	Традиция и страна, в которой она принята
7.	В одном из городов этой страны (Буньоль) в последнюю неделю августа ежегодно проходит фестиваль Томатина. Этот праздник сопровождается танцами, музыкой, фейерверками и всевозможными угощениями. А главная традиция – бой томатами. Это поистине «томатное безумие», которое продолжается целый час. Тысячи людей из многих стран съезжаются, чтобы принять участие в необычном сражении. Единственным оружием служат томаты.	Страна: <u>Испания</u> <sup>2</sup>
8.	Спиливание зубов. Этот ритуал является одним из самых важных у жителей страны. Все подростки в возрасте 18 лет должны перетерпеть спиливание верхних боковых клыков. Жители свято верят в то, что острые зубы являются символом злых духов. Это делается для того, чтобы лишить человека семи главных «демонических грехов». Это вождление и похоть, надменность и высокомерие, жадность и стяжательство, ярость и злоба, неоправданное плохое настроение, беспричинная ревность, беспробудное пьянство. И если эти клыки не спилить, то человек после смерти не сможет попасть на небеса. Эта священная церемония проходит в храме. Священник самым обычным напильником спиливает верхние боковые клыки. Затем всю зубную пыль в торжественной обстановке закапывают в семейном храме.	Страна: <u>Индия</u> <sup>0</sup>
9.	Отсутствие числа 4 в лифтах. На языке этой страны число четыре считается символом несчастий и неудач. Это суеверие возникло из-за того, что слова «четыре» и «смерть» созвучны между собой. Именно поэтому во многих лифтах в стране отсутствует число 4. Вместо него можно встретить альтернативные варианты написания, например: 3+1 или 3 b.	Страна: <u>Япония</u> <sup>0</sup>

Максимальное количество баллов – 20.

(фактически набранное количество баллов)

Максимальное количество баллов за аналитический тур – 80

Члены жюри (подписи) \_\_\_\_\_

**Бланк ответов**

№ задания	Ответ	№ задания	Ответ
1.	1 +	11.	1 +
2.	4	12.	1
3.	4	13.	3
4.	2 +	14.	2
5.	2 +	15.	4 +
6.	2	16.	1 +
7.	4 +	17.	1 +
8.	4	18.	3
9.	3	19.	3 +
10.	3	20.	2 +

Член жюри : \_\_\_\_\_  
(подписи)

(фактически  
набранное  
количество баллов)

Код /шифр участника

10-08-21

## БЛАНК ЗАДАНИЙ

110 + 35 = 465

муниципального этапа всероссийской олимпиады школьников

по географии

(предмет)

## II ТУР (АНАЛИТИЧЕСКИЙ)

2021/2022 учебный год

9 класс

Общее время выполнения работы – 180 минут.

На II (аналитический) тур отводится 120 минут.

Максимально возможное количество баллов, которое Вы можете набрать на аналитическом туре, составляет 80 баллов.

При ответе на задания запрещено пользоваться школьными и прочими атласами, справочными материалами, а также учебниками, мобильными телефонами, карманными компьютерами! Желаем успеха!

**Задание 1. «Знатоки-картографы».**

Вашему вниманию предоставляется фрагмент топографической карты участка местности (рис. 1). Необходимо его изучить и ответить на ряд вопросов. Результаты своего картографического исследования необходимо оформить в предложенной таблице 1.

Таблица 1

Бланк ответа на задание 1

№	Вопрос	Ответ
1.	Какая максимальная обозначенная абсолютная высота фиксируется на фрагменте топографической карты?	349,2 1
2.	Какие гидрографические объекты присутствуют на карте?	1. <u>прудик</u> 2. <u>колодец</u> 3. <u>речка Сивушка</u> 2 4. <u>болото</u> 5. <u>прудик Нижний</u>
3.	В каком направлении протекает река Сиверка на участке, обозначенном цифрой 1?	с юго-востока на северо-запад 1
4.	Какие объекты социальной инфраструктуры (сферы обслуживания) можно найти в пос. Тугарино?	школа, больница, МТС, МТФ. 1
5.	Какой элемент антропогенного рельефа обозначен цифрой 2?	курган 1
6.	Что означает отметка +1,4 у предыдущего объекта?	+1,4 м - высота кургана относительно равнины 1
7.	Какой объект обозначен цифрой 3?	яма 1
8.	Через какой высотный промежуток проведены сплошные горизонталы на карте?	через 5 м 2

Члены жюри (подписи) \_\_\_\_\_

№	Вопрос	Ответ
9.	Сможет ли преодолеть вброд реку Сиверка внедорожник, рассчитанный на преодоление водных преград глубиной до 1,5? Объясните, почему Вы так решили.	<p>сможет т.к. глубина реки Сиверки - 1,2 м, что меньше, чем 1,5 м внедорожника. 3</p>
10.	К какой природной зоне относится местность, изображенная на представленном фрагменте топографической карты? Почему Вы так считаете? Постарайтесь привести два довода.	<p>Природная зона: широколиственные леса</p> <p>Обоснование:            1) нет хвойных деревьев в лесах. <math>\Rightarrow</math> леса широколиственные (береза, осина)            2) много водоемов, заболоченные участки обуславливают обилие прудов: фруктовые сады, куртаны, леса. 0</p>
11.	Разъедутся ли два транспортных средства, шириной по 3,7 м каждое, на шоссе, обозначенном 8(12)Б? Свой ответ объясните.	<p>Разъедутся. суммарная ширина транспорт. ср-в = 7,4 м. А ширина проезжей части дороги = 8 м. <math>8 м - 7,4 м = 0,6 м</math>. - расстояние между машинами на дороге. 1</p>

Максимальное количество баллов – 20.


(фактически набранное количество баллов) 16

Члены жюри (подписи) \_\_\_\_\_



## Задание 2. «Географическая разминка: термины экономической географии».

Разгадайте географический кроссворд. Обратите внимание, что задания под одинаковыми номерами могут быть как по вертикали, так и по горизонтали.



### По горизонтали:

1. Сочетание производств, основанное на последовательной обработке сырья, комплексном использовании сырья и утилизации отходов. 4. Форма государственного устройства, при котором государство имеет в своем составе самоуправляемые образования. 5. Место схождения (расхождения) нескольких транспортных путей (дорог), где осуществляется перевалка грузов или пересадка пассажиров, а также сортировка транспортных средств. 9. Административная казачья сельская единица, состоит из одного или нескольких казачьих поселений. Распространены такие поселения в основном в южной части Европейской территории России. 10. Населенный пункт, в котором более 85% населения занято несельскохозяйственной деятельностью и численностью населения более

(фактически  
набранные  
количество баллов) 10

Члены жюри (подписи) \_\_\_\_\_



12 тыс. чел. ⑪ Исторически сложившаяся группа людей, обладающих общностью языка, культуры, психики, норм поведения и миропонимания, т.е. осознающих свою принадлежность к этой общности. 12. Размещение населения или совокупность населенных пунктов на какой-либо территории, сложившаяся в результате процесса ее освоения. ⑭ Место, расположенное вблизи берега моря или реки, устроенное для стоянки кораблей и судов, а также переработки грузов и пассажиропотоков. 15. Совокупность всех предприятий, производящих однотипную продукцию или оказывающих населению одинаковые виды услуг. 16. Сосредоточение производства какой-либо продукции на крупных предприятиях. 18. Въезд людей из одного государства в другое с целью временного пребывания или постоянного проживания. 19. Выезд за границу для постоянного проживания или работы.

**По вертикали:**

② Рост доли городских жителей, распространение городского образа жизни на все большую часть населения. 3. Территориальное скопление полезных ископаемых. 6. Наиболее крупная форма городского расселения, образующаяся в результате слияния большого числа соседних городских территориальных структур. ⑦ Наука о народонаселении (численности и воспроизводстве населения). ⑧ Малый населённый пункт, состоящий из одного, иногда нескольких домохозяйств; отдельная крестьянская усадьба с обособленным хозяйством. ① Вывоз продукции из страны. ⑬ Ввоз иностранных товаров в страну. 17. Компактное скопление населённых пунктов, главным образом городских, местами срастающихся, объединённых в сложную многокомпонентную динамическую систему с интенсивными производственными, транспортными и культурными связями.

**Максимальное количество баллов – 20.**

**Задание 3. «По городам и весям России».**

В таблице приведены неофициальные (альтернативные) названия российских регионов, сложившиеся исторически. Подумайте, каким регионам (большим их частям) принадлежат эти названия и почему. Результат оформите в виде таблицы (табл. 2).

Таблица 2

№	Неофициальное название	Официальное название региона	Причина такого названия
1.	Кубань. Говорят: «на Кубани».	Краснодарский край 1	Расположен рядом с рекой Кубань. 1
2.	Поморье	Архангельский край —	Территории расположены по периметру моря. —

Члены жюри (подписи) \_\_\_\_\_

№	Неофициальное название	Официальное название региона	Причина такого названия
3.	Таврида		
4.	Ситцевый край (ситцевое царство), его столица называлась «городом невест».	Название региона: _____ _____ Название столицы региона: _____	Объяснение названия региона: <i>В этом регионе производили широкую ситцевую ткань.</i>  Объяснение названия его столицы: <i>невесты приезжали сюда, чтобы купить широкую ткань для платья.</i>
5.	Северная Пальмира		<p data-bbox="948 1794 1465 1895" style="text-align: center;">№ участника</p>

Члены жюри (подписи) \_\_\_\_\_

№	Неофициальное название	Официальное название региона	Причина такого названия
6.	Янтарный край	Кашинградская область 1	Большие скопления янтара в области из-за Балтийского моря. 1
7.	Югра (является частью официального названия этого региона)	—	Расположен на юге России.
8.	Кузбасс	Курская область	Расположен на территории бассейна, где добывают уголь.
9.	Прикамье	Красноярский край	Расположен <del>близ</del> к реке Каме. <del>близко</del>

Максимально возможное количество баллов – 20.

(фактически набранное количество баллов)

#### Задание 4. «Обычай и традиции стран мира».

Многие страны и народы мира выделяются интересными традициями и обычаями, особенностями этикета, церемониями, праздниками. При визите в эти страны необходимо в какой-то степени уметь ориентироваться в этих традициях. Постарайтесь определить, в

Члены жюри (подписи) \_\_\_\_\_

каких странах приняты те или иные традиции, обычаи или ритуалы. Результат своего исследования оформите в виде предложенной таблицы (табл. 3).

Таблица 3

№	Описание традиции	Традиция и страна, в которой она принята
1.	Жители этих стран 2 февраля собираются около нор сурков и внимательно следят, когда животное выйдет. Согласно поверью, если оно выйдет из норы в пасмурный день, то весна придет рано. А если сурок выйдет в солнечный день, увидит свою тень и снова уйдет в нору, то холодная погода будет еще сохраняться на протяжении шести недель.	1. Название традиции: _____ 2. Страны: 1) _____ 2) _____
2.	Хотя плевок считается грубым действием во многих культурах, в этом племени это обычный способ приветствовать и проявлять уважение. Члены племени плюют на руки, прежде чем пожать их, проделывая то же самое с новорожденными детьми и даже невестой, чтобы благословить их и принести им удачу.	Укажите племя: _____ Укажите два государства, где проживает это племя: 1. _____ 2. _____
3.	В период майских и июньских праздников и фестивалей в небольшом городке Кастильо де Мурсия проходит шокирующий ритуал очищения Эль Колачо. Это прыжки через младенцев. Подобный ритуал призван очистить души младенцев и унести с собой все зло и болезни.	Страна: <u>Испания</u> <sup>2</sup> <u>Италия</u>
4.	Когда жители этой страны говорят «да», они отрицательно качают головой, когда говорят «нет», наоборот, кивают ей. Предание гласит, что во времена османского владычества жители страны специально поменяли жесты согласия и отрицания, чтобы обманывать турков. Когда турки требовали отречься от Христа, они приставляли к шее острый кинжал. Отрицательные движение головой приводили к перерезанию горла. Чтобы избежать смерти и не отречься от Христа, и поменяли жесты местами.	Страна: <u>Румыния</u>
5.	Жители этой страны никогда не говорят слово «нет», стараются заменить его другой вежливой фразой или отойти от темы. Не принято отказывать человеку. В этой стране не принято пожимать руки при встрече, вместо этого люди кланяются. В метро есть специальные дежурные, которые буквально запикивают людей в вагоны и утрамбовывают их. Многие улицы не имеют названий, дома указываются описательно или по номеру внутри квартала.	Страна: <u>Япония</u> <sup>2</sup>
6.	В этой стране тех, кто до 25 лет не встретил свою вторую половину, ждет интересная участь. Им друзья презентуют длинные гирлянды из носков. Притом из разноцветных. И чем длиннее гирлянда, тем лучше. Подобные украшения могут развесить не только в доме холостяков, но и во дворе. Чтобы все видели, что в этом доме можно познакомиться с будущим мужем или женой. А бывает и так, что гирлянды не дают снимать, пока хозяин или хозяйка не найдут свою пару.	Страна: <u>Мексика</u>

Члены жюри (подписи) \_\_\_\_\_

№	Описание традиции	Традиция и страна, в которой она принята
7.	В одном из городов этой страны (Буньоль) в последнюю неделю августа ежегодно проходит фестиваль Томатина. Этот праздник сопровождается танцами, музыкой, фейерверками и всевозможными угощениями. А главная традиция – бой томатами. Это поистине «томатное безумие», которое продолжается целый час. Тысячи людей из многих стран съезжаются, чтобы принять участие в необычном сражении. Единственным оружием служат томаты.	0 Страна: <u>Италия</u>
8.	Спиливание зубов. Этот ритуал является одним из самых важных у жителей страны. Все подростки в возрасте 18 лет должны перетерпеть спиливание верхних боковых клыков. Жители свято верят в то, что острые зубы являются символом злых духов. Это делается для того, чтобы лишить человека семи главных «демонических грехов». Это вождление и похоть, надменность и высокомерие, жадность и стяжательство, ярость и злоба, неоправданное плохое настроение, беспричинная ревность, беспробудное пьянство. И если эти клыки не спилить, то человек после смерти не сможет попасть на небеса. Эта священная церемония проходит в храме. Священник самым обычным напильником спиливает верхние боковые клыки. Затем всю зубную пыль в торжественной обстановке закапывают в семейном храме.	0 Страна: <u>Египет</u>
9.	Отсутствие числа 4 в лифтах. На языке этой страны число четыре считается символом несчастий и неудач. Это суеверие возникло из-за того, что слова «четыре» и «смерть» созвучны между собой. Именно поэтому во многих лифтах в стране отсутствует число 4. Вместо него можно встретить альтернативные варианты написания, например: 3+1 или 3 b.	0 Страна: <u>Япония</u>

Максимальное количество баллов – 20.

(фактически)  
набранное  
количество баллов)

Максимальное количество баллов за аналитический тур – 80

Члены жюри (подписи) \_\_\_\_\_

Код /шифр участника

1<sup>0</sup> - 09 - 21**БЛАНК ЗАДАНИЙ****муниципального этапа всероссийской олимпиады школьников****по географии**

(предмет)

**I ТУР (ТЕСТОВЫЙ)****2021/2022 учебный год****9 класс**Общее время выполнения работы – **180 минут**.На выполнение заданий I (тестового) тура отводится **60 минут**. На II (аналитический) тур отводится **120 минут**.

При ответе на задания запрещено пользоваться школьными и прочими атласами, справочными материалами, а также учебниками, мобильными телефонами, карманными компьютерами! Желаем успеха!

Ответьте на поставленные вопросы, выбрав **один** правильный вариант ответа. При ответе на вопросы будьте очень внимательны, так как некоторые вопросы требуют определить неверный вариант или имеют формулировку с отрицанием.**Не забудьте перенести свои ответы в бланк ответов (таблица)!**

1. Укажите вариант ответа, в котором правильно указано направление внутренних межрайонных миграций в России в 20-х годах XXI века:

- ① из Дальневосточного и Сибирского федеральных округов в Центральный и Северо-Западный;
- 2) из Уральского и Приволжского федеральных округов в Северо-Кавказский и Южный;
- 3) из Центрального и Северо-Западного федеральных округов в Сибирский и Дальневосточный;
- 4) из Центрального и Северо-Западного федеральных округов в Северо-Кавказский и Южный.

2. Выберите пару портов, которые расположены на разных морях России:

- 1) Калининград и Санкт-Петербург; ② Новороссийск и Туапсе;
- 3) Мурманск и Архангельск; 4) Владивосток и Находка.

3. Выберите вариант ответа, в котором присутствуют только столицы автономных округов России:

- 1) Петрозаводск, Сыктывкар, Элиста; 2) Москва, Санкт-Петербург, Севастополь;
- ③ Ханты-Мансийск, Нарьян-Мар, Салехард; 4) Екатеринбург, Биробиджан, Владивосток.

4. Укажите сочетание, в котором указаны столицы регионов России, граничащих со странами ЕС (Евросоюз):

- 1) Москва, Тверь, Брянск; ② Псков, Петрозаводск, Мурманск;
- 3) Владивосток, Анадырь, Благовещенск; 4) Смоленск, Орел, Курск.

5. Выберите вариант ответа, в котором правильно указано соотношение «субъект Российской Федерации – название курорта»:
- 1) Ленинградская обл. – Марциальные Воды;
  - 2) Ставропольский край – Кавказские Минеральные Воды;
  - 3) Кемеровская обл. – Белокуриха; 4) Респ. Крым – Геленджик.
6. Выберите вариант ответа, в котором указана пара регионов России, самыми первыми встречающих Новый год:
- 1) Магаданская обл., Респ. Якутия; 2) Приморский край, Хабаровский край;
  - 3) Камчатский край, Чукотский авт. округ; 4) Амурская обл., Забайкальский край.
7. Укажите правильное соотношение «природный ресурс – вид природных ресурсов»:
- 1) лес – неисчерпаемые; 2) энергия ветра – исчерпаемые возобновимые;
  - 3) плодородие почв – исчерпаемые невозобновимые;
  - 4) пресная вода – исчерпаемые возобновимые.
8. В каком варианте ответа верно указано соотношение «горная вершина – субъект РФ»:
- 1) Эльбрус – Ставропольский край; 2) Белуха – Респ. Алтай;
  - 3) г. Народная – Свердловская область; 4) Ключевская Сопка – Сахалинская обл.
9. Выберите правильное соотношение «столица субъекта РФ – река, на которой она стоит»:
- 1) г. Краснодар – р. Кубань; 2) г. Новосибирск – р. Енисей; 3) г. Челябинск – р. Урал;
  - 4) г. Воронеж – р. Волга.
10. Определите вариант ответа, в котором указаны регионы, реки которых имеют половодье в теплый сезон года (летом):
- 1) Калининградская обл., Псковская обл., Новгородская обл.;
  - 2) Волгоградская обл., Пензенская обл., Оренбургская обл.;
  - 3) Краснодарский край, Респ. Адыгея, Ростовская обл.;
  - 4) Хабаровский край, Еврейская авт. обл., Амурская обл.
11. На территории какого субъекта РФ находится первая и единственная в стране приливная электростанция:
- 1) Камчатский край; 2) Чукотский авт. округ; 3) Мурманская обл.; 4) Ленинградская обл.
12. На территории какого современного региона России находится родина старинного русского промысла хохлома (хохломская роспись):
- 1) Костромская обл.; 2) Нижегородская обл.; 3) Владимирская обл.; 4) Московская обл.
13. Выберите вариант, в котором представлены только специализирующиеся на добыче угля регионы России:
- 1) Астраханская обл., Респ. Калмыкия, Респ. Карачаево-Черкессия;
  - 2) Пермский край, Свердловская обл., Респ. Татарстан;
  - 3) Липецкая обл., Тамбовская обл., Воронежская обл.;
  - 4) Респ. Якутия, Кемеровская обл., Красноярский край.

14. Выберите сочетание регионов Центрального федерального округа с наибольшей долей электроэнергии, выработанной на АЭС:

- ① Белгородская обл., Брянская обл., Владимирская обл.;
- 2) Ивановская обл., Калужская обл., Костромская обл.;
- 3) Курская обл., Смоленская обл., Тверская обл.;
- 4) Ростовская обл., Саратовская обл., Воронежская обл.

15. Выберите вариант ответа, в котором представлены города с самыми высокими температурами самого холодного месяца в году:

- 1) Владивосток, Южно-Сахалинск, Петропавловск Камчатский;
- 2) Ростов на Дону, Волгоград, Астрахань;
- 3) Улан-Удэ, Барнаул, Горно-Алтайск.
- ④ Сочи, Ялта, Севастополь.

16. Какие крупные города Вы проедете, путешествуя прямым маршрутом на поезде из Москвы в Крым:

- 1) Рязань, Воронеж, Ростов-на-Дону;
- ② Ярославль, Пермь, Екатеринбург;
- 3) Санкт-Петербург, Петрозаводск, Мурманск;
- 4) Курган, Красноярск, Иркутск.

17. В какие регионы России Вы организуете тур, чтобы насладиться красотой пещер:

- 1) Краснодарский край и Респ. Адыгея, Крым, Пермский край;
- ② Респ. Карелия, Мурманская обл., Респ. Коми;
- 3) Саратовская обл., Оренбургская обл., Пензенская обл.;
- 4) Тульская обл., Орловская обл., Курская обл.

18. Какая из групп факторов размещения преобладает в настоящее время при выборе места для строительства завода по производству автомобилей:

- 1) сырьевой и топливный; 2) энергетический и водный;
- ③ потребительский и экологический; 4) географического положения, транспортный.

19. Выберите сочетание регионов России с максимально неблагоприятными природными условиями проживания:

- 1) Омская обл., Новосибирская обл., Иркутская обл.;
- 2) Астраханская обл., Респ. Кабардино-Балкария, Респ. Дагестан;
- ③ Архангельская обл., Ямало-Ненецкий авт. окр., Респ. Якутия;
- 4) Приморский край, Забайкальский край, Респ. Хакасия.

20. Выберите группу, где указаны физико-географические объекты России, на территории которых фиксируется максимальная плотность населения:

- 1) Тиманский кряж, Северные Увалы, горы Хибин;
- ② Среднерусская возв., Приволжская возв, Ставропольская возв;
- 3) Северо-Сибирская низм., Алданское нагорье, плато Путорана;
- 4) Колымская низм, Западно-Сибирская равнина, Яно-Индибирская низм.

**Максимальное количество баллов – 20.**



**Бланк ответов**

№ задания	Ответ	№ задания	Ответ
1.	1 +	11.	<del>4</del>
2.	<del>2</del>	12.	<del>4</del>
3.	3 +	13.	4 +
4.	2 +	14.	<del>4</del>
5.	<del>3</del>	15.	4 +
6.	3 +	16.	<del>2</del>
7.	4 +	17.	2
8.	2 +	18.	<del>3</del>
9.	1 +	19.	3 +
10.	<del>2</del>	20.	2 +

Член жюри : \_\_\_\_\_  
(подпись)

125

(фактически  
набранное  
количество баллов)

Код /шифр участника

09-03

## БЛАНК ЗАДАНИЙ

12 + 28 = 40<sup>б</sup>

муниципального этапа всероссийской олимпиады школьников

по географии  
(предмет)

## II ТУР (АНАЛИТИЧЕСКИЙ)

2021/2022 учебный год

9 класс

Общее время выполнения работы – 180 минут.

На II (аналитический) тур отводится 120 минут.

Максимально возможное количество баллов, которое Вы можете набрать на аналитическом туре, составляет 80 баллов.

При ответе на задания запрещено пользоваться школьными и прочими атласами, справочными материалами, а также учебниками, мобильными телефонами, карманными компьютерами! Желаем успеха!

**Задание I. «Знатоки-картографы».**

Вашему вниманию предоставляется фрагмент топографической карты участка местности (рис. 1). Необходимо его изучить и ответить на ряд вопросов. Результаты своего картографического исследования необходимо оформить в предложенной таблице 1.

Таблица 1


Бланк ответа на задание I

№	Вопрос	Ответ
1.	Какая максимальная обозначенная абсолютная высота фиксируется на фрагменте топографической карты?	349,2 1
2.	Какие гидрографические объекты присутствуют на карте?	1. река 0,5 2. колодец 0,5 3. родник 0,5 2б 4. озеро - 5. болото 0,5
3.	В каком направлении протекает река Сиверка на участке, обозначенном цифрой 1?	в СЗ 1
4.	Какие объекты социальной инфраструктуры (сферы обслуживания) можно найти в пос. Тугарино?	МТС, МТОР, ПТОР 0
5.	Какой элемент антропогенного рельефа обозначен цифрой 2?	Холм 0
6.	Что означает отметка +1,4 у предыдущего объекта?	высота 1
7.	Какой объект обозначен цифрой 3?	аврал 0
8.	Через какой высотный промежуток проведены сплошные горизонтали на карте?	1 м 0

Члены жюри (подписи)

№	Вопрос	Ответ
9.	Сможет ли преодолеть вброд реку Сиверка внедорожник, рассчитанный на преодоление водных преград глубиной до 1,5? Объясните, почему Вы так решили.	<p>не сможет, т.к. глубина реки 10 м</p> <p>0</p>
10.	К какой природной зоне относится местность, изображенная на представленном фрагменте топографической карты? Почему Вы так считаете? Постарайтесь привести два довода.	<p>Природная зона: <u>смешанные леса</u></p> <p>Обоснование: примечает:</p> <p>① Березовая роща</p> <p>② осинная роща 0</p>
11.	Разъедутся ли два транспортных средства, шириной по 3,7 м каждое, на шоссе, обозначенном 8(12)Б? Свой ответ объясните.	<p>да, разъедутся, т.к.</p> <p>ширина шоссе = 12 м</p> <p>и ширина двух машин = 7,4 м</p> <p><math>7,4 &lt; 12</math> 1</p>

Максимальное количество баллов – 20.



Члены жюри (подписи) \_\_\_\_\_




Рис. 1. Фрагмент топографической карты участка местности  
Члены жюри (подписи)

Задание 2. «Географическая разминка: термины экономической географии».

Разгадайте географический кроссворд. Обратите внимание, что задания могут быть одинаковыми по номерам могут быть как по вертикали, так и по горизонтали.

3

1 промышленность

10 город

8

9 жакет

12 республика

7 ферма

15 область

14 порт

19 эмиграция

11 транспорт

2 торговля

18 иммиграция

По горизонтали:

1. Сочетание производств, основанное на последовательной обработке сырья, комплексном использовании сырья и утилизации отходов.
4. Форма государственного устройства, при котором государство имеет в своем составе самоуправляемые образования.
5. Место схождения (расхождения) нескольких транспортных путей (дорог), где осуществляется перевалка грузов или пересадка пассажиров, а также сортировка транспортных средств.
9. Административная казачья сельская единица, состоит из одного или нескольких казачьих поселений. Распространены такие поселения в основном в южной части Европейской территории России.
10. Населенный пункт, в котором более 85% населения занято несельскохозяйственной деятельностью и численностью населения более

Члены жюри (подписи)

Члены жюри  
9

12 тыс. чел. 11. Исторически сложившаяся группа людей, обладающих общностью языка, культуры, психики, норм поведения и миропонимания, т.е. осознающих свою принадлежность к этой общности. 12. Размещение населения или совокупность населенных пунктов на какой-либо территории, сложившаяся в результате процесса ее освоения. 14. Место, расположенное вблизи берега моря или реки, устроенное для стоянки кораблей и судов, а также переработки грузов и пассажиропотоков. 15. Совокупность всех предприятий, производящих однотипную продукцию или оказывающих населению одинаковые виды услуг. 16. Сосредоточение производства какой-либо продукции на крупных предприятиях. 18. Въезд людей из одного государства в другое с целью временного пребывания или постоянного проживания. 19. Въезд за границу для постоянного проживания или работы.

### По вертикали:

2. Рост доли городских жителей, распространение городского образа жизни на все большую часть населения. 3. Территориальное скопление полезных ископаемых. 6. Наиболее крупная форма городского расселения, образующаяся в результате слияния большого числа соседних городских территориальных структур. 7. Наука о народонаселении (численности и воспроизводстве населения). 8. Малый населенный пункт, состоящий из одного, иногда нескольких домохозяйств; отдельная крестьянская усадьба с обособленным хозяйством. 11. Вывоз продукции из страны. 13. Ввоз иностранных товаров в страну. 17. Компактное скопление населенных пунктов, главным образом городских, местами срастающихся, объединенных в сложную многокомпонентную динамическую систему с интенсивными производственными, транспортными и культурными связями.

Максимальное количество баллов – 20.

### Задание 3. «По городам и весям России».

В таблице приведены неофициальные (альтернативные) названия российских регионов, сложившиеся исторически. Подумайте, каким регионам (большим их частям) принадлежат эти названия и почему. Результат оформите в виде таблицы (табл. 2).

Таблица 2

№	Неофициальное название	Официальное название региона	Причина такого названия
1.	Кубань. Говорят: «на Кубани».	Краснодарский край 1	в Кубани протекает река сталили все мауванши. 1
2.	Поморье	Приморский край 0	находится рядом с морем 6

Члены жюри (подписи)

№	Неофициальное название	Официальное название региона	Причина такого названия
3.	Таврида	Республика Крым 1	В честь древнегреческого Бога. 0
4.	Ситцевый край (ситцевое царство), его столица называлась «городом невест».	Название региона: Ивановская область 1  Название столицы региона: Иваново 1	Объяснение названия региона: В честь столицы  Объяснение названия его столицы: В городе находится заводы по производству тканей, одежды. В основ- ном там работают только девушки. 0 Иван - древнегреческое имя и ещё с древних времён имя Иван использовалось для названия праздника (день Ивана Купала) и в то же время девушки драли себе в мужья Иванов.
5.	Северная Пальмира	Мурманская область 0	находится порт 0

Члены жюри (подписи)

№	Неофициальное название	Официальное название региона	Причина такого названия
6.	Янтарный край	Хаминский район какая область 1	добывают янтарь 1
7.	Югра (является частью официального названия этого региона)	Ханты-Мансийский автономный округ 1	
8.	Кузбасс	Хабаровский край Кашаровская область 1	в честь <del>выдающегося</del> человека, который там родился и жил в честь горы 0
9.	Прикамье		находится рядом с р. Камой 1

Максимально возможное количество баллов – 20.

10

**Задание 4. «Обычай и традиции стран мира».**

Многие страны и народы мира выделяются интересными традициями и обычаями. особенностями этикета, церемониями, праздниками. При визите в эти страны необходимо в какой-то степени уметь ориентироваться в этих традициях. Постарайтесь определить в

Члены жюри (подписи) \_\_\_\_\_



каких странах приняты те или иные традиции, обычаи или ритуалы. Результат своего исследования оформите в виде предложенной таблицы (табл. 3).

Таблица 3

№	Описание традиции	Традиция и страна, в которой она принята
1.	Жители этих стран 2 февраля собираются около нор сурков и внимательно следят, когда животное выйдет. Согласно поверью, если оно выйдет из норы в пасмурный день, то весна придет рано. А если сурок выйдет в солнечный день, увидит свою тень и снова уйдет в пору, то холодная погода будет еще сохраняться на протяжении шести недель.	1. Название традиции: <i>приход весны</i> 2. Страны: 1) <i>Дания</i> 2) <i>Финляндия</i>
2.	Хотя плевок считается грубым действием во многих культурах, в этом племени это обычный способ приветствовать и проявлять уважение. Члены племени похлопывают по рукам, прежде чем пожать их, проделывая то же самое с поворожденными детьми и даже невестой, чтобы благословить их и принести им удачу.	Укажите племя: <i>индийское</i> Укажите два государства, где проживает это племя: 1. <i>Бразилия</i> 2. <i>Австралия</i>
3.	В период майских и июньских праздников и фестивалей в небольшом городке Кастильо де Мурсия проходит шокирующий ритуал очищения Эль Колачо. Это прыжки через младенцев. Подобный ритуал призван очистить души младенцев и унести с собой все зло и болезни.	Страна: <i>Италия</i>
4.	Когда жители этой страны говорят «да», они отрицательно качают головой, когда говорят «нет», наоборот, кивают ей. Предание гласит, что во времена османского владычества жители страны специально поменяли жесты согласия и отрицания, чтобы обманывать турков. Когда турки требовали отречься от Христа, они представляли к шее острый кинжал. Отрицательные движение головой приводили к перерезанию горла. Чтобы избежать смерти и не отречься от Христа, и поменяли жесты местами.	Страна: <i>Монголия</i>
5.	Жители этой страны никогда не говорят слово «нет», стараются заменить его другой вежливой фразой или отойти от темы. Не принято отказывать человеку. В этой стране не принято пожимать руки при встрече, вместо этого люди кланяются. В метро есть специальные дежурные, которые буквально закидывают людей в вагоны и утрамбовывают их. Многие улицы не имеют названий, дома указываются описательно или по номеру внутри квартала.	Страна: <i>Китай</i>
6.	В этой стране тех, кто до 25 лет не встретил свою вторую половину, ждет интересная участь. Им друзья презентируют длинные гирлянды из носков. Причем из разноцветных. И чем длиннее гирлянда, тем лучше. Подобные украшения могут развесить не только в доме холостяков, но и во дворе. Чтобы все видели, что в этом доме можно познакомиться с будущим мужем или женой. А бывает и так, что гирлянды не дают снимать, пока хозяин или хозяйка не найдут свою пару.	Страна: <i>Швеция</i>

Члены жюри (подписи)

№	Описание традиции	Традиция и страна, в которой она принята
7.	В одном из городов этой страны (Буньоль) в последнюю неделю августа ежегодно проходит фестиваль Томатина. Этот праздник сопровождается танцами, музыкой, фейерверками и всевозможными угощениями. А главная традиция – бой томатами. Это поистине «томатное безумие», которое продолжается целый час. Тысячи людей из многих стран съезжаются, чтобы принять участие в необычном сражении. Единственным оружием служат томаты.	Страна: <i>Испания</i>
8.	Спиливание зубов. Этот ритуал является одним из самых важных у жителей страны. Все подростки в возрасте 18 лет должны перетерпеть спиливание верхних боковых клыков. Жители свято верят в то, что острые зубы являются символом злых духов. Это делается для того, чтобы лишить человека семи главных «демонических грехов». Это вожделение и похоть, надменность и высокомерие, жадность и стяжательство, ярость и злоба, неоправданное плохое настроение, беспричинная ревность, беспробудное пьянство. И если эти клыки не спилить, то человек после смерти не сможет попасть на небеса. Эта священная церемония проходит в храме. Священник самым обычным напильником спиливает верхние боковые клыки. Затем всю зубную пыль в торжественной обстановке закапывают в семейном храме.	Страна: <i>Норвегия</i>
9.	Отсутствие числа 4 в лифтах. На языке этой страны число четыре считается символом несчастий и неудач. Это суеверие возникло из-за того, что слова «четыре» и «смерть» созвучны между собой. Именно поэтому во многих лифтах в стране отсутствует число 4. Вместо него можно встретить альтернативные варианты написания, например: 3+1 или 3 b.	Страна: <i>Чехия</i>

Максимальное количество баллов – 20.

2

Максимальное количество баллов за аналитический тур – 80

Члены жюри (подписи)

Код /шифр участника

19-09-17

**БЛАНК ЗАДАНИЙ****муниципального этапа всероссийской олимпиады школьников****по географии**  
(предмет)

26,50

**II ТУР (АНАЛИТИЧЕСКИЙ)**

26,5 + 9 = 35,50

**2021/2022 учебный год****9 класс**

Общее время выполнения работы – 180 минут.

На II (аналитический) тур отводится 120 минут.

Максимально возможное количество баллов, которое Вы можете набрать на аналитическом туре, составляет 80 баллов.

При ответе на задания запрещено пользоваться школьными и прочими атласами, справочными материалами, а также учебниками, мобильными телефонами, карманными компьютерами! Желаем успеха!

**Задание 1. «Знатоки-картографы».**

Вашему вниманию предоставляется фрагмент топографической карты участка местности (рис. 1). Необходимо его изучить и ответить на ряд вопросов. Результаты своего картографического исследования необходимо оформить в предложенной таблице 1.

Таблица 1

**Бланк ответа на задание 1**

№	Вопрос	Ответ
1.	Какая максимальная обозначенная абсолютная высота фиксируется на фрагменте топографической карты?	349,2
2.	Какие гидрографические объекты присутствуют на карте?	1. р. Сиверка 6,5 2. родники 6,5 3. пр. Китский 6,5 4. пр. Тугарино 5.
3.	В каком направлении протекает река Сиверка на участке, обозначенном цифрой 1?	Запад.
4.	Какие объекты социальной инфраструктуры (сферы обслуживания) можно найти в пос. Тугарино?	школа, библиотека, м.т.с., м.т.п.
5.	Какой элемент антропогенного рельефа обозначен цифрой 2?	
6.	Что означает отметка +1,4 у предыдущего объекта?	
7.	Какой объект обозначен цифрой 3?	
8.	Через какой высотный промежуток проведены сплошные горизонталы на карте?	100 0

Члены жюри (подписи) \_\_\_\_\_

№	Вопрос	Ответ
9.	Сможет ли преодолеть вброд реку Сиверка внедорожник, рассчитанный на преодоление водных преград глубиной до 1,5? Объясните, почему Вы так решили.	да, потому что глубина реки 1,2 м. 2
10.	К какой природной зоне относится местность, изображенная на представленном фрагменте топографической карты? Почему Вы так считаете? Постарайтесь привести два довода.	Природная зона: <u>Степь</u> <u>лесостепь</u> Обоснование:
11.	Разъедутся ли два транспортных средства, шириной по 3,7 м каждое, на шоссе, обозначенном 8(12)Б? Свой ответ объясните.	да. 1

Максимальное количество баллов – 20.

(фактически  
набранное 25  
количество баллов)

Члены жюри (подписи) \_\_\_\_\_

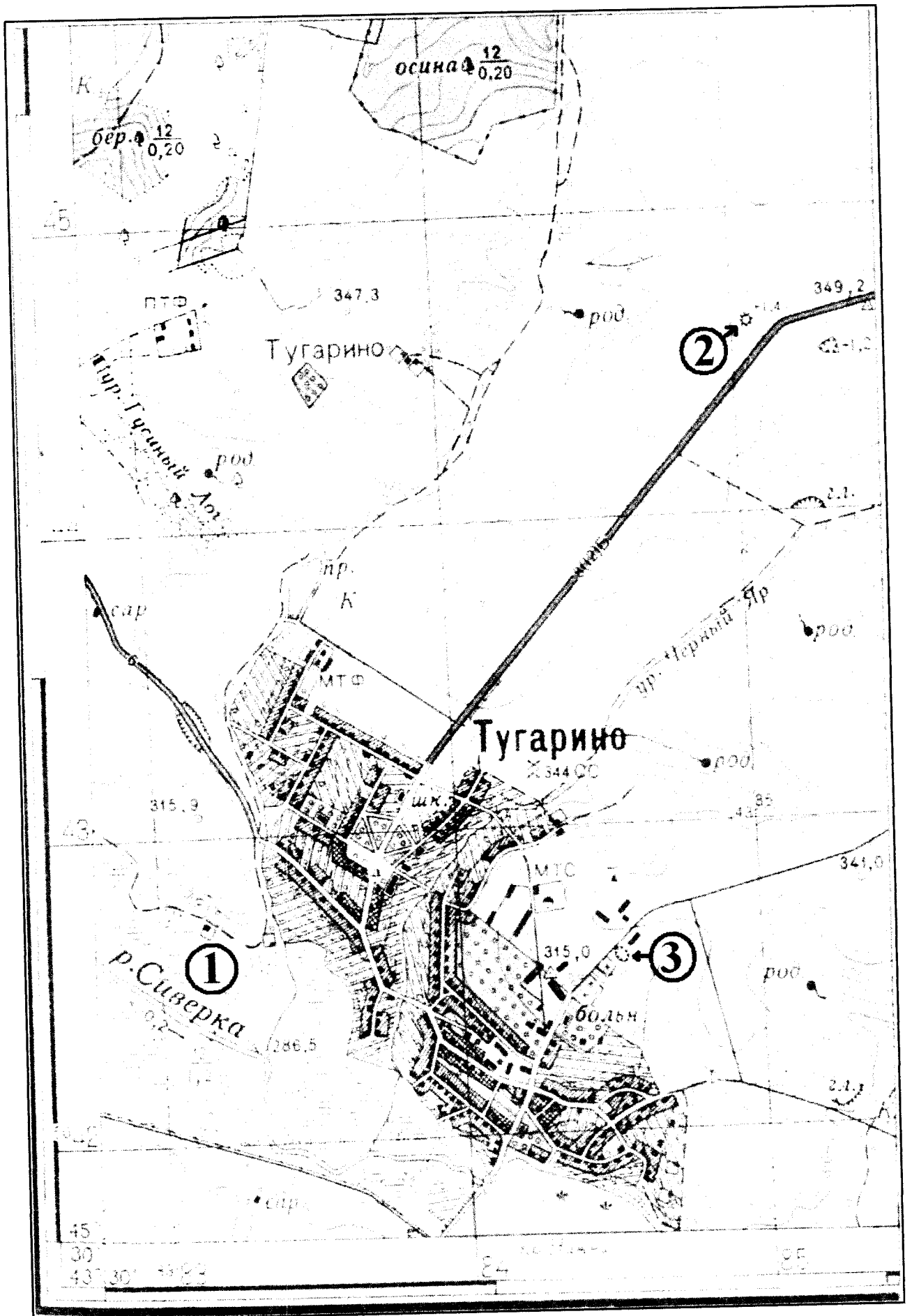



Рис. 1. Фрагмент топографической карты участка местности  
Члены жюри (подписи)

## Задание 2. «Географическая разминка: термины экономической географии».

Разгадайте географический кроссворд. Обратите внимание, что задания под одинаковыми номерами могут быть как по вертикали, так и по горизонтали.



### По горизонтали:

1. Сочетание производств, основанное на последовательной обработке сырья, комплексном использовании сырья и утилизации отходов. 4. Форма государственного устройства, при котором государство имеет в своем составе самоуправляемые образования. 5. Место схождения (расхождения) нескольких транспортных путей (дорог), где осуществляется перевалка грузов или пересадка пассажиров, а также сортировка транспортных средств. 9. Административная казачья сельская единица, состоит из одного или нескольких казачьих поселений. Распространены такие поселения в основном в южной части Европейской территории России. 10. Населенный пункт, в котором более 85% населения занято несельскохозяйственной деятельностью и численностью населения более

(фактически  
набранное *9*  
количество баллов)

Члены жюри (подписи) \_\_\_\_\_

12 тыс. чел. 11. Исторически сложившаяся группа людей, обладающих общностью языка, культуры, психики, норм поведения и миропонимания, т.е. осознающих свою принадлежность к этой общности. 12. Размещение населения или совокупность населенных пунктов на какой-либо территории, сложившаяся в результате процесса ее освоения. 14. Место, расположенное вблизи берега моря или реки, устроенное для стоянки кораблей и судов, а также переработки грузов и пассажиропотоков. 15. Совокупность всех предприятий, производящих однотипную продукцию или оказывающих населению одинаковые виды услуг. 16. Сосредоточение производства какой-либо продукции на крупных предприятиях. 18. Въезд людей из одного государства в другое с целью временного пребывания или постоянного проживания. 19. Выезд за границу для постоянного проживания или работы.

### По вертикали:

2. Рост доли городских жителей, распространение городского образа жизни на все большую часть населения. 3. Территориальное скопление полезных ископаемых. 6. Наиболее крупная форма городского расселения, образующаяся в результате слияния большого числа соседних городских территориальных структур. 7. Наука о народонаселении (численности и воспроизводстве населения). 8. Малый населённый пункт, состоящий из одного, иногда нескольких домохозяйств; отдельная крестьянская усадьба с обособленным хозяйством. 11. Вывоз продукции из страны. 13. Ввоз иностранных товаров в страну. 17. Компактное скопление населённых пунктов, главным образом городских, местами срастающихся, объединённых в сложную многокомпонентную динамическую систему с интенсивными производственными, транспортными и культурными связями.

Максимальное количество баллов – 20.

### Задание 3. «По городам и весям России».

В таблице приведены неофициальные (альтернативные) названия российских регионов, сложившиеся исторически. Подумайте, каким регионам (большим их частям) принадлежат эти названия и почему. Результат оформите в виде таблицы (табл. 2).

Таблица 2

№	Неофициальное название	Официальное название региона	Причина такого названия
1.	Кубань. Говорят: «на Кубани».	Краснодарский край	расположен на Кубани
2.	Поморье	Архангельский край	находится на берегу моря

Члены жюри (подписи) \_\_\_\_\_

№	Неофициальное название	Официальное название региона	Причина такого названия
3.	Таврида		
4.	Ситцевый край (ситцевое царство), его столица называлась «городом невест».	Название региона: _____ _____ Название столицы региона: _____	Объяснение названия региона:    Объяснение названия его столицы:
5.	Северная Пальмира		<div data-bbox="954 1765 1471 1868" style="border: 1px solid black; width: 324px; height: 46px; margin: 0 auto;"></div>

Члены жюри (подписи) \_\_\_\_\_



№	Неофициальное название	Официальное название региона	Причина такого названия
6.	Янтарный край	Камешки- удская область /	Самые крупные угли заготавливаются в мире. /
7.	Югра (является частью официального названия этого региона)		
8.	Кузбасс		находится на территории Кузнецкого бассейна
9.	Прикамье		устье реки Кама

Максимально возможное количество баллов – 20.

(фактически  
набранное  
количество баллов) 40

**Задание 4. «Обычаи и традиции стран мира».**

Многие страны и народы мира выделяются интересными традициями и обычаями, особенностями этикета, церемониями, праздниками. При визите в эти страны необходимо в какой-то степени уметь ориентироваться в этих традициях. Постарайтесь определить, в

Члены жюри (подписи) \_\_\_\_\_

каких странах приняты те или иные традиции, обычаи или ритуалы. Результат своего исследования оформите в виде предложенной таблицы (табл. 3).

Таблица 3

№	Описание традиции	Традиция и страна, в которой она принята
1.	Жители этих стран 2 февраля собираются около нор сурков и внимательно следят, когда животное выйдет. Согласно поверью, если оно выйдет из норы в пасмурный день, то весна придет рано. А если сурок выйдет в солнечный день, увидит свою тень и снова уйдет в нору, то холодная погода будет еще сохраняться на протяжении шести недель.	1. Название традиции: _____ 2. Страны: 1) <u>Канада</u> 2) <u>Финляндия</u>
2.	Хотя плевок считается грубым действием во многих культурах, в этом племени это обычный способ приветствовать и проявлять уважение. Члены племени плюют на руки, прежде чем пожать их, проделывая то же самое с новорожденными детьми и даже невестой, чтобы благословить их и принести им удачу.	Укажите племя: _____ Укажите два государства, где проживает это племя: 1. <u>ЮАР</u> 2. _____
3.	В период майских и июньских праздников и фестивалей в небольшом городке Кастильо де Мурсия проходит шокирующий ритуал очищения Эль Колачо. Это прыжки через младенцев. Подобный ритуал призван очистить души младенцев и унести с собой все зло и болезни.	Страна: <u>Испания</u>
4.	Когда жители этой страны говорят «да», они отрицательно качают головой, когда говорят «нет», наоборот, кивают ей. Предание гласит, что во времена османского владычества жители страны специально поменяли жесты согласия и отрицания, чтобы обманывать турков. Когда турки требовали отречься от Христа, они приставляли к шее острый кинжал. Отрицательные движение головой приводили к перерезанию горла. Чтобы избежать смерти и не отречься от Христа, и поменяли жесты местами.	Страна: <u>Украина</u>
5.	Жители этой страны никогда не говорят слово «нет», стараются заменить его другой вежливой фразой или отойти от темы. Не принято отказывать человеку. В этой стране не принято пожимать руки при встрече, вместо этого люди кланяются. В метро есть специальные дежурные, которые буквально запихивают людей в вагоны и утрумбовывают их. Многие улицы не имеют названий, дома указываются описательно или по номеру внутри квартала.	Страна: <u>Япония</u>
6.	В этой стране тех, кто до 25 лет не встретил свою вторую половину, ждет интересная участь. Им друзья презентуют длинные гирлянды из носков. Притом из разноцветных. И чем длиннее гирлянда, тем лучше. Подобные украшения могут развесить не только в доме холостяков, но и во дворе. Чтобы все видели, что в этом доме можно познакомиться с будущим мужем или женой. А бывает и так, что гирлянды не дают снимать, пока хозяин или хозяйка не найдут свою пару.	Страна: _____

Члены жюри (подписи) \_\_\_\_\_

№	Описание традиции	Традиция и страна, в которой она принята
7.	В одном из городов этой страны (Буньоль) в последнюю неделю августа ежегодно проходит фестиваль Томатина. Этот праздник сопровождается танцами, музыкой, фейерверками и всевозможными угощениями. А главная традиция – бой томатами. Это поистине «томатное безумие», которое продолжается целый час. Тысячи людей из многих стран съезжаются, чтобы принять участие в необычном сражении. Единственным оружием служат томаты.	Страна: <u>Франция</u>
8.	Спиливание зубов. Этот ритуал является одним из самых важных у жителей страны. Все подростки в возрасте 18 лет должны перетерпеть спиливание верхних боковых клыков. Жители свято верят в то, что острые зубы являются символом злых духов. Это делается для того, чтобы лишить человека семи главных «демонических грехов». Это воздержание и похоть, надменность и высокомерие, жадность и стяжательство, ярость и злоба, неоправданное плохое настроение, беспричинная ревность, беспробудное пьянство. И если эти клыки не спилить, то человек после смерти не сможет попасть на небеса. Эта священная церемония проходит в храме. Священник самым обычным напильником спиливает верхние боковые клыки. Затем всю зубную пыль в торжественной обстановке закапывают в семейном храме.	Страна: <u>Индия</u>
9.	Отсутствие числа 4 в лифтах. На языке этой страны число четыре считается символом несчастий и неудач. Это суеверие возникло из-за того, что слова «четыре» и «смерть» созвучны между собой. Именно поэтому во многих лифтах в стране отсутствует число 4. Вместо него можно встретить альтернативные варианты написания, например: 3+1 или 3 в.	Страна: <u>Китай</u>

Максимальное количество баллов – 20.

(фактически  
набранное  
количество баллов)

Максимальное количество баллов за аналитический тур – 80

Члены жюри (подписи) \_\_\_\_\_

Код /шифр участника

29-17

**БЛАНК ЗАДАНИЙ****муниципального этапа всероссийской олимпиады школьников****по географии**

(предмет)

**I ТУР (ТЕСТОВЫЙ)****2021/2022 учебный год****9 класс**Общее время выполнения работы – **180 минут**.На выполнение заданий I (тестового) тура отводится **60 минут**. На II (аналитический) тур отводится **120 минут**.

При ответе на задания запрещено пользоваться школьными и прочими атласами, справочными материалами, а также учебниками, мобильными телефонами, карманными компьютерами! Желаем успеха!

Ответьте на поставленные вопросы, выбрав **один** правильный вариант ответа. При ответе на вопросы будьте очень внимательны, так как некоторые вопросы требуют определить неверный вариант или имеют формулировку с отрицанием.**Не забудьте перенести свои ответы в бланк ответов (таблица)!**

1. Укажите вариант ответа, в котором правильно указано направление внутренних межрайонных миграций в России в 20-х годах XXI века:

- 1) из Дальневосточного и Сибирского федеральных округов в Центральный и Северо-Западный;
- 2) из Уральского и Приволжского федеральных округов в Северо-Кавказский и Южный;
- 3) из Центрального и Северо-Западного федеральных округов в Сибирский и Дальневосточный;
- 4) из Центрального и Северо-Западного федеральных округов в Северо-Кавказский и Южный.

2. Выберите пару портов, которые расположены на разных морях России:

- 1) Калининград и Санкт-Петербург; 2) Новороссийск и Туапсе;
- 3) Мурманск и Архангельск; 4) Владивосток и Находка.

3. Выберите вариант ответа, в котором присутствуют только столицы автономных округов России:

- 1) Петрозаводск, Сыктывкар, Элиста; 2) Москва, Санкт-Петербург, Севастополь;
- 3) Ханты-Мансийск, Нарьян-Мар, Салехард; 4) Екатеринбург, Биробиджан, Владивосток.

4. Укажите сочетание, в котором указаны столицы регионов России, граничащих со странами ЕС (Евросоюз):

- 1) Москва, Тверь, Брянск; 2) Псков, Петрозаводск, Мурманск;
- 3) Владивосток, Анадырь, Благовещенск; 4) Смоленск, Орел, Курск.

5. Выберите вариант ответа, в котором правильно указано соотношение «субъект Российской Федерации – название курорта»:

- 1) Ленинградская обл. – Марциальные Воды;
- 2) Ставропольский край – Кавказские Минеральные Воды;
- 3) Кемеровская обл. – Белокуриха; 4) Респ. Крым – Геленджик.

6. Выберите вариант ответа, в котором указана пара регионов России, самыми первыми встречающих Новый год:

- 1) Магаданская обл., Респ. Якутия; 2) Приморский край, Хабаровский край;
- 3) Камчатский край, Чукотский авт. округ; 4) Амурская обл., Забайкальский край.

7. Укажите правильное соотношение «природный ресурс – вид природных ресурсов»:

- 1) лес – неисчерпаемые; 2) энергия ветра – исчерпаемые возобновимые;
- 3) плодородие почв – исчерпаемые невозобновимые;
- 4) пресная вода – исчерпаемые возобновимые.

8. В каком варианте ответа верно указано соотношение «горная вершина – субъект РФ»:

- 1) Эльбрус – Ставропольский край; 2) Белуха – Респ. Алтай;
- 3) г. Народная – Свердловская область; 4) Ключевская Сопка – Сахалинская обл.

9. Выберите правильное соотношение «столица субъекта РФ – река, на которой она стоит»:

- 1) г. Краснодар – р. Кубань; 2) г. Новосибирск – р. Енисей; 3) г. Челябинск – р. Урал;
- 4) г. Воронеж – р. Волга.

10. Определите вариант ответа, в котором указаны регионы, реки которых имеют половодье в теплый сезон года (летом):

- 1) Калининградская обл., Псковская обл., Новгородская обл.;
- 2) Волгоградская обл., Пензенская обл., Оренбургская обл.;
- 3) Краснодарский край, Респ. Адыгея, Ростовская обл.;
- 4) Хабаровский край, Еврейская авт. обл., Амурская обл.

11. На территории какого субъекта РФ находится первая и единственная в стране приливная электростанция:

- 1) Камчатский край; 2) Чукотский авт. округ; 3) Мурманская обл.; 4) Ленинградская обл.

12. На территории какого современного региона России находится родина старинного русского промысла хохлома (хохломская роспись):

- 1) Костромская обл.; 2) Нижегородская обл.; 3) Владимирская обл.; 4) Московская обл.

13. Выберите вариант, в котором представлены только специализирующиеся на добыче угля регионы России:

- 1) Астраханская обл., Респ. Калмыкия, Респ. Карачаево-Черкессия;
- 2) Пермский край, Свердловская обл., Респ. Татарстан;
- 3) Липецкая обл., Тамбовская обл., Воронежская обл.;
- 4) Респ. Якутия, Кемеровская обл., Красноярский край.

14. Выберите сочетание регионов Центрального федерального округа с наибольшей долей электроэнергии, выработанной на АЭС:

- 1) Белгородская обл., Брянская обл., Владимирская обл.;
- 2) Ивановская обл., Калужская обл., Костромская обл.;
- 3) Курская обл., Смоленская обл., Тверская обл.;
- 4) Ростовская обл., Саратовская обл., Воронежская обл.

15. Выберите вариант ответа, в котором представлены города с самыми высокими температурами самого холодного месяца в году:

- 1) Владивосток, Южно-Сахалинск, Петропавловск Камчатский;
- 2) Ростов на Дону, Волгоград, Астрахань;
- 3) Улан-Удэ, Барнаул, Горно-Алтайск.
- 4) Сочи, Ялта, Севастополь.

16. Какие крупные города Вы проедете, путешествуя прямым маршрутом на поезде из Москвы в Крым:

- 1) Рязань, Воронеж, Ростов-на-Дону;
- 2) Ярославль, Пермь, Екатеринбург;
- 3) Санкт-Петербург, Петрозаводск, Мурманск;
- 4) Курган, Красноярск, Иркутск.

17. В какие регионы России Вы организуете тур, чтобы насладиться красотой пещер:

- 1) Краснодарский край и Респ. Адыгея, Крым, Пермский край;
- 2) Респ. Карелия, Мурманская обл., Респ. Коми;
- 3) Саратовская обл., Оренбургская обл., Пензенская обл.;
- 4) Тульская обл., Орловская обл., Курская обл.

18. Какая из групп факторов размещения преобладает в настоящее время при выборе места для строительства завода по производству автомобилей:

- 1) сырьевой и топливный; 2) энергетический и водный;
- 3) потребительский и экологический; 4) географического положения, транспортный.

19. Выберите сочетание регионов России с максимально неблагоприятными природными условиями проживания:

- 1) Омская обл., Новосибирская обл., Иркутская обл.;
- 2) Астраханская обл., Респ. Кабардино-Балкария, Респ. Дагестан;
- 3) Архангельская обл., Ямало-Ненецкий авт. окр., Респ. Якутия;
- 4) Приморский край, Забайкальский край, Респ. Хакассия.

20. Выберите группу, где указаны физико-географические объекты России, на территории которых фиксируется максимальная плотность населения:

- 1) Тиманский кряж, Северные Увалы, горы Хибины;
- 2) Среднерусская возв., Приволжская возв. Ставропольская возв.;
- 3) Северо-Сибирская низм., Алданское нагорье, плато Путорана;
- 4) Колымская низм, Западно-Сибирская равнина, Яно-Индибирская низм.

**Максимальное количество баллов – 20.**

29-17

Бланк ответов

№ задания	Ответ	№ задания	Ответ
1.	3	11.	3 +
2.	2	12.	2 +
3.	3 +	13.	2
4.	4	14.	4
5.	4	15.	4 +
6.	2	16.	1 +
7.	4 +	17.	1 +
8.	2 +	18.	3
9.	3	19.	3 +
10.	2	20.	4

Член жюри : \_\_\_\_\_  
(подпись)

90

09-11

## БЛАНК ЗАДАНИЙ

муниципального этапа всероссийской олимпиады школьников

по географии  
(предмет)

21, 22

## II ТУР (АНАЛИТИЧЕСКИЙ)

2021/2022 учебный год

21, 22 + 10 = 31, 2

9 класс

Общее время выполнения работы – 180 минут.

На II (аналитический) тур отводится 120 минут.

Максимально возможное количество баллов, которое Вы можете набрать на аналитическом туре, составляет 80 баллов.

При ответе на задания запрещено пользоваться школьными и прочими атласами, справочными материалами, а также учебниками, мобильными телефонами, карманными компьютерами! Желаем успеха!

**Задание 1. «Знайки-картографы».**

Вашему вниманию предоставляется фрагмент топографической карты участка местности (рис. 1). Необходимо его изучить и ответить на ряд вопросов. Результаты своего картографического исследования необходимо оформить в предложенной таблице 1.

Таблица 1.

Бланк ответа на задание 1

№	Вопрос	Ответ
1.	Какая максимальная обозначенная абсолютная высота фиксируется на фрагменте топографической карты?	349,2 /
2.	Какие гидрографические объекты присутствуют на карте?	1. ручей 2. река Сиверка 3. ручей Шибетин 4. ручей 5. Калосень
3.	В каком направлении протекает река Сиверка на участке, обозначенном цифрой 1?	6 <del>к северо-западу</del> Северо-Запад
4.	Какие объекты социальной инфраструктуры (сферы обслуживания) можно найти в пос. Тугарино?	Баллестроу 1
5.	Какой элемент антропогенного рельефа обозначен цифрой 2?	Залото
6.	Что означает отметка +1,4 у предыдущего объекта?	<del>Топографический</del> Пустоты
7.	Какой объект обозначен цифрой 3?	Овраг
8.	Через какой высотный промежуток проведены сплошные горизонтали на карте?	12

Члены жюри (подписи)



№	Вопрос	Ответ
9.	Смогут ли преодолеть вброд реку Сиверка вездорожник, рассчитанный на преодоление водных преград глубиной до 1,5? Объясните, почему Вы так решили.	нет. Глубина реки больше 1,5 0
10.	К какой природной зоне относится местность, изображенная на представленном фрагменте топографической карты? Почему Вы так считаете? Постарайтесь привести два довода.	Природная зона: <u>лиственный лес</u> Обоснование: <u>на рисунке много болотистых мест, есть мшвенные леса</u>
11.	Разъедутся ли два транспортных средства, шириной по 3,7 м каждое, на шоссе, обозначенном 8(12)Б? Свой ответ объясните.	да! Ширина шоссе <u>показана</u>

Максимальное количество баллов – 20.

количество баллов 5,58

Члены жюри (подписи)


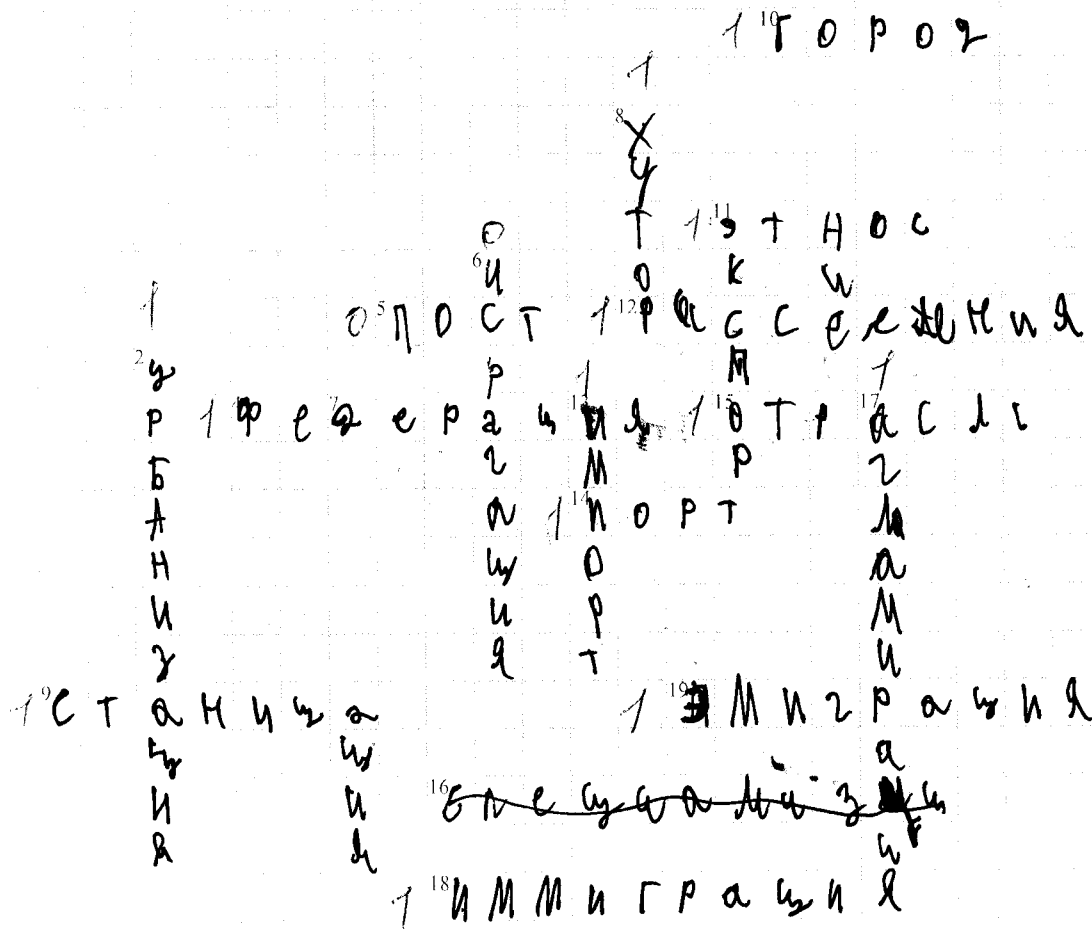


Рис. 1. Фрагмент топографической карты участка местности Члены жюри (подписи)

Задание 2. «Географическая разминка: термины экономической географии».

Разгадайте географический кроссворд. Обратите внимание, что задания по одинаковым номерам могут быть как по вертикали, так и по горизонтали.



По горизонтали:

1. Сочетание производств, основанное на последовательной обработке сырья, комплексном использовании сырья и утилизации отходов.
4. Форма государственного устройства, при котором государство имеет в своем составе самоуправляемые образования.
5. Место схождения (разхождения) нескольких транспортных путей (дорог), где осуществляется перевалка грузов или пересадка пассажиров, а также сортировка транспортных средств.
9. Административная казачья сельская единица, состоит из одного или нескольких казачьих поселений. Распространены такие поселения в основном в южной части Европейской территории России.
10. Поселенный пункт, в котором более 85% населения занято несельскохозяйственной деятельностью и численностью населения более

Члены жюри (подписи)

13

12 тыс. чел. 11. Исторически сложившаяся группа людей, обладающих общностью языка, культуры, психики, норм поведения и миропонимания, т.е. осознающих свою принадлежность к этой общности. 12. Размещение поселения или совокупность населенных пунктов на какой-либо территории, сложившаяся в результате процесса ее освоения. 14. Место, расположенное вблизи берега моря или реки, устроенное для стоянки кораблей и судов, а также переработки грузов и пассажиропотоков. 15. Совокупность всех предприятий, производящих однотипную продукцию или оказывающих населению одинаковые виды услуг. 16. Сосредоточение производства какой-либо продукции на крупных предприятиях. 18. Въезд людей из одного государства в другое с целью временного пребывания или постоянного проживания. 19. Въезд за границу для постоянного проживания или работы.

#### По вертикали:

2. Рост доли городских жителей, распространение городского образа жизни на все большую часть населения. 3. Территориальное скопление полезных ископаемых. 6. Наиболее крупная форма городского расселения, образующаяся в результате слияния большого числа соседних городских территориальных структур. 7. Наука о народонаселении (численности и воспроизводстве населения). 8. Малый населенный пункт, состоящий из одного, иногда нескольких домохозяйств; отдельная крестьянская усадьба с обособленным хозяйством. 11. Вывоз продукции из страны. 13. Ввоз иностранных товаров в страну. 17. Компактное скопление населенных пунктов, главным образом городских, местами срастающихся, объединенных в сложную многокомпонентную динамическую систему с интенсивными производственными, транспортными и культурными связями.

Максимальное количество баллов – 20.

#### Задание 3. «По городам и всям России».

В таблице приведены неофициальные (альтернативные) названия российских регионов, сложившиеся исторически. Подумайте, каким регионам (большим их частям) принадлежат эти названия и почему. Результат оформите в виде таблицы (табл. 2).

Таблица 2

№	Неофициальное название	Официальное название региона	Причина такого названия
1.	Кубань. Говорят: «на Кубани».	Кубанский край	Сохранение традиции
2.	Поморье	Поморский край	Сохранение традиции

Члены жюри (подписи)

№	Неофициальное название	Официальное название региона	Причина такого названия
3.	Таврида	Таврический край	Сокращение Букетри Край
4.	Ситцевый край (ситцевое царство), его столица называлась «городом певсет».	Название региона: Ивановская область Название столицы региона: Иваново	Объяснение названия региона: Регион славится вышивкой  Объяснение названия его столицы: Женились больше мужчины
5.	Северная Пальмира		<div data-bbox="954 1771 1474 1872" style="border: 1px solid black; height: 45px; width: 326px; margin: 0 auto;"></div>

Члены жюри (подписи) \_\_\_\_\_

№	Неофициальное название	Официальное название региона	Причина такого названия
6.	Янтарный край	Земельно-торговая область 1	Большое количество янтаря 1
7.	Югра (является частью официального названия этого региона)	Земельно-торговая 0	сокращение быстрее писать. 0
8.	Кузбасс	Кузбасская Актинская область 0	сокращение быстрее писать. 0
9.	Прикамье	Прикамский край 0	сокращение быстрее писать 0

Максимально возможное количество баллов – 20.

46.

#### Задание 4. «Обычай и традиции стран мира».

Многие страны и народы мира выделяются интересными традициями и обычаями, особенностями этикета, церемониями, праздниками. При визите в эти страны необходимо в какой-то степени уметь ориентироваться в этих традициях. Постарайтесь определить, в

Члены жюри (подписи) \_\_\_\_\_

каких странах приняты те или иные традиции, обычаи или ритуалы. Результат своего исследования оформите в виде предложенной таблицы (табл. 3).

Таблица 3

№	Описание традиции	Традиция и страна, в которой она принята
1.	Жители этих стран 2 февраля собираются около нор сурков и внимательно следят, когда животное выйдет. Согласно поверью, если оно выйдет из норы в пасмурный день, то весна придет рано. А если сурок выйдет в солнечный день, увидит свою тень и снова уйдет в нору, то холодная погода будет еще сохраняться на протяжении шести недель.	1. Название традиции: <u>Акт сурков</u> 2. Страны: 1) <u>Монголия</u> 2) <u>Казахстан</u>
2.	Хотя шлевок считается грубым действием во многих культурах, в этом племени это обычный способ приветствовать и проявлять уважение. Члены племени похлопывают по рукам, прежде чем пожать их, проделывая то же самое с новорожденными детьми и даже невестой, чтобы благословить их и принести им удачу.	Укажите племя: <u>Турбо-Галло</u> Укажите два государства, где проживает это племя: 1. <u>Бразилия</u> 2. <u>Аргентина</u>
3.	В период майских и июньских праздников и фестивалей в небольшом городке Кастильо де Мурсия проходит шокирующий ритуал очищения Эль Колачо. Это прыжки через младенцев. Подобный ритуал призван очистить души младенцев и унести с собой все зло и болезни.	Страна: <u>Мексика</u>
4.	Когда жители этой страны говорят «да», они отрицательно качают головой, когда говорят «нет», наоборот, кивают ей. Предание гласит, что во времена османского владычества жители страны специально поменяли жесты согласия и отрицания, чтобы обманывать турков. Когда турки требовали отречься от Христа, они приставляли к шее острый кинжал. Отрицательные движение головой приводили к перерезанию горла. Чтобы избежать смерти и не отречься от Христа, и поменяли жесты местами.	Страна: <u>Балария</u>
5.	Жители этой страны никогда не говорят слово «нет», стараются заменить его другой вежливой фразой или отойти от темы. Не принято отказывать человеку. В этой стране не принято пожимать руки при встрече, вместо этого люди кланяются. В метро есть специальные дежурные, которые буквально забирают людей в вагоны и утрамбовывают их. Многие улицы не имеют названий, дома указываются исключительно или по номеру внутри квартала.	Страна: <u>Китай</u>
6.	В этой стране тех, кто до 25 лет не встретил свою вторую половину, ждет интересная участь. Им друзья презентуют длинные гирлянды из посков. Причем из разноцветных. И чем длиннее гирлянда, тем лучше. Подобные украшения могут развесить не только в доме холостяков, но и во дворе. Чтобы все видели, что в этом доме можно познакомиться с будущим мужем или женой. А бывает и так, что гирлянды не дают снимать, пока хозяин или хозяйка не найдут свою пару.	Страна: <u>Исландия</u>

Члены жюри (подписи)

№	Описание традиции	Традиция и страна, в которой она принята
7.	В одном из городов этой страны (Буньоль) в последнюю неделю августа ежегодно проходит фестиваль Томатина. Этот праздник сопровождается танцами, музыкой, фейерверками и всевозможными угощениями. А главная традиция – бой томатами. Это поистине «томатное безумие», которое продолжается целый час. Тысячи людей из многих стран съезжаются, чтобы принять участие в необычном сражении. Единственным оружием служат томаты.	Страна: <u>Италия</u>
8.	Спиливание зубов. Этот ритуал является одним из самых важных у жителей страны. Все подростки в возрасте 18 лет должны перетерпеть спиливание верхних боковых клыков. Жители свято верят в то, что острые зубы являются символом злых духов. Это делается для того, чтобы лишить человека семи главных «демонических грехов». Это возжелание и похоть, надменность и высокомерие, жадность и стяжательство, ярость и злоба, неоправданное плохое настроение, беспричинная ревность, беспробудное пьянство. И если эти клыки не спилить, то человек после смерти не сможет попасть на небеса. Эта священная церемония проходит в храме. Священник самым обычным напильником спиливает верхние боковые клыки. Затем всю зубную пыль в торжественной обстановке закапывают в семейном храме.	Страна: <u>Индия</u>
9.	Отсутствие числа 4 в лифтах. На языке этой страны число четыре считается символом несчастий и неудач. Это суеверие возникло из-за того, что слова «четыре» и «смерть» созвучны между собой. Именно поэтому во многих лифтах в стране отсутствует число 4. Вместо него можно встретить альтернативные варианты написания, например: 3+1 или 3 b.	Страна: <u>Япония</u>

Максимальное количество баллов – 20.

Максимальное количество баллов за аналогичский тур – 80



Код / шифр участника

09 - 99

**БЛАНК ЗАДАНИЙ****муниципального этапа всероссийской олимпиады школьников****по географии**

(предмет)

**I ТУР (ТЕСТОВЫЙ)**

103

**2021/2022 учебный год****9 класс**Общее время выполнения работы – **180 минут**.На выполнение заданий I (тестового) тура отводится **60 минут**. На II (аналитический) тур отводится **120 минут**.

При ответе на задания запрещено пользоваться школьными и прочими атласами, справочными материалами, а также учебниками, мобильными телефонами, карманными компьютерами! Желаем успеха!

Ответьте на поставленные вопросы, выбрав **один** правильный вариант ответа. При ответе на вопросы будьте очень внимательны, так как некоторые вопросы требуют определить неверный вариант или имеют формулировку с отрицанием.**Не забудьте перенести свои ответы в бланк ответов (таблица)!**

1. Укажите вариант ответа, в котором правильно указано направление внутренних межрайонных миграций в России в 20-х годах XXI века:

- 1) из Дальневосточного и Сибирского федеральных округов в Центральный и Северо-Западный;
- 2) из Уральского и Приволжского федеральных округов в Северо-Кавказский и Южный;
- 3) из Центрального и Северо-Западного федеральных округов в Сибирский и Дальневосточный;
- 4) из Центрального и Северо-Западного федеральных округов в Северо-Кавказский и Южный.

2. Выберите пару портов, которые расположены на разных морях России:

- 1) Калининград и Санкт-Петербург;
- 2) Новороссийск и Туансе;
- 3) Мурманск и Архангельск;
- 4) Владивосток и Находка.

3. Выберите вариант ответа, в котором присутствуют только столицы автономных округов России:

- 1) Петрозаводск, Сыктывкар, Элиста;
- 2) Москва, Санкт-Петербург, Севастополь;
- 3) Ханты-Мансийск, Нарьян-Мар, Салехард;
- 4) Екатеринбург, Биробиджан, Владивосток.

4. Укажите сочетание, в котором указаны столицы регионов России, граничащих со странами ЕС (Евросоюз):

- 1) Москва, Тверь, Брянск;
- 2) Исков, Петрозаводск, Мурманск;
- 3) Владивосток, Анадырь, Благовещенск;
- 4) Смоленск, Орел, Курск.

5. Выберите вариант ответа, в котором правильно указано соотношение «субъект Российской Федерации – название курорта»:

- 1) Ленинградская обл. – Марциальные Воды;
- 2) Ставропольский край – Кавказские Минеральные Воды;
- 3) Кемеровская обл. – Белокуриха; 4) Респ. Крым – Геленджик.

6. Выберите вариант ответа, в котором указана пара регионов России, самыми первыми встречающих Новый год:

- 1) Магаданская обл., Респ. Якутия; 2) Приморский край, Хабаровский край;
- 3) Камчатский край, Чукотский авт. округ; 4) Амурская обл., Забайкальский край.

7. Укажите правильное соотношение «природный ресурс – вид природных ресурсов»:

- 1) лес – неисчерпаемые; 2) энергия ветра – исчерпаемые возобновимые;
- 3) плодородие почв – исчерпаемые невозобновимые;
- 4) пресная вода – исчерпаемые возобновимые.

8. В каком варианте ответа верно указано соотношение «горная вершина – субъект РФ»:

- 1) Эльбрус – Ставропольский край; 2) Белуха – Респ. Алтай;
- 3) г. Народная – Свердловская область; 4) Ключевская Сопка – Сахалинская обл.

9. Выберите правильное соотношение «столица субъекта РФ – река, на которой она стоит»:

- 1) г. Краснодар – р. Кубань; 2) г. Новосибирск – р. Енисей; 3) г. Челябинск – р. Урал;
- 4) г. Воронеж – р. Волга.

10. Определите вариант ответа, в котором указаны регионы, реки которых имеют половодье в теплый сезон года (летом):

- 1) Калининградская обл., Исковская обл., Новгородская обл.;
- 2) Волгоградская обл., Пензенская обл., Оренбургская обл.;
- 3) Краснодарский край, Респ.Адыгея, Ростовская обл.;
- 4) Хабаровский край, Еврейская авт. обл., Амурская обл.

11. На территории какого субъекта РФ находится первая и единственная в стране приливная электростанция:

- 1) Камчатский край; 2) Чукотский авт. округ; 3) Мурманская обл.; 4) Ленинградская обл.

12. На территории какого современного региона России находится родина старинного русского промысла хохлома (хохломянская роспись):

- 1) Костромская обл.; 2) Нижегородская обл.; 3) Владимирская обл.; 4) Московская обл.

13. Выберите вариант, в котором представлены только специализирующиеся на добыче угля регионы России:

- 1) Астраханская обл., Респ. Калмыкия, Респ. Карачаево-Черкессия;
- 2) Пермский край, Свердловская обл., Респ. Татарстан;
- 3) Липецкая обл., Тамбовская обл., Воронежская обл.;
- 4) Респ. Якутия, Кемеровская обл., Красноярский край.

14. Выберите сочетание регионов Центрального федерального округа с наибольшей долей электроэнергии, выработанной на АЭС:

- 1) Белгородская обл., Брянская обл., Владимирская обл.;
- 2) Ивановская обл., Калужская обл., Костромская обл.;
- 3) Курская обл., Смоленская обл., Тверская обл.;
- 4) Ростовская обл., Саратовская обл., Воронежская обл.

15. Выберите вариант ответа, в котором представлены города с самыми высокими температурами самого холодного месяца в году:

- 1) Владивосток, Южно-Сахалинск, Петропавловск Камчатский;
- 2) Ростов на Дону, Волгоград, Астрахань;
- 3) Улан-Удэ, Барнаул, Горно-Алтайск.
- 4) Сочи, Ялта, Севастополь.

16. Какие крупные города Вы проедете, путешествуя прямым маршрутом на поезде из Москвы в Крым:

- 1) Рязань, Воронеж, Ростов-на-Дону;
- 2) Ярославль, Пермь, Екатеринбург;
- 3) Санкт-Петербург, Петрозаводск, Мурманск;
- 4) Курган, Красноярск, Иркутск.

17. В какие регионы России Вы организуете тур, чтобы насладиться красотой пенечер:

- 1) Краснодарский край и Респ. Адыгея, Крым, Пермский край;
- 2) Респ. Карелия, Мурманская обл., Респ. Коми;
- 3) Саратовская обл., Оренбургская обл., Пензенская обл.;
- 4) Тульская обл., Орловская обл., Курская обл.

18. Какая из групп факторов размещения преобладает в настоящее время при выборе места для строительства завода по производству автомобилей:

- 1) сырьевой и топливный; 2) энергетический и водный;
- 3) потребительский и экологический; 4) географического положения, транспортный.


19. Выберите сочетание регионов России с максимально неблагоприятными природными условиями проживания:

- 1) Омская обл., Новосибирская обл., Иркутская обл.;
- 2) Астраханская обл., Респ. Кабардино-Балкария, Респ. Дагестан;
- 3) Архангельская обл., Ямало-Ненецкий авт. окр., Респ. Якутия;
- 4) Приморский край, Забайкальский край, Респ. Хакасия.

20. Выберите группу, где указаны физико-географические объекты России, на территории которых фиксируется максимальная плотность населения:

- 1) Тиманский кряж, Северные Увалы, горы Хибинь;
- 2) Среднерусская возв., Приволжская возв, Ставропольская возв;
- 3) Северо-Сибирская пизм., Алданское нагорье, плато Путорана;
- 4) Колымская пизм, Западно-Сибирская равнина, Япо-Индижирская пизм.

**Максимальное количество баллов – 20.**



**Бланк ответов**

№ задания	Ответ	№ задания	Ответ
1.	1 +	11.	3 +
2.	3 +	12.	2 +
3.	3 +	13.	3 -
4.	4 -	14.	4 -
5.	3 -	15.	4 +
6.	2 -	16.	1 +
7.	4 +	17.	1 +
8.	1 -	18.	3 -
9.	2 -	19.	1 -
10.	3 -	20.	2 +

Член жюри : \_\_\_\_\_

(подпись)

100  
 (Фамилия, имя, отчество)  
 количество баллов)

Код /шифр участника

09-16

**БЛАНК ЗАДАНИЙ****муниципального этапа всероссийской олимпиады школьников****по географии**

(предмет)

11 + 13,5 = 24,5

**II ТУР (АНАЛИТИЧЕСКИЙ)****2021/2022 учебный год****9 класс**Общее время выполнения работы – **180 минут**.На II (аналитический) тур отводится **120 минут**.

Максимально возможное количество баллов, которое Вы можете набрать на аналитическом туре, составляет 80 баллов.

При ответе на задания запрещено пользоваться школьными и прочими атласами, справочными материалами, а также учебниками, мобильными телефонами, карманными компьютерами! Желаем успеха!

**Задание 1. «Знатоки-картографы».**

Вашему вниманию предоставляется фрагмент топографической карты участка местности (рис. 1). Необходимо его изучить и ответить на ряд вопросов. Результаты своего картографического исследования необходимо оформить в предложенной таблице 1.

Таблица 1

**Бланк ответа на задание 1**

№	Вопрос	Ответ
1.	Какая максимальная обозначенная абсолютная высота фиксируется на фрагменте топографической карты?	749,2 м 1
2.	Какие гидрографические объекты присутствуют на карте?	1. <del>арка</del> <del>песчаное озеро</del> 2. <del>озеро</del> 3. <del>рукав</del> 0,5 4. <del>ручей</del> 5. <del>водоточий</del>
3.	В каком направлении протекает река Сиверка на участке, обозначенном цифрой 1?	северо-запад
4.	Какие объекты социальной инфраструктуры (сферы обслуживания) можно найти в пос. Тугарино?	сфера обслуживания (магазины, аптека, автозаправка)
5.	Какой элемент антропогенного рельефа обозначен цифрой 2?	селение 0
6.	Что означает отметка +1,4 у предыдущего объекта?	прибавка к абсолютной отметке рельефа
7.	Какой объект обозначен цифрой 3?	куча 0
8.	Через какой высотный промежуток проведены сплошные горизонтالي на карте?	20 0

Члены жюри (подписи) \_\_\_\_\_

№	Вопрос	Ответ
9.	Сможет ли преодолеть вброд реку Сиверка внедорожник, рассчитанный на преодоление водных преград глубиной до 1,5? Объясните, почему Вы так решили.	Да, так как глубина реки, согласно карте, составляет 0,2 метра, а для внедорожника рассчитаны на преодоление преград глубиной до 1,5.
10.	К какой природной зоне относится местность, изображенная на представленном фрагменте топографической карты? Почему Вы так считаете? Постарайтесь привести два довода.	<p>Природная зона: <u>Лесостепь</u></p> <p>Обоснование:</p> <p>Согласно карте, изображена местность, где преобладают леса, что указывает на лесостепную природную зону. Также на карте видны небольшие озера, что характерно для лесостепной зоны.</p> <p>Местность не является пустыней, так как на карте видны леса, что указывает на лесостепную природную зону.</p>
11.	Разъедутся ли два транспортных средства, шириной по 3,7 м каждое, на шоссе, обозначенном 8(12)Б? Свой ответ объясните.	Да, так как ширина каждого транспортного средства составляет 3,7 м, а ширина шоссе составляет 8 м, что недостаточно для проезда двух транспортных средств.

Максимальное количество баллов – 20.

(фактически  
набранное  
количество баллов)

Члены жюри (подписи) \_\_\_\_\_

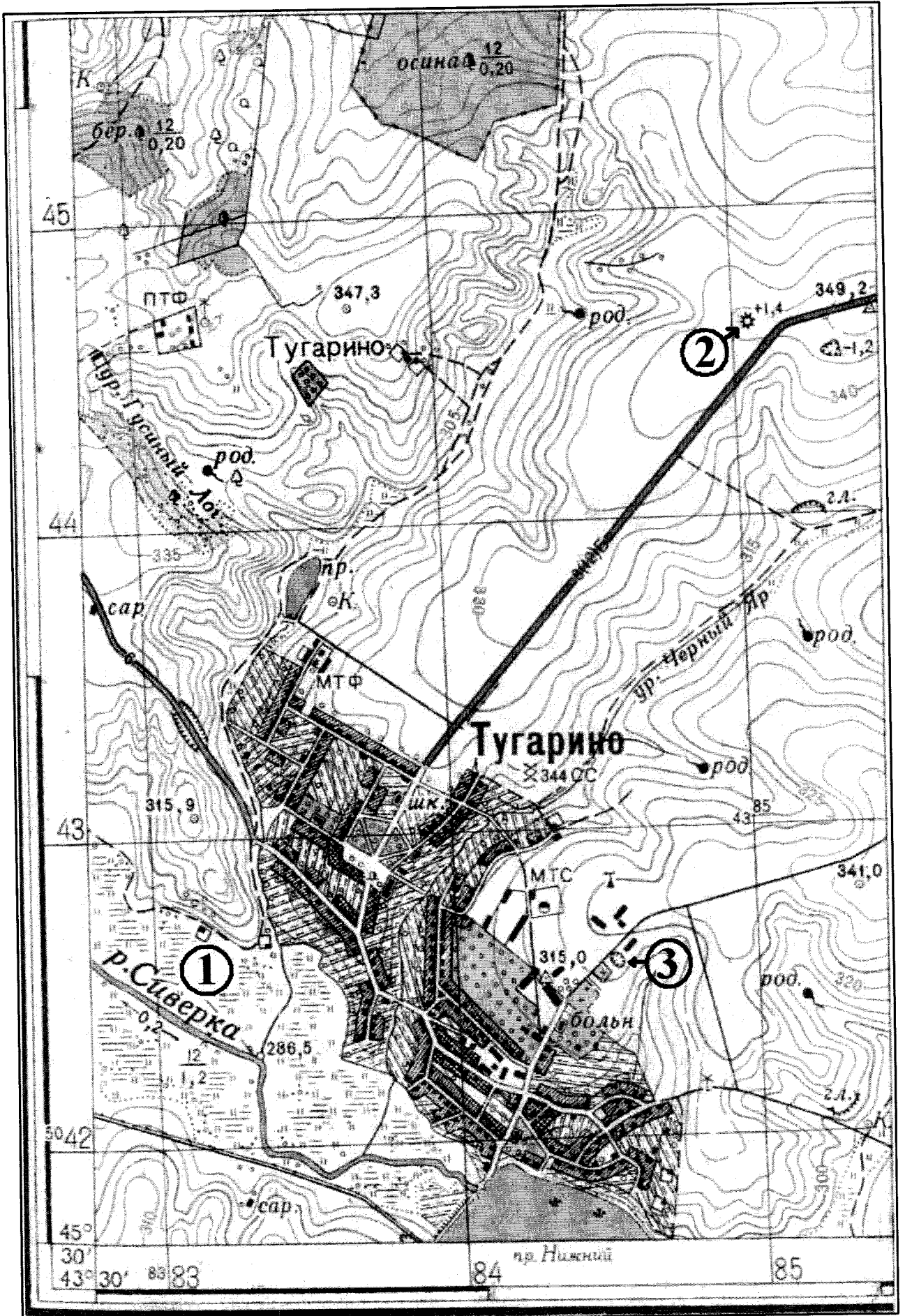



Рис. 1. Фрагмент топографической карты участка местности  
Члены жюри (подписи) \_\_\_\_\_

**Задание 2. «Географическая разминка: термины экономической географии».**

Разгадайте географический кроссворд. Обратите внимание, что задания под одинаковыми номерами могут быть как по вертикали, так и по горизонтали.



(фактически набранное количество баллов)

**По горизонтали:**

- 1. Сочетание производств, основанное на последовательной обработке сырья, комплексном использовании сырья и утилизации отходов.
- 4. Форма государственного устройства, при котором государство имеет в своем составе самоуправляемые образования.
- 5. Место схождения (расхождения) нескольких транспортных путей (дорог), где осуществляется перевалка грузов или пересадка пассажиров, а также сортировка транспортных средств.
- 9. Административная казачья сельская единица, состоит из одного или нескольких казачьих поселений. Распространены такие поселения в основном в южной части Европейской территории России.
- 10. Населенный пункт, в котором более 85% населения занято несельскохозяйственной деятельностью и численностью населения более

Члены жюри (подписи) \_\_\_\_\_



12 тыс. чел. 11. Исторически сложившаяся группа людей, обладающих общностью языка, культуры, психики, норм поведения и миропонимания, т.е. осознающих свою принадлежность к этой общности. 12. Размещение населения или совокупность населенных пунктов на какой-либо территории, сложившаяся в результате процесса ее освоения. 14. Место, расположенное вблизи берега моря или реки, устроенное для стоянки кораблей и судов, а также переработки грузов и пассажиропотоков. 15. Совокупность всех предприятий, производящих однотипную продукцию или оказывающих населению одинаковые виды услуг. 16. Сосредоточение производства какой-либо продукции на крупных предприятиях. 18. Въезд людей из одного государства в другое с целью временного пребывания или постоянного проживания. 19. Выезд за границу для постоянного проживания или работы.

### По вертикали:

2. Рост доли городских жителей, распространение городского образа жизни на все большую часть населения. 3. Территориальное скопление полезных ископаемых. 6. Наиболее крупная форма городского расселения, образующаяся в результате слияния большого числа соседних городских территориальных структур. 7. Наука о народонаселении (численности и воспроизводстве населения). 8. Малый населённый пункт, состоящий из одного, иногда нескольких домохозяйств; отдельная крестьянская усадьба с обособленным хозяйством. 11. Вывоз продукции из страны. 13. Ввоз иностранных товаров в страну. 17. Компактное скопление населённых пунктов, главным образом городских, местами срастающихся, объединённых в сложную многокомпонентную динамическую систему с интенсивными производственными, транспортными и культурными связями.

Максимальное количество баллов – 20.

### Задание 3. «По городам и весям России».

В таблице приведены неофициальные (альтернативные) названия российских регионов, сложившиеся исторически. Подумайте, каким регионам (большим их частям) принадлежат эти названия и почему. Результат оформите в виде таблицы (табл. 2).

Таблица 2

№	Неофициальное название	Официальное название региона	Причина такого названия
1.	Кубань. Говорят: «на Кубани».	<i>Кубанская губерния</i>	<i>Эта земля была открыта в 1763 году в ходе освоения территории</i>
2.	Поморье	<i>Архангельская губерния</i>	<i>Эта земля была открыта в 1584 году в ходе освоения территории</i>

Члены жюри (подписи) \_\_\_\_\_

№	Неофициальное название	Официальное название региона	Причина такого названия
3.	Таврида	<p><i>Таврида</i></p> <p>1</p>	<p><i>Это название связано с тем, что в древности на территории нынешней Украины полагали, что это земля Тавры.</i></p>
4.	Ситцевый край (ситцевое царство), его столица называлась «городом невест».	<p>Название региона: <i>Ситцевое царство</i></p> <p>Название столицы региона: <i>Ситцевый город</i></p>	<p>Объяснение названия региона: <i>Ситцевое царство называлось так, потому что в этом месте находилось много ткацких станков.</i></p> <p>Объяснение названия его столицы: <i>Ситцевый город, в котором много ткацких станков, назывался так, потому что в этом городе жили многие невесты.</i></p>
5.	Северная Пальмира	<p><i>Северная Пальмира</i></p> <p>0</p>	<p>Код/шифр участника</p>

Члены жюри (подписи) \_\_\_\_\_

№	Неофициальное название	Официальное название региона	Причина такого названия
6.	Янтарный край	<p><i>Франшиза</i></p> <p><i>стал больше</i></p> <p>1</p>	<p><i>Словосочетание "Янтарный край" появилось в начале 90-х годов в связи с открытием в регионе.</i></p> <p>1</p>
7.	Югра (является частью официального названия этого региона)	<p><i>Югра -</i></p> <p><i>Магистраль</i></p> <p><i>автомобиль</i></p> <p><i>сервис</i></p> <p>1</p>	
8.	Кузбасс	<p><i>Страна</i></p> <p>0</p>	<p><i>Слово является частью названия из этого региона и используется в форме сокращения "Кубасс" вместо "Кузбасс" 0</i></p>
9.	Прикамье	<p><i>Франшиза</i></p> <p><i>Югра</i></p> <p>0</p>	<p><i>называется в связи с наличием у города Югра.</i></p> <p>0</p>

Максимально возможное количество баллов – 20.

(фактически набранное количество баллов)
--

**Задание 4. «Обычаи и традиции стран мира».**

Многие страны и народы мира выделяются интересными традициями и обычаями, особенностями этикета, церемониями, праздниками. При визите в эти страны необходимо в какой-то степени уметь ориентироваться в этих традициях. Постарайтесь определить, в

Члены жюри (подписи) \_\_\_\_\_

каких странах приняты те или иные традиции, обычаи или ритуалы. Результат своего исследования оформите в виде предложенной таблицы (табл. 3).

Таблица 3

№	Описание традиции	Традиция и страна, в которой она принята
1.	Жители этих стран 2 февраля собираются около нор сурков и внимательно следят, когда животное выйдет. Согласно поверью, если оно выйдет из норы в пасмурный день, то весна придет рано. А если сурок выйдет в солнечный день, увидит свою тень и снова уйдет в нору, то холодная погода будет еще сохраняться на протяжении шести недель.	1. Название традиции: <del>Сурок сурка</del> 2. Страны: 1) <u>Казахстан</u> 2) <u>Молдова</u>
2.	Хотя плевков считается грубым действием во многих культурах, в этом племени это обычный способ приветствовать и проявлять уважение. Члены племени поплюют на руки, прежде чем пожать их, проделывая то же самое с новорожденными детьми и даже невестой, чтобы благословить их и принести им удачу.	Укажите племя:  Укажите два государства, где проживает это племя: 1. <u>Мадagascar</u> 2. <u>Капана</u>
3.	В период майских и июньских праздников и фестивалей в небольшом городке Кастильо де Мурсия проходит шокирующий ритуал очищения Эль Колачо. Это прыжки через младенцев. Подобный ритуал призван очистить души младенцев и унести с собой все зло и болезни.	Страна: <u>Испания</u> 2
4.	Когда жители этой страны говорят «да», они отрицательно качают головой, когда говорят «нет», наоборот, кивают ей. Предание гласит, что во времена османского владычества жители страны специально поменяли жесты согласия и отрицания, чтобы обманывать турков. Когда турки требовали отречься от Христа, они приставляли к шее острый кинжал. Отрицательные движение головой приводили к перерезанию горла. Чтобы избежать смерти и не отречься от Христа, и поменяли жесты местами.	Страна: <u>Тунис</u> 2
5.	Жители этой страны никогда не говорят слово «нет», стараются заменить его другой вежливой фразой или отойти от темы. Не принято отказывать человеку. В этой стране не принято пожимать руки при встрече, вместо этого люди кланяются. В метро есть специальные дежурные, которые буквально запикивают людей в вагоны и утрамбовывают их. Многие улицы не имеют названий, дома указываются описательно или по номеру внутри квартала.	Страна: <u>Южная Корея</u> 0
6.	В этой стране тех, кто до 25 лет не встретил свою вторую половину, ждет интересная участь. Им друзья презентуют длинные гирлянды из носков. Притом из разноцветных. И чем длиннее гирлянда, тем лучше. Подобные украшения могут развесить не только в доме холостяков, но и во дворе. Чтобы все видели, что в этом доме можно познакомиться с будущим мужем или женой. А бывает и так, что гирлянды не дают снимать, пока хозяин или хозяйка не найдут свою пару.	Страна: <u>Италия</u> 0

Члены жюри (подписи) \_\_\_\_\_

№	Описание традиции	Традиция и страна, в которой она принята
7.	В одном из городов этой страны (Буньоль) в последнюю неделю августа ежегодно проходит фестиваль Томатина. Этот праздник сопровождается танцами, музыкой, фейерверками и всевозможными угощениями. А главная традиция – бой томатами. Это поистине «томатное безумие», которое продолжается целый час. Тысячи людей из многих стран съезжаются, чтобы принять участие в необычном сражении. Единственным оружием служат томаты.	Страна: <u>Испания</u>
8.	Спиливание зубов. Этот ритуал является одним из самых важных у жителей страны. Все подростки в возрасте 18 лет должны перетерпеть спиливание верхних боковых клыков. Жители свято верят в то, что острые зубы являются символом злых духов. Это делается для того, чтобы лишить человека семи главных «демонических грехов». Это вождление и похоть, надменность и высокомерие, жадность и стяжательство, ярость и злоба, неоправданное плохое настроение, беспричинная ревность, беспробудное пьянство. И если эти клыки не спилить, то человек после смерти не сможет попасть на небеса. Эта священная церемония проходит в храме. Священник самым обычным напильником спиливает верхние боковые клыки. Затем всю зубную пыль в торжественной обстановке закапывают в семейном храме.	Страна: <u>Испания</u>
9.	Отсутствие числа 4 в лифтах. На языке этой страны число четыре считается символом несчастий и неудач. Это суеверие возникло из-за того, что слова «четыре» и «смерть» созвучны между собой. Именно поэтому во многих лифтах в стране отсутствует число 4. Вместо него можно встретить альтернативные варианты написания, например: 3+1 или 3 b.	Страна: <u>Испания</u>

Максимальное количество баллов – 20.

(фактически  
набранное  
количество баллов)

Максимальное количество баллов за аналитический тур – 80

Члены жюри (подписи) \_\_\_\_\_

**Бланк ответов**

№ задания	Ответ	№ задания	Ответ
1.	1 +	11.	3 +
2.	3 +	12.	2 -
3.	3 -	13.	3 -
4.	4 -	14.	1 -
5.	1 -	15.	4 +
6.	3 +	16.	1 +
7.	2 -	17.	1 +
8.	4 -	18.	4 -
9.	4 -	19.	3 -
10.	3 -	20.	1 -

Член жюри : \_\_\_\_\_  
 (подписи)

(фактически  
 набранное  
 количество баллов)

Код / шифр участника

09-05

**БЛАНК ЗАДАНИЙ**

муниципального этапа всероссийской олимпиады школьников

по географии  
(предмет)

20,5

**II ТУР (АНАЛИТИЧЕСКИЙ)**

2021/2022 учебный год

20,5 + 11 = 31,5

9 класс

Общее время выполнения работы – 180 минут.

На II (аналитический) тур отводится 120 минут.

Максимально возможное количество баллов, которое Вы можете набрать на аналитическом туре, составляет 80 баллов.

При ответе на задания запрещено пользоваться школьными и прочими атласами, справочными материалами, а также учебниками, мобильными телефонами, карманными компьютерами! Желаем успеха!

**Задание 1. «Знатоки-картографы».**

Вашему вниманию предоставляется фрагмент топографической карты участка местности (рис. 1). Необходимо его изучить и ответить на ряд вопросов. Результаты своего картографического исследования необходимо оформить в предложенной таблице 1.

Таблица 1

Бланк ответа на задание 1

№	Вопрос	Ответ
1.	Какая максимальная обозначенная абсолютная высота фиксируется на фрагменте топографической карты?	349,2 /
2.	Какие гидрографические объекты присутствуют на карте?	1. река Сиверка 0,5 2. мурд Никитий 0,5 3. болото 0,5 4. ур. Черный Яр 0 5. ур. Гусиний лог 0
3.	В каком направлении протекает река Сиверка на участке, обозначенном цифрой 1?	Справа налево 0
4.	Какие объекты социальной инфраструктуры (сферы обслуживания) можно найти в пос. Тугарино?	Больница, школа /
5.	Какой элемент антропогенного рельефа обозначен цифрой 2?	Солончаковая сторона 0
6.	Что означает отметка +1,4 у предыдущего объекта?	температуру 0
7.	Какой объект обозначен цифрой 3?	опороженная территория 0
8.	Через какой высотный промежуток проведены сплошные горизонтали на карте?	1° 0

Члены жюри (подписи) \_\_\_\_\_

№	Вопрос	Ответ
9.	Смогут ли преодолеть вброд реку Сиверка внедорожник, рассчитанный на преодоление водных преград глубиной до 1,5? Объясните, почему Вы так решили.	1 Да, так как глубина реки 0,4 м
10.	К какой природной зоне относится местность, изображенная на представленном фрагменте топографической карты? Почему Вы так считаете? Постарайтесь привести два довода.	Природная зона: _____ Обоснование: _____
11.	Разъедутся ли два транспортных средства, шириной по 3,7 м каждое, на шоссе, обозначенном 8(12)В? Свой ответ объясните.	1 Да, так как им потребуется 7,4 м, а шоссе 8 м 2

Максимальное количество баллов – 20.

7,5

Члены жюри (подпись) \_\_\_\_\_






Рис. 1. Фрагмент топографической карты участка местности  
Члены жюри (подписи) \_\_\_\_\_

**Задание 2. «Географическая разминка: термины экономической географии».**

Разгадайте географический кроссворд. Обратите внимание, что задания по одинаковым номерам могут быть как по вертикали, так и по горизонтали.

**По горизонтали:**

1. Сочетание производств, основанное на последовательной обработке сырья, комплексном использовании сырья и утилизации отходов.
4. Форма государственного устройства, при котором государство имеет в своем составе самоуправляемые образования.
5. Место схождения (расхождения) нескольких транспортных путей (дорог), где осуществляется перевалка грузов или пересадка пассажиров, а также сортировка транспортных средств.
9. Административная казачья сельская единица, состоит из одного или нескольких казачьих поселений. Распространены такие поселения в основном в южной части Европейской территории России.
10. Населенный пункт, в котором более 85% населения занято несельскохозяйственной деятельностью и численностью населения более

Учитель географии  
 Подпись: *Б.Г.*  
 Дата: \_\_\_\_\_

Члены жюри (подписи) \_\_\_\_\_

12 тыс. чел. 11. Исторически сложившаяся группа людей, обладающих общностью языка, культуры, психики, норм поведения и миропонимания, т.е. осознающих свою принадлежность к этой общности. 12. Размещение населения или совокупность населенных пунктов на какой-либо территории, сложившаяся в результате процесса ее освоения. 14. Место, расположенное вблизи берега моря или реки, устроенное для стоянки кораблей и судов, а также переработки грузов и пассажиропотоков. 15. Совокупность всех предприятий, производящих однотипную продукцию или оказывающих населению одинаковые виды услуг. 16. Сосредоточение производства какой-либо продукции на крупных предприятиях. 18. Въезд людей из одного государства в другое с целью временного пребывания или постоянного проживания. 19. Выезд за границу для постоянного проживания или работы.

**По вертикали:**

2. Рост доли городских жителей, распространение городского образа жизни на все большую часть населения. 3. Территориальное скопление полезных ископаемых. 6. Наиболее крупная форма городского расселения, образующаяся в результате слияния большого числа соседних городских территориальных структур. 7. Наука о народонаселении (численности и воспроизводстве населения). 8. Малый населённый пункт, состоящий из одного, иногда нескольких домохозяйств; отдельная крестьянская усадьба с обособленным хозяйством. 11. Вывоз продукции из страны. 13. Ввоз иностранных товаров в страну. 17. Компактное скопление населённых пунктов, главным образом городских, местами срастающихся, объединённых в сложную многокомпонентную динамическую систему с интенсивными производственными, транспортными и культурными связями.

**Максимальное количество баллов – 20.**

**Задание 3. «По городам и весям России».**

В таблице приведены неофициальные (альтернативные) названия российских регионов, сложившиеся исторически. Подумайте, каким регионам (большим их частям) принадлежат эти названия и почему. Результат оформите в виде таблицы (табл. 2).

Таблица 2

№	Неофициальное название	Официальное название региона	Причина такого названия
1.	Кубань. Говорят: «на Кубани».	Ростовская область 0	
2.	Поморье	Краснодарский край 0	Находится у моря 0


Члены жюри (подписи) \_\_\_\_\_

№	Неофициальное название	Официальное название региона	Причина такого названия
3.	Таврида		
4.	Ситцевый край (ситцевое царство), его столица называлась «городом невест».	Название региона: <hr/> Название столицы региона: <hr/>	Объяснение названия региона:  Объяснение названия его столицы:
5.	Северная Пальмира	Мурманская область 0	<div data-bbox="986 1774 1506 1877" style="border: 1px solid black; height: 46px; width: 326px;"></div>

Члены жюри (подписи) \_\_\_\_\_

№	Неофициальное название	Официальное название региона	Причина такого названия
6.	Янтарный край	калининградская область /	Добыча янтра /
7.	Югра (является частью официального названия этого региона)		
8.	Кузбасс		
9.	Прикамье	Камская область 0	

Максимально возможное количество баллов – 20.



**Задание 4. «Обычаи и традиции стран мира».**

Многие страны и народы мира выделяются интересными традициями и обычаями. Особенности этикета, церемониями, праздниками. При визите в эти страны необходимо в какой-то степени уметь ориентироваться в этих традициях. Постарайтесь определить, в

Члены жюри (подписи) \_\_\_\_\_

каких странах приняты те или иные традиции, обычаи или ритуалы. Результат своего исследования оформите в виде предложенной таблицы (табл. 3).

Таблица

№	Описание традиции	Традиция и страна, в которой она принята
1.	Жители этих стран 2 февраля собираются около нор сурков и внимательно следят, когда животное выйдет. Согласно поверью, если оно выйдет из норы в пасмурный день, то весна придет рано. А если сурок выйдет в солнечный день, увидит свою тень и спеша уйдет в нору, то холодная погода будет еще сохраняться на протяжении шести недель.	1. Название традиции: 2. Страны: 1) Гренландия 2) Канада
2.	Хотя шлевок считается грубым действием во многих культурах, в этом племени это обычный способ приветствовать и проявлять уважение. Члены племени похлопывают по рукам, прежде чем пожать их, проделывая то же самое с поворожденными детьми и даже невестой, чтобы благословить их и принести им удачу.	Укажите племя: Укажите два государства, где проживает это племя: 1. Кигерия 2.
3.	В период майских и июньских праздников и фестивалей в небольшом городке Кастильо де Мурсия проходит шокирующий ритуал очищения Эль Колачо. Это прыжки через младенцев. Подобный ритуал призван очистить души младенцев и унести с собой все зло и болезни.	Страна: Испания
4.	Когда жители этой страны говорят «да», они отрицательно качают головой, когда говорят «нет», наоборот, кивают ей. Предание гласит, что во времена османского владычества жители страны специально поменяли жесты согласия и отрицания, чтобы обманывать турков. Когда турки требовали отречься от Христа, они приставляли к шее острый кинжал. Отрицательные движения головой приводили к перерезанию горла. Чтобы избежать смерти и не отречься от Христа, и поменяли жесты местами.	Страна: Монголия
5.	Жители этой страны никогда не говорят слово «нет», стараются заменить его другой вежливой фразой или отойти от темы. Не принято отказывать человеку. В этой стране не принято пожимать руки при встрече, вместо этого люди кланяются. В метро есть специальные дежурные, которые буквально запикивают людей в вагоны и утрумбовывают их. Многие улицы не имеют названий, дома указываются описательно или по номеру внутри квартала.	Страна: Южная Корея
6.	В этой стране тех, кто до 25 лет не встретил свою вторую половинку, ждет интересная участь. Им друзья презентуют длинные гирлянды из носков. Причем из разноцветных. И чем длиннее гирлянда, тем лучше. Подобные украшения могут развесить не только в доме холостяков, но и во дворе. Чтобы все видели, что в этом доме можно познакомиться с будущим мужем или женой. А бывает и так, что гирлянды не дают снимать, пока хозяин или хозяйка не найдут свою пару.	Страна: Шотландия

Члены жюри (подписи)

№	Описание традиции	Традиция и страна, в которой она принята
7.	В одном из городов этой страны (Буньоль) в последнюю неделю августа ежегодно проходит фестиваль Томатина. Этот праздник сопровождается танцами, музыкой, фейерверками и всевозможными угощениями. А главная традиция – бой томатами. Это поистине «томатное безумие», которое продолжается целый час. Тысячи людей из многих стран съезжаются, чтобы принять участие в необычном сражении. Единственным оружием служат томаты.	Страна: Испания 2
8.	Спиливание зубов. Этот ритуал является одним из самых важных у жителей страны. Все подростки в возрасте 18 лет должны перетерпеть спиливание верхних боковых клыков. Жители свято верят в то, что острые зубы являются символом злых духов. Это делается для того, чтобы лишить человека семи главных «демонических грехов». Это вождление и похоть, надменность и высокомерие, жадность и стяжательство, ярость и злоба, неоправданное плохое настроение, беспричинная ревность, беспробудное пьянство. И если эти клыки не спилить, то человек после смерти не сможет попасть на небеса. Эта священная церемония проходит в храме. Священник самым обычным напильником спиливает верхние боковые клыки. Затем всю зубную пыль в торжественной обстановке закапывают в семейном храме.	Страна: Алжир 0
9.	Отсутствие числа 4 в лифтах. На языке этой страны число четыре считается символом несчастий и неудач. Это суеверие возникло из-за того, что слова «четыре» и «смерть» созвучны между собой. Именно поэтому во многих лифтах в стране отсутствует число 4. Вместо него можно встретить альтернативные варианты написания, например: 3+1 или 3 b.	Страна: Китай 2

Максимальное количество баллов – 20.

68.

Максимальное количество баллов за аналитический тур – 80

Члены жюри (подписи)

Код /шифр участника

Р- 09-05

**БЛАНК ЗАДАНИЙ**

**муниципального этапа всероссийской олимпиады школьников**

**по географии**  
(предмет)

116

**I ТУР (ТЕСТОВЫЙ)**

**2021/2022 учебный год**

**9 класс**

Общее время выполнения работы – **180 минут**.

На выполнение заданий I (тестового) тура отводится **60 минут**. На II (аналитический) тур отводится **120 минут**.

При ответе на задания запрещено пользоваться школьными и прочими атласами, справочными материалами, а также учебниками, мобильными телефонами, карманными компьютерами! Желаем успеха!

Ответьте на поставленные вопросы, выбрав **один** правильный вариант ответа. При ответе на вопросы будьте очень внимательны, так как некоторые вопросы требуют определить неверный вариант или имеют формулировку с отрицанием.

**Не забудьте перенести свои ответы в бланк ответов (таблица)!**

1. Укажите вариант ответа, в котором правильно указано направление внутренних межрайонных миграций в России в 20-х годах XXI века:
  - ① из Дальневосточного и Сибирского федеральных округов в Центральный и Северо-Западный;
  - 2) из Уральского и Приволжского федеральных округов в Северо-Кавказский и Южный;
  - 3) из Центрального и Северо-Западного федеральных округов в Сибирский и Дальневосточный;
  - 4) из Центрального и Северо-Западного федеральных округов в Северо-Кавказский и Южный.

2. Выберите пару портов, которые расположены на разных морях России:
  - 1) Калининград и Санкт-Петербург; ② Новороссийск и Туансе;
  - 3) Мурманск и Архангельск; ④ Владивосток и Находка.

3. Выберите вариант ответа, в котором присутствуют только столицы автономных округов России:
  - 1) Петрозаводск, Сыктывкар, Элиста; ② Москва, Санкт-Петербург, Севастополь;
  - 3) Ханты-Мансийск, Нарьян-Мар, Салехард; 4) Екатеринбург, Биробиджан, Владивосток.

4. Укажите сочетание, в котором указаны столицы регионов России, граничащих со странами ЕС (Евросоюз):
  - 1) Москва, Тверь, Брянск; ② Исков, Петрозаводск, Мурманск;
  - 3) Владивосток, Анадырь, Благовещенск; 4) Смоленск, Орел, Курск.



5. Выберите вариант ответа, в котором правильно указано соотношение «субъект Российской Федерации – название курорта»:

- 1) Ленинградская обл. – Марциальные Воды;
- 2) Ставропольский край – Кавказские Минеральные Воды;
- 3) Кемеровская обл. – Белокуриха; 4) Респ. Крым – Геленджик.

6. Выберите вариант ответа, в котором указана пара регионов России, самыми первыми встречающих Новый год:

- 1) Магаданская обл., Респ. Якутия; 2) Приморский край, Хабаровский край;
- 3) Камчатский край, Чукотский авт. округ; 4) Амурская обл., Забайкальский край.

7. Укажите правильное соотношение «природный ресурс – вид природных ресурсов»:

- 1) лес – неисчерпаемые; 2) энергия ветра – исчерпаемые возобновимые;
- 3) плодородие почв – исчерпаемые невозобновимые;
- 4) пресная вода – исчерпаемые возобновимые.

8. В каком варианте ответа верно указано соотношение «горная вершина – субъект РФ»:

- 1) Эльбрус – Ставропольский край; 2) Белуха – Респ. Алтай;
- 3) г. Народная – Свердловская область; 4) Ключевская Сопка – Сахалинская обл.

9. Выберите правильное соотношение «столица субъекта РФ – река, на которой она стоит»:

- 1) г. Краснодар – р. Кубань; 2) г. Новосибирск – р. Енисей; 3) г. Челябинск – р. Урал;
- 4) г. Воронеж – р. Волга.

10. Определите вариант ответа, в котором указаны регионы, реки которых имеют половодье в теплый сезон года (летом):

- 1) Калининградская обл., Псковская обл., Новгородская обл.;
- 2) Волгоградская обл., Пензенская обл., Оренбургская обл.;
- 3) Краснодарский край, Респ. Адыгея, Ростовская обл.;
- 4) Хабаровский край, Еврейская авт. обл., Амурская обл.

11. На территории какого субъекта РФ находится первая и единственная в стране приливная электростанция:

- 1) Камчатский край; 2) Чукотский авт. округ; 3) Мурманская обл.; 4) Ленинградская обл.

12. На территории какого современного региона России находится родина старинного русского промысла хохлома (хохломенская роспись):

- 1) Костромская обл.;  2) Нижегородская обл.; 3) Владимирская обл.; 4) Московская обл.

13. Выберите вариант, в котором представлены только специализирующиеся на добыче угля регионы России:

- 1) Астраханская обл., Респ. Калмыкия, Респ. Карачаево-Черкессия;
- 2) Пермский край, Свердловская обл., Респ. Татарстан;
- 3) Липецкая обл., Тамбовская обл., Воронежская обл.;
- 4) Респ. Якутия, Кемеровская обл., Красноярский край.

14. Выберите сочетание регионов Центрального федерального округа с наибольшей долей электроэнергии, выработанной на АЭС:

- 1) Белгородская обл., Брянская обл., Владимирская обл.;
- 2) Ивановская обл., Калужская обл., Костромская обл.;
- 3) Курская обл., Смоленская обл., Тверская обл.;
- 4) Ростовская обл., Саратовская обл., Воронежская обл.

15. Выберите вариант ответа, в котором представлены города с самыми высокими температурами самого холодного месяца в году:

- 1) Владивосток, Южно-Сахалинск, Петропавловск Камчатский;
- 2) Ростов на Дону, Волгоград, Астрахань;
- 3) Улан-Удэ, Барнаул, Горно-Алтайск.
- 4) Сочи, Ялта, Севастополь.

16. Какие крупные города Вы проедете, путешествуя прямым маршрутом на поезде из Москвы в Крым:

- 1) Рязань, Воронеж, Ростов-на-Дону;
- 2) Ярославль, Пермь, Екатеринбург;
- 3) Санкт-Петербург, Петрозаводск, Мурманск;
- 4) Курган, Красноярск, Иркутск.

17. В какие регионы России Вы организуете тур, чтобы насладиться красотой пещер:

- 1) Краснодарский край и Респ. Адыгея, Крым, Пермский край;
- 2) Респ. Карелия, Мурманская обл., Респ. Коми;
- 3) Саратовская обл., Оренбургская обл., Пензенская обл.;
- 4) Тульская обл., Орловская обл., Курская обл.

18. Какая из групп факторов размещения преобладает в настоящее время при выборе места для строительства завода по производству автомобилей:

- 1) сырьевой и топливный; 2) энергетический и водный;
- 3) потребительский и экологический; 4) географического положения, транспортный.

19. Выберите сочетание регионов России с максимально неблагоприятными природными условиями проживания:

- 1) Омская обл., Новосибирская обл., Иркутская обл.;
- 2) Астраханская обл., Респ. Кабардино-Балкария, Респ. Дагестан;
- 3) Архангельская обл., Ямало-Ненецкий авт. окр., Респ. Якутия;
- 4) Приморский край, Забайкальский край, Респ. Хакасия.

20. Выберите группу, где указаны физико-географические объекты России, на территории которых фиксируется максимальная плотность населения:

- 1) Тиманский кряж, Северные Увалы, горы Хибинь;
- 2) Среднерусская возв., Приволжская возв., Ставропольская возв.;
- 3) Северо-Сибирская низм., Алданское нагорье, плато Путорана;
- 4) Колымская низм., Западно-Сибирская равнина, Яно-Индигирская низм.

**Максимальное количество баллов – 20.**

## Бланк ответов

№ задания	Ответ	№ задания	Ответ
1.	1	11.	1
2.	4	12.	2
3.	2	13.	43
4.	2	14.	4
5.	2	15.	4
6.	3	16.	1
7.	3	17.	1
8.	1	18.	4
9.	4	19.	3
10.	3	20.	2

Член жюри : \_\_\_\_\_  
(подпись)

(Фактически  
набранные  
количество баллов)