

№5 - 07 - 24
--------------

## БЛАНК ЗАДАНИЙ

муниципального этапа всероссийской олимпиады школьников  
по ИСТОРИИ

2021/2022 учебный год

7 класс

54
----

Общее время выполнения работы – 90 минут.

Максимальное количество баллов – 100.

Задание 1. Выберите один правильный ответ. Ответ внесите в таблицу.

10
----

1.1. Кто был правителем Московского государства в то время, когда состоялась первая морская экспедиция Христофора Колумба?

А) Дмитрий Донской Б) Василий II Темный В) Иван III Великий Г) Василий III

1.2. В каком году произошли описанные в древнерусском сочинении события?

«Хочу вам, братья, поведать о брани недавней войны, как случилась битва на Дону великого князя Дмитрия Ивановича и всех православных христиан с поганым Мамаем и с безбожными агарянами». А) 1223 Б) 1238 В) 1380 Г) 1395 Д) 1480

1.3. Монгольская империя Чингисхана делилась в административном отношении на:

А) тумены Б) курултаи В) нойоны Г) улусы

1.4. Даниил Холмский и Даниил Щеня были полководцами в годы правления:

А) Ярослава Мудрого Б) Александра Невского В) Ивана Калиты Г) Ивана III Васильевича

1.5. В 1385 году в результате заключения Кревской унии великий князь литовский стал королем: А) Венгрии Б) Швеции В) Франции Г) Польши

1.6. Кто из древнерусских князей, согласно летописям, повесил щит на воротах Царьграда?

А) Олег Б) Игорь В) Святослав Г) Владимир Святой

1.1.	1.2	1.3	1.4	1.5	1.6.
<del>А</del>	В √√	Г √√	Г √√	Г √√	А √√

Максимальное количество баллов – 12.

Задание 2. Выберите несколько правильных ответов. Ответы внесите в таблицу.

7
---

2.1. Какие из указанных событий произошли в годы правления Ивана Калиты?

А) восстание в Твери 1327 года Б) перенос резиденции митрополита из Владимира в Москву В) строительство белокаменного Кремля в Москве Г) основание Московского княжества

Члены жюри:

2.2. Какие из указанных исторических терминов не относятся к истории Древнерусского государства IX – начала XII веков?

А) закуп Б) ярлык на великое княжение В) смерд Г) судебник Д) митрополит

2.3. К жанрам древнерусской литературы X – XIII веков не относятся:

А) житие Б) фреска В) летопись Г) слово Д) хождение Е) миниатюра

2.4. Какие из указанных событий произошли в один и тот же год?

А) первое упоминание Москвы в летописях Б) нашествие Батые на Северо-Восточную Русь  
В) Вильгельм Завоеватель становится королем Англии Г) начало второго крестового похода  
Д) основание Кенигсберга.

2.1.	2.2.	2.3.	2.4.
<del>А, В</del>	<del>Б, Г, Д, А</del> 3	<del>Б, Д, Е</del> 3	<del>Б, Г, А</del> 1

Максимальное количество баллов – 12.

**Задание 3.** Изучите фрагменты древнерусских летописей и исторических документов, вставьте пропущенные в тексте слова.

3.1. Вставьте пропущенное название группы народов.

«Также эти же (славяне ✓✓), придя, сели по Днепру и назвались полянами, а другие — древлянами, потому что сели в лесах, а другие сели между Припятью и Двиною и назвались дреговичами, иные сели по Двине и назвались полочанами, по речке, впадающей в Двину, именуемой Полота, от нее и прозвались полочане».

3.2. Вставьте имя и отчество правителя Московского государства.

«Лета 7006-го месяца септември уложил князь великий (Иван Калита) всея Руси с детьми своими и с бояры о суде как судити бояром и окозничим...»

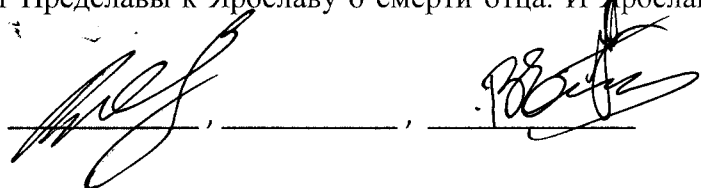
3.3. Вставьте имя исторического деятеля.

«В год 6745 (1237). Пришел на Русскую землю безбожный царь (Батый ✓✓) со множеством воинов татарских и стал на реке на Воронеже близ земли Рязанской».

3.4. Вставьте имя исторического деятеля.

«А как пришел Глеб в Смоленск, отошел от Смоленска недалеко и стал на Смядыни, в ладье. А в это время пришла весть от Предславы к Ярославу о смерти отца. И Ярослав прислал к

Члены жюри:



№5 - 07 - 24

Глебу, говоря: «Не ходи, брат. Отец твой умер, а брат твой убит (кем?)  
(Святославом)».

Максимальное количество баллов – 8.

Задание 4. По какому принципу образован ряд. Дайте максимально точный ответ.

3

4.1. Ольгерд, Витовт, Ягайло, Гедимин, Свидригайло.

это Польско-Литовские князья

4.2. «Повесть о разорении Рязани Батыем», «Сказание о мамаевом побоище», «Задонщина»,  
«Повесть о битве на Калке», «Слово о погибели Русской земли».

это произведения посвященные Монголо-татарскому игу

4.3. госпитальеры, тамплиеры, тевтонцы, меченосцы.

это рыцари

Максимальное количество баллов – 9.

Задание 5. Ознакомьтесь с фрагментом древнерусского сочинения (жития) и  
ответьте на вопросы.

4

«...Услышав о такой доблести князя Александра, король страны Римской из  
Полуночной земли подумал про себя: «Пойду и завоюю землю Александрову». И собрал  
силу великую, и наполнил многие корабли полками своими, двинулся с огромной силой,  
пыхая духом ратным. И пришел в Неву, опьяненный безумием, и отправил послов своих,  
возгордившись, в [пропущено название города] к князю Александру, говоря: «Если можешь,  
защищайся, ибо я уже здесь и разорю землю твою».

Укажите год, когда произошли описанные события: 1238

Укажите современное название государства, которым правил «король страны  
Римской из Полуночной земли», упоминаемый в приведенном фрагменте

Германия

В какой город отправил своих послов упоминаемый в приведенном фрагменте  
король? в Новгород

Назовите битву, которая произошла в результате описанных событий:

Невская битва


Изучите изображение и определите, относится ли оно к событиям, о которых идет  
речь в приведенном фрагменте. Приведите два факта в подтверждение своей точки зрения:

Относится/не относится относится

Члены жюри:

[Подписи]

1. На изображении видно рыцарей - крестоносцев
2. На изображении в дощечке видно воинов





Максимальное количество баллов - 12.

**Задание 6.** Определите пропущенные в тексте слова, обозначенные порядковыми номерами. Необходимые вставки впишите под соответствующими номерами в помещённую ниже таблицу.

4
---

Ярослав Мудрый был сыном великого князя Киевского (1 – имя правителя). В 1015—1019 годах он вел борьбу за киевский престол со Святополком (2 – прозвище князя). После победы над Святополком Ярослав разделил по Днепру государство с братом (3 – имя князя) и только после смерти последнего вновь смог объединить русские земли. Ярослав проводил активную внешнюю политику. В 1036 году он разгромил под Киевом (4 – название народа). В память об этой победе в Киеве был заложен (5 – название сооружения). В 1043 году состоялся последний крупный поход против (6 – название государства). Ярославу Мудрому приписывают составление древнейшей части первого письменного свода законов – (7 – название свода законов). В годы его правления возник (8 – название) монастырь. Киевским (9 – церковный сан) был избран монах Илларион. Ярослав установил династические связи со многими государствами Европы. Его дочь Анна стала женой короля (10 – название государства). Надпись на стене храма, в котором Ярослав похоронен, именует его (11 – название титула).

Члены жюри:

 , 

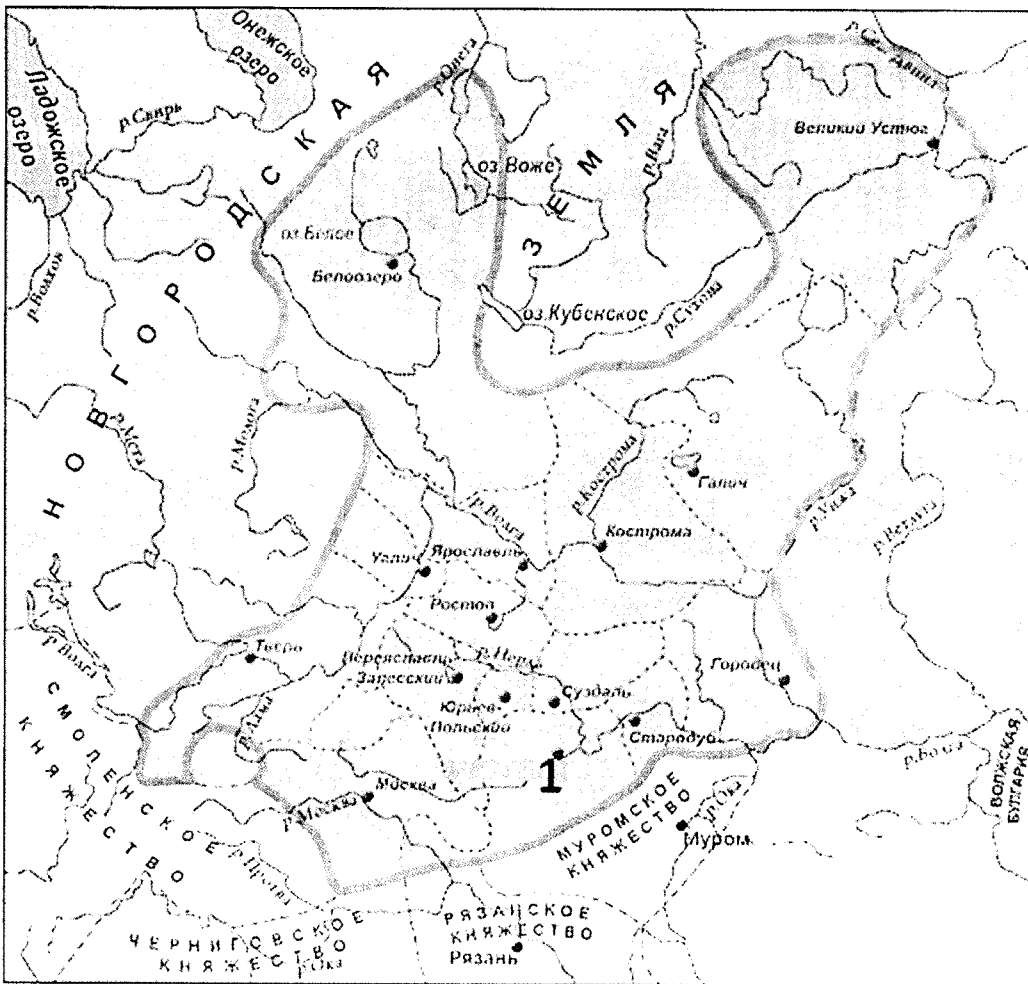
№ 07-24

1	<del>Владимир Мономах</del>	7	Тусская грава ✓
2	Ока <del>Финский</del> ✓	8	Плещинско-Серапиевский
3	Дед <del>Владимирович</del>	9	Митрополит ✓
4	<del>Флорович</del> Печенеги ✓	10	
5		11	Великий князь Киевский
6	Волжская Булгария		

Максимальное количество баялов – 11.

Задание 7. Изучите карту-схему, на которой изображены древнерусские земли и княжества начала XIII века, и ответьте на предложенные вопросы.

6



✓ Назовите княжество, границы которого на карте-схеме обозначены сплошной линией

Владимиро-суздальское княжество

Назовите город-столицу княжества, обозначенный на карте цифрой 1

Владимир-на-Клязьме

Назовите князя, который считается основателем данного княжества

Члены жюри:

[Handwritten signatures]

Выберите три события отечественной истории XII – XIV вв., которые произошли территории данного княжества. Запишите в таблицу порядковые номера соответствующих событий.

- 1) Битва на реке Калка
- 2) Строительство храма Покрова на Нерли
- 3) Куликовская битва
- 4) Битва на реке Сить
- 5) Ледовое побоище
- 6) Строительство Золотых ворот во Владимире
- 7) Битва на реке Воже

2, 3, 6, 7

Максимальное количество баллов – 12.

Задание 8. Установите соответствие между деятелями науки и изобретателями, а также их открытиями и изобретениями

10

	Исторические деятели		Изобретение и открытия
1	Бартоломеу Диаш	А	Гелиоцентрическая система мира
2	Иоганн Гуттенберг	Б	Законы движения планет
3	Ибн Сина (Авиценна)	В	Книгопечатание с помощью подвижных литер
4	Николай Коперник	Г	Открытие мыса Доброй надежды для европейского мира
5	Иоганн Кеплер	Д	Описание симптомов холеры, чумы, проказы

1	2	3	4	5
В Г ✓✓	В В ✓✓	А ✓✓	А ✓✓	Б ✓✓

Максимальное количество баллов – 10.

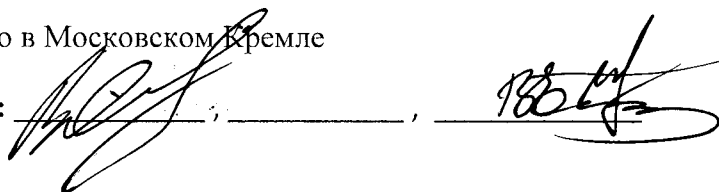
0

Задание 9. Расположите по времени создания памятники древнерусского зодчества.

Внесите буквенные обозначения в хронологическом порядке в приведенную таблицу.

- А) Собор Василия Блаженного в Москве
- Б) Собор Святой Софии в Новгороде
- В) Колокольня Ивана Великого в Московском Кремле

Члены жюри:



№ 07-24

Г) Грановитая палата в Московском Кремле

Д) Десятинная церковь в Киеве

<del>Б</del>	<del>А</del>	<del>А</del>	<del>Г</del>	<del>В</del>
--------------	--------------	--------------	--------------	--------------

Максимальное количество баллов – 6.

**Задание 10.** На о. Капта в Калининграде расположен памятник, посвященный одному из известных европейских политических деятелей XVI века.

Внимательно изучите изображение памятника и ответьте на вопросы.



Назовите исторического деятеля, которому возведен данный памятник

Выберете из списка три положения, которые относятся к данному историческому деятелю. Запишите в таблицу порядковые номера соответствующих положений.

- 1) Основатель Кенигсберга
- 2) Основатель герцогства Пруссия
- 3) Основатель государства Тевтонского ордена в Пруссии
- 4) Основатель Кенигсбергского университета
- 5) Последний великий магистр Тевтонского Ордена в Пруссии
- 6) Союзник Дмитрия Донского в Куликовской битве

7, 2, 4 ✓
-----------

Члены жюри:


Код/шифр участника

9

Назовите известный архитектурный памятник XIV века г. Калининграда, рядом с которым находится указанный памятник историческому деятелю

Максимальное количество баллов – 8.

Члены жюри:

 \_\_\_\_\_



## БЛАНК ЗАДАНИЙ

муниципального этапа всероссийской олимпиады школьников  
по ИСТОРИИ

2021/2022 учебный год

7 класс

Общее время выполнения работы – 90 минут.  
Максимальное количество баллов – 100.

Задание 1. Выберите один правильный ответ. Ответ внесите в таблицу.



1.1. Кто был правителем Московского государства в то время, когда состоялась первая морская экспедиция Христофора Колумба?

А) Дмитрий Донской Б) Василий II Темный В) Иван III Великий Г) Василий III

1.2. В каком году произошли описанные в древнерусском сочинении события?

«Хочу вам, братья, поведать о брани недавней войны, как случилась битва на Дону великого князя Дмитрия Ивановича и всех православных христиан с поганым Мамаем и с безбожными агарянами». А) 1223 Б) 1238 В) 1380 Г) 1395 Д) 1480

1.3. Монгольская империя Чингисхана делилась в административном отношении на:

А) тумены Б) курултаи В) нойоны Г) улусы

1.4. Даниил Холмский и Даниил Щеня были полководцами в годы правления:

А) Ярослава Мудрого Б) Александра Невского В) Ивана Калиты Г) Ивана III Васильевича

1.5. В 1385 году в результате заключения Кревской унии великий князь литовский стал королем: А) Венгрии Б) Швеции В) Франции Г) Польши

1.6. Кто из древнерусских князей, согласно летописям, повесил щит на воротах Царьграда?

А) Олег Б) Игорь В) Святослав Г) Владимир Святой

1.1.	1.2.	1.3.	1.4.	1.5.	1.6.
<input checked="" type="checkbox"/>	<input checked="" type="checkbox"/>	<input checked="" type="checkbox"/>	<input checked="" type="checkbox"/>	<input checked="" type="checkbox"/>	<input checked="" type="checkbox"/>

Максимальное количество баллов – 12.

Задание 2. Выберите несколько правильных ответов. Ответы внесите в таблицу.



2.1. Какие из указанных событий произошли в годы правления Ивана Калиты?

А) восстание в Твери 1327 года Б) перенос резиденции митрополита из Владимира в Москву В) строительство белокаменного Кремля в Москве Г) основание Московского княжества

Члены жюри:

№5 - 07 - 28

2.2. Какие из указанных исторических терминов не относятся к истории Древнерусского государства IX – начала XII веков?

А) закуп Б) ярлык на великое княжение В) смерд Г) судебник Д) митрополит

2.3. К жанрам древнерусской литературы X – XIII веков не относятся:

А) житие Б) фреска В) летопись Г) слово Д) хождение Е) миниатюра

2.4. Какие из указанных событий произошли в один и тот же год?

А) первое упоминание Москвы в летописях Б) нашествие Батыя на Северо-Восточную Русь  
В) Вильгельм Завоеватель становится королем Англии Г) начало второго крестового похода  
Д) основание Кенигсберга.

2.1.	2.2.	2.3.	2.4.
a, b ✓	b, r 3	g e v	b, r 1

Максимальное количество баллов – 12.

**Задание 3.** Изучите фрагменты древнерусских летописей и исторических документов, вставьте пропущенные в тексте слова.

2

3.1. Вставьте пропущенное название группы народов.

«Также эти же ( славяне W ), придя, сели по Днепру и назвались полянами, а другие — древлянами, потому что сели в лесах, а другие сели между Припятью и Двиною и назвались дреговичами, иные сели по Двине и назвались полочанами, по речке, впадающей в Двину, именуемой Полота, от нее и прозвались полочане».

3.2. Вставьте имя и отчество правителя Московского государства.

«Лета 7006-го месяца септемвриа уложил князь великий ( Владимир ) всея Руси с детми своими и с бояры о суде как судити бояром и околничим...»

3.3. Вставьте имя исторического деятеля.

«В год 6745 (1237). Пришел на Русскую землю безбожный царь ( Батый ) со множеством воинов татарских и стал на реке на Воронеже близ земли Рязанской».

3.4. Вставьте имя исторического деятеля.

«А как пришел Глеб в Смоленск, отошел от Смоленска недалеко и стал на Смядыни, в ладье. А в это время пришла весть от Предславы к Ярославу о смерти отца. И Ярослав прислал к

Члены жюри:

М.А. [подпись], [подпись], [подпись]

№5 - 07-28

Глебу, говоря: «Не ходи, брат. Отец твой умер, а брат твой убит (кем?)  
(ярославом)».

Максимальное количество баллов – 8.

Задание 4. По какому принципу образован ряд. Дайте максимально точный ответ.

3

4.1. Ольгерд, Витовт, Ягайло, Гедимин, Свидригайло.

ряд правителей князей литовского государства в начале 14 в. из Аляксандра

4.2. «Повесть о разорении Рязани Батыем», «Сказание о мамаевом побоище», «Задонщина»,

«Повесть о битве на Калке», «Слово о погибели Русской земли».

по принципу сбора рассказов о событиях происшедших в исторической местности

4.3. госпитальеры, тамплиеры, тевтонцы, меченосцы.

ряд рыцарских орденов, пришедших на территорию восточной Европы

Максимальное количество баллов – 9.

Задание 5. Ознакомьтесь с фрагментом древнерусского сочинения (жития) и ответьте на вопросы.

4

«...Услышав о такой доблести князя Александра, король страны Римской из Полуночной земли подумал про себя: «Пойду и завоюю землю Александрову». И собрал силу великую, и наполнил многие корабли полками своими, двинулся с огромной силой, пыхая духом ратным. И пришел в Неву, опьяненный безумием, и отправил послов своих, возгордившись, в [пропущено название города] к князю Александру, говоря: «Если можешь, защищайся, ибо я уже здесь и разоряю землю твою».

Укажите год, когда произошли описанные события: 1223

Укажите современное название государства, которым правил «король страны Римской из Полуночной земли», упоминаемый в приведенном фрагменте

Италия

В какой город отправил своих послов упоминаемый в приведенном фрагменте король? Новгород

Назовите битву, которая произошла в результате описанных событий:

Битва на Калке


Изучите изображение и определите, относится ли оно к событиям, о которых идет речь в приведенном фрагменте. Приведите два факта в подтверждение своей точки зрения:

Относится/не относится относится

Члены жюри: [подписи]

№ 07-28

1. видно, что битва происходит на заре (или)
2. видно характерную одежду и вооружение воинов



Максимальное количество баллов - 12.

**Задание 6.** Определите пропущенные в тексте слова, обозначенные порядковыми номерами. Необходимые вставки впишите под соответствующими номерами в помещённую ниже таблицу.

3

Ярослав Мудрый был сыном великого князя Киевского (1 – имя правителя). В 1015—1019 годах он вел борьбу за киевский престол со Святополком (2 – прозвище князя). После победы над Святополком Ярослав разделил по Днепру государство с братом (3 – имя князя) и только после смерти последнего вновь смог объединить русские земли. Ярослав проводил активную внешнюю политику. В 1036 году он разгромил под Киевом (4 – название народа). В память об этой победе в Киеве был заложен (5 – название сооружения). В 1043 году состоялся последний крупный поход против (6 – название государства). Ярославу Мудрому приписывают составление древнейшей части первого письменного свода законов – (7 – название свода законов). В годы его правления возник (8 – название) монастырь. Киевским (9 – церковный сан) был избран монах Илларион. Ярослав установил династические связи со многими государствами Европы. Его дочь Анна стала женой короля (10 – название государства). Надпись на стене храма, в котором Ярослав похоронен, именует его (11 – название титула).

Члены жюри:

Код/шифр участника

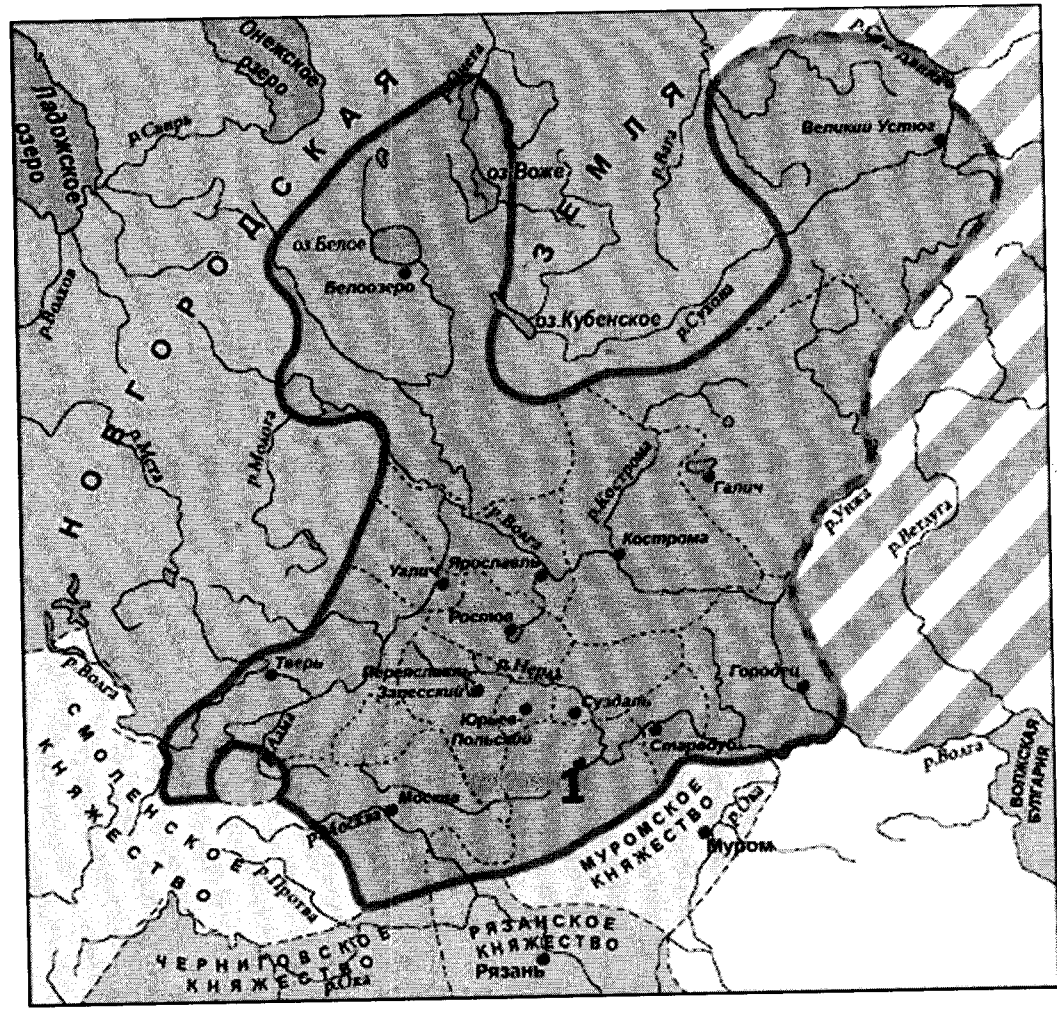
Ис5 - 07 - 28

1		7	пробва Ярослав
2		8	ярославский
3	Восточный	9	митрополитам 1
4	клев ржоставцев	10	армия
5		11	Великий князь
6	Византия		

Максимальное количество баллов – 11.

Задание 7. Изучите карту-схему, на которой изображены древнерусские земли и княжества начала XIII века, и ответьте на предложенные вопросы.

6



Назовите княжество, границы которого на карте-схеме обозначены сплошной линией

Княжество Владимиро-Суздальское

Назовите город-столицу княжества, обозначенный на карте цифрой 1

Киев Владимир

Назовите князя, который считается основателем данного княжества

Владимир

Члены жюри:

[Handwritten signatures]

№ 07-28

Выберите три события отечественной истории XII – XIV вв., которые произошли на территории данного княжества. Запишите в таблицу порядковые номера соответствующих событий.

- 1) Битва на реке Калка
- 2) Строительство храма Покрова на Нерли
- 3) Куликовская битва
- 4) Битва на реке Сить
- 5) Ледовое побоище
- 6) Строительство Золотых ворот во Владимире
- 7) Битва на реке Воже

2 6 ✓✓

Максимальное количество баллов – 12.

Задание 8. Установите соответствие между деятелями науки и изобретателями, а также их открытиями и изобретениями

6

	Исторические деятели		Изобретение и открытия
1	Бартоломеу Диаш	А	Гелиоцентрическая система мира
2	Иоганн Гуттенберг	Б	Законы движения планет
3	Ибн Сина (Авиценна)	В	Книгопечатание с помощью подвижных литер
4	Николай Коперник	Г	Открытие мыса Доброй надежды для европейского мира
5	Иоганн Кеплер	Д	Описание симптомов холеры, чумы, проказы

1	2	3	4	5
2	6 ✓✓	<del>3</del>	4 ✓✓ а	<del>5</del>

Максимальное количество баллов – 10.

7

Задание 9. Расположите по времени создания памятники древнерусского зодчества.

Внесите буквенные обозначения в хронологическом порядке в приведенную таблицу.

А) Собор Василия Блаженного в Москве

Б) Собор Святой Софии в Новгороде

В) Колокольня Ивана Великого в Московском Кремле

Члены жюри:

*[Handwritten signatures]*

№ 07-28

Г) Грановитая палата в Московском Кремле

Д) Десятинная церковь в Киеве

а	б	а	г	д
---	---	---	---	---

Максимальное количество баллов – 6.

**Задание 10.** На о. Канта в Калининграде расположен памятник, посвященный одному из известных европейских политических деятелей XVI века.

Внимательно изучите изображение памятника и ответьте на вопросы.

2



Назовите исторического деятеля, которому возведен данный памятник

Выберете из списка три положения, которые относятся к данному историческому деятелю. Запишите в таблицу порядковые номера соответствующих положений.

- 1) Основатель Кенигсберга
- 2) Основатель герцогства Пруссия
- 3) Основатель государства Тевтонского ордена в Пруссии
- 4) Основатель Кенигсбергского университета
- 5) Последний великий магистр Тевтонского Ордена в Пруссии
- 6) Союзник Дмитрия Донского в Куликовской битве

2, 3, 5

Члены жюри:

*[Handwritten signatures]*

ИИ 07-28
----------

Назовите известный архитектурный памятник XIV века г. Калининграда, рядом с которым находится указанный памятник историческому деятелю

Калининградский университет

Максимальное количество баллов – 8.

Члены жюри:





№ - 07 - 09

## БЛАНК ЗАДАНИЙ

муниципального этапа всероссийской олимпиады школьников  
по ИСТОРИИ

2021/2022 учебный год

7 класс

Общее время выполнения работы – 90 минут.  
Максимальное количество баллов – 100.

6

Задание 1. Выберите один правильный ответ. Ответ внесите в таблицу.

1.1. Кто был правителем Московского государства в то время, когда состоялась первая морская экспедиция Христофора Колумба?

А) Дмитрий Донской Б) Василий II Темный В) Иван III Великий Г) Василий III

1.2. В каком году произошли описанные в древнерусском сочинении события?

«Хочу вам, братья, поведать о брани недавней войны, как случилась битва на Дону великого князя Дмитрия Ивановича и всех православных христиан с поганым Мамаем и с безбожными агарянами». А) 1223 Б) 1238 В) 1380 Г) 1395 Д) 1480

1.3. Монгольская империя Чингисхана делилась в административном отношении на:

А) тумены Б) курултаи В) нойоны Г) улусы

1.4. Даниил Холмский и Даниил Щеня были полководцами в годы правления:

А) Ярослава Мудрого Б) Александра Невского В) Ивана Калиты Г) Ивана III Васильевича

1.5. В 1385 году в результате заключения Кревской унии великий князь литовский стал королем: А) Венгрии Б) Швеции В) Франции Г) Польши

1.6. Кто из древнерусских князей, согласно летописям, повесил щит на воротах Царьграда?

А) Олег Б) Игорь В) Святослав Г) Владимир Святой

1.1.	1.2	1.3	1.4	1.5	1.6.
А В	А	Г	Б	Г	А +

Максимальное количество баллов – 12.

Задание 2. Выберите несколько правильных ответов. Ответы внесите в таблицу.

7

2.1: Какие из указанных событий произошли в годы правления Ивана Калиты?

А) восстание в Твери 1327 года Б) перенос резиденции митрополита из Владимира в Москву В) строительство белокаменного Кремля в Москве Г) основание Московского княжества

Члены жюри:



105-08-09

2.2. Какие из указанных исторических терминов не относятся к истории Древнерусского государства IX – начала XII веков?

А) закуп Б) ярлык на великое княжение В) смерд Г) судебник Д) митрополит

2.3. К жанрам древнерусской литературы X – XIII веков не относятся:

А) житие Б) фреска В) летопись Г) слово Д) хождение Е) миниатюра

2.4. Какие из указанных событий произошли в один и тот же год?

А) первое упоминание Москвы в летописях Б) нашествие Батые на Северо-Восточную Русь  
В) Вильгельм Завоеватель становится королем Англии Г) начало второго крестового похода  
Д) основание Кенигсберга.

2.1.	2.2.	2.3.	2.4.
В, Б +	В, Д	Б, Е +	А, Г +

Максимальное количество баллов – 12.

**Задание 3.** Изучите фрагменты древнерусских летописей и исторических документов, вставьте пропущенные в тексте слова.

2

3.1. Вставьте пропущенное название группы народов.

«Также эти же ( славяне ), придя, сели по Днепру и назвались полянами, а другие — древлянами, потому что сели в лесах, а другие сели между Припятью и Двиною и назвались дреговичами, иные сели по Двине и назвались полочанами, по речке, впадающей в Двину, именуемой Полота, от нее и прозвались полочане».

3.2. Вставьте имя и отчество правителя Московского государства.

«Лета 7006-го месяца септември уложил князь великий ( Иван Калита ) вся Руси с детми своими и с бояры о суде как судити бояром и околничим...»

3.3. Вставьте имя исторического деятеля.


«В год 6745 (1237). Пришел на Русскую землю безбожный царь ( Чингисхан ) со множеством воинов татарских и стал на реке на Воронеже близ земли Рязанской».

3.4. Вставьте имя исторического деятеля.

«А как пришел Глеб в Смоленск, отошел от Смоленска недалеко и стал на Смядыни, в ладе. А в это время пришла весть от Предславы к Ярославу о смерти отца. И Ярослав прислал к Глебу, говоря: «Не ходи, брат. Отец твой умер, а брат твой убит (кем?) ( Василь )».

Максимальное количество баллов – 8.

Члены жюри:





ИИ - 07-09

**Задание 4.** По какому принципу образован ряд. Дайте максимально точный ответ.

4.1. Ольгерд, Витовт, Ягайло, Гедимин, Свидригайло.

Божества эзические

4.2. «Повесть о разорении Рязани Батыем», «Сказание о мамаевом побоище», «Задонщина», «Повесть о битве на Калке», «Слово о погибели Русской земли».

Летопись о событиях и боях.

4.3. госпитальеры, тамплиеры, тевтонцы, меченосцы.

Как называли людей, входящие в ор какой-либо орд  
(Тевтонский орден-тевтонцы)

Максимальное количество баллов – 9.

**Задание 5.** Ознакомьтесь с фрагментом древнерусского сочинения (жития) и ответьте на вопросы.



«...Услышав о такой доблести князя Александра, король страны Римской из Полуночной земли подумал про себя: «Пойду и завоюю землю Александрову». И собрал силу великую, и наполнил многие корабли полками своими, двинулся с огромной силой, пыхая духом ратным. И пришел в Неву, опьяненный безумием, и отправил послов своих, возгордившись, в [пропущено название города] к князю Александру, говоря: «Если можешь, защищайся, ибо я уже здесь и разоряю землю твою».

Укажите год, когда произошли описанные события: \_\_\_\_\_

Укажите современное название государства, которым правил «король страны Римской из Полуночной земли», упоминаемый в приведенном фрагменте

Италия

В какой город отправил своих послов упоминаемый в приведенном фрагменте король? в Новгород Киев

Назовите битву, которая произошла в результате описанных событий:

Битва на р.Калке

Изучите изображение и определите, относится ли оно к событиям, о которых идет речь в приведенном фрагменте. Приведите два факта в подтверждение своей точки зрения:

Относится/не относится относится

1. \_\_\_\_\_

2. \_\_\_\_\_

Члены жюри:

[Подписи]

ИИ - 07-89



Максимальное количество баллов - 12.

**Задание 6.** Определите пропущенные в тексте слова, обозначенные порядковыми номерами. Необходимые вставки впишите под соответствующими номерами в помещённую ниже таблицу.

5

Ярослав Мудрый был сыном великого князя Киевского (1 – имя правителя). В 1015—1019 годах он вел борьбу за киевский престол со Святополком (2 – прозвище князя). После победы над Святополком Ярослав разделил по Днепру государство с братом (3 – имя князя) и только после смерти последнего вновь смог объединить русские земли. Ярослав проводил активную внешнюю политику. В 1036 году он разгромил под Киевом (4 – название народа). В память об этой победе в Киеве был заложен (5 – название сооружения). В 1043 году состоялся последний крупный поход против (6 – название государства). Ярославу Мудрому приписывают составление древнейшей части первого письменного свода законов – (7 – название свода законов). В годы его правления возник (8 – название) монастырь. Киевским (9 – церковный сан) был избран монах Илларион. Ярослав установил династические связи со многими государствами Европы. Его дочь Анна стала женой короля (10 – название государства). Надпись на стене храма, в котором Ярослав похоронен, именуется его (11 – название титула).

1	Владимира	7	Прага Ярослава
2	Великий	8	Василийский
3	Василь	9	папой /отцу/ батюшка
4	печенег	10	Венгрии
5		11	Мудрый
6	Прага Ярослава		

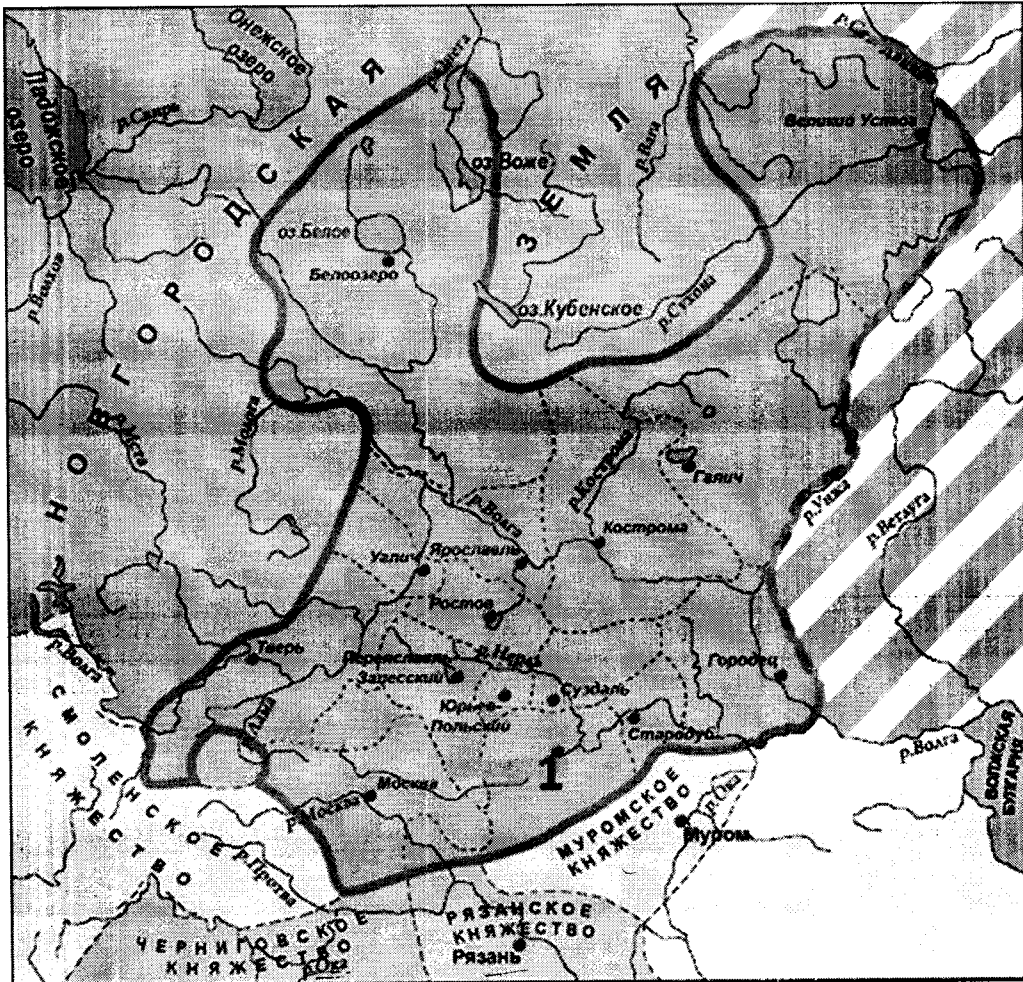
Максимальное количество баллов - 11.

Члены жюри:

10

№ - 07-09

Задание 7. Изучите карту-схему, на которой изображены древнерусские земли и княжества начала XIII века, и ответьте на предложенные вопросы.



Назовите княжество, границы которого на карте-схеме обозначены сплошной линией

Муромское княжество Владимиро-Суздальское +

Назовите город-столицу княжества, обозначенный на карте цифрой 1

Муром Владимир +

Назовите князя, который считается основателем данного княжества

Князь Владимир (Мономах ?)

Выберите три события отечественной истории XII – XIV вв., которые произошли на территории данного княжества. Запишите в таблицу порядковые номера соответствующих событий.

- 1) Битва на реке Калка
- 2) Строительство храма Покрова на Нерли
- 3) Куликовская битва
- 4) Битва на реке Сить
- 5) Ледовое побоище

Члены жюри:

*[Handwritten signatures]*

1205 - 07-09

6) Строительство Золотых ворот во Владимире

7) Битва на реке Воже

246

Максимальное количество баллов – 12.

**Задание 8.** Установите соответствие между деятелями науки и изобретателями, а также их открытиями и изобретениями

4

	Исторические деятели		Изобретение и открытия
1	Бартоломеу Диаш	А	Гелиоцентрическая система мира
2	Иоганн Гуттенберг	Б	Законы движения планет
3	Ибн Сина (Авиценна)	В	Книгопечатание с помощью подвижных литер
4	Николай Коперник	Г	Открытие мыса Доброй надежды для европейского мира
5	Иоганн Кеплер	Д	Описание симптомов холеры, чумы, проказы

1	2	3	4	5
Г	Д	Б	А	В

Максимальное количество баллов – 10.

0

**Задание 9.** Расположите по времени создания памятники древнерусского зодчества.

Внесите буквенные обозначения в хронологическом порядке в приведенную таблицу.

А) Собор Василия Блаженного в Москве

Б) Собор Святой Софии в Новгороде

В) Колокольня Ивана Великого в Московском Кремле

Г) Грановитая палата в Московском Кремле

Д) Десятинная церковь в Киеве


Д	Б	А	В	Г
---	---	---	---	---

Максимальное количество баллов – 6.

**Задание 10.** На о. Канта в Калининграде расположен памятник, посвященный одному из известных европейских политических деятелей XVI века.

2

Члены жюри:



№5 - 07-09

Внимательно изучите изображение памятника и ответьте на вопросы.



Назовите исторического деятеля, которому возведен данный памятник

Выберете из списка три положения, которые относятся к данному историческому деятелю. Запишите в таблицу порядковые номера соответствующих положений.

- 1) Основатель Кенигсберга
- 2) Основатель герцогства Пруссия
- 3) Основатель государства Тевтонского ордена в Пруссии
- 4) Основатель Кенигсбергского университета
- 5) Последний великий магистр Тевтонского Ордена в Пруссии
- 6) Союзник Дмитрия Донского в Куликовской битве

125

Назовите известный архитектурный памятник XIV века г. Калининграда, рядом с которым находится указанный памятник историческому деятелю

Максимальное количество баллов – 8.

Члены жюри:

**БЛАНК ЗАДАНИЙ**

**муниципального этапа всероссийской олимпиады школьников**

**по ИСТОРИИ**

**2021/2022 учебный год**

**7 класс**

**Общее время выполнения работы – 90 минут.  
Максимальное количество баллов – 100.**

12

**Задание 1.** Выберите один правильный ответ. Ответ внесите в таблицу.

1.1. Кто был правителем Московского государства в то время, когда состоялась первая морская экспедиция Христофора Колумба?

- А) Дмитрий Донской
- Б) Василий II Темный
- В) Иван III Великий
- Г) Василий III

1.2. В каком году произошли описанные в древнерусском сочинении события?

«Хочу вам, братья, поведать о брани недавней войны, как случилась битва на Дону великого князя Дмитрия Ивановича и всех православных христиан с поганым Мамаем и с безбожными агарянами».

- А) 1223
- Б) 1238
- В) 1380
- Г) 1395
- Д) 1480

1.3. Монгольская империя Чингисхана делилась в административном отношении на:

- А) тумены
- Б) курултаи
- В) нойоны
- Г) улусы

1.4. Даниил Холмский и Даниил Щеня были полководцами в годы правления:

- А) Ярослава Мудрого
- Б) Александра Невского
- В) Ивана Калиты
- Г) Ивана III Васильевича

1.5. В 1385 году в результате заключения Крѳвской унии великий князь литовский стал королем:

- А) Венгрии
- Б) Швеции
- В) Франции
- Г) Польши

1.6. Кто из древнерусских князей, согласно летописям, повесил щит на воротах Царьграда?

- А) Олег
- Б) Игорь
- В) Святослав
- Г) Владимир Святой

1.1.	1.2	1.3	1.4	1.5	1.6.
В	В	Г	Г	Г	А

**Максимальное количество баллов – 12.**

**Задание 2.** Выберите несколько правильных ответов. Ответы внесите в таблицу.

2

2.1. Какие из указанных событий произошли в годы правления Ивана Калиты?

- А) восстание в Твери 1327 года
- Б) перенос резиденции митрополита из Владимира в Москву
- В) строительство белокаменного Кремля в Москве
- Г) основание Московского княжества

Члены жюри: 



№5-07-12

2.2. Какие из указанных исторических терминов не относятся к истории Древнерусского государства IX – начала XII веков?

А) закуп Б) ярлык на великое княжение В) смерд Г) судебник Д) митрополит

2.3. К жанрам древнерусской литературы X – XIII веков не относятся:

А) житие Б) фреска В) летопись Г) слово Д) хождение Е) миниатюра

2.4. Какие из указанных событий произошли в один и тот же год?

А) первое упоминание Москвы в летописях Б) нашествие Батые на Северо-Восточную Русь

В) Вильгельм Завоеватель становится королем Англии Г) начало второго крестового похода

Д) основание Кенигсберга.

2.1.	2.2.	2.3.	2.4.
A - ✓	A	B - ✓	B A

Максимальное количество баллов – 12.

Задание 3. Изучите фрагменты древнерусских летописей и исторических документов, вставьте пропущенные в тексте слова.

3.1. Вставьте пропущенное название группы народов.

4

«Также эти же ( славяне ), придя, сели по Днепру и назвались полянами, а другие — древлянами, потому что сели в лесах, а другие сели между Припятью и Двиною и назвались дреговичами, иные сели по Двине и назвались полочанами, по речке, впадающей в Двину, именуемой Полота, от нее и прозвались полочане».

3.2. Вставьте имя и отчество правителя Московского государства.

«Лета 7006-го месяца септември уложил князь великий ( Ярослав Мудрый ) всея Руси с детми своими и с бояры о суде как судити бояром и околничим...»

3.3. Вставьте имя исторического деятеля.

«В год 6745 (1237). Пришел на Русскую землю безбожный царь ( Батый ) со множеством воинов татарских и стал на реке на Воронеже близ земли Рязанской».

3.4. Вставьте имя исторического деятеля.

«А как пришел Глеб в Смоленск, отошел от Смоленска недалеко и стал на Смядыни, в ладье. А в это время пришла весть от Предславы к Ярославу о смерти отца. И Ярослав прислал к Глебу, говоря: «Не ходи, брат. Отец твой умер, а брат твой убит ( кем? )».

Максимальное количество баллов – 8.

Члены жюри:

3

ИИФ - 07 - 12

**Задание 4.** По какому принципу образован ряд. Дайте максимально точный ответ.

4.1. Ольгерд, Витовт, Ягайло, Гедимин, Свидригайло.

Это король Дочь Польши.

4.2. «Повесть о разорении Рязани Батыем», «Сказание о мамаевом побоище», «Задонщина», «Повесть о битве на Калке», «Слово о погибели Русской земли».

Летопись о Нашествии татар на Русь и борьбе с ними.

4.3. госпитальеры, тамплиеры, тевтонцы, меченосцы.

Крестоносцы рыцарей

Максимальное количество баллов – 9.

**Задание 5.** Ознакомьтесь с фрагментом древнерусского сочинения (жития) и ответьте на вопросы.

0

«...Услышав о такой доблести князя Александра, король страны Римской из Полуночной земли подумал про себя: «Пойду и завоюю землю Александрову». И собрал силу великую, и наполнил многие корабли полками своими, двинулся с огромной силой, пыхая духом ратным. И пришел в Неву, опьяненный безумием, и отправил послов своих, возгордившись, в [пропущено название города] к князю Александру, говоря: «Если можешь, защищайся, ибо я уже здесь и разорю землю твою».

Укажите год, когда произошли описанные события: 1242 г.

Укажите современное название государства, которым правил «король страны Римской из Полуночной земли», упоминаемый в приведенном фрагменте Вармланд, Чехия.

В какой город отправил своих послов упоминаемый в приведенном фрагменте король? Новгород

Назовите битву, которая произошла в результате описанных событий:

Ледовое побоище

Изучите изображение и определите, относится ли оно к событиям, о которых идет речь в приведенном фрагменте. Приведите два факта в подтверждение своей точки зрения:

Относится  не относится

- В тексте говорится об Александре Невском, он является князем который свел в битву полк в датском графстве.
- 

Члены жюри:

[Подписи]

№ - 07-12



Максимальное количество баллов - 12.

**Задание 6.** Определите пропущенные в тексте слова, обозначенные порядковыми номерами. Необходимые вставки впишите под соответствующими номерами в помещённую ниже таблицу.

3

Ярослав Мудрый был сыном великого князя Киевского (1 – имя правителя). В 1015—1019 годах он вел борьбу за киевский престол со Святополком (2 – прозвище князя). После победы над Святополком Ярослав разделил по Днепру государство с братом (3 – имя князя) и только после смерти последнего вновь смог объединить русские земли. Ярослав проводил активную внешнюю политику. В 1036 году он разгромил под Киевом (4 – название народа). В память об этой победе в Киеве был заложен (5 – название сооружения). В 1043 году состоялся последний крупный поход против (6 – название государства). Ярославу Мудрому приписывают составление древнейшей части первого письменного свода законов – (7 – название свода законов). В годы его правления возник (8 – название) монастырь. Киевским (9 – церковный сан) был избран монах Илларион. Ярослав установил династические связи со многими государствами Европы. Его дочь Анна стала женой короля (10 – название государства). Надпись на стене храма, в котором Ярослав похоронен, именует его (11 – название титула).

1	Свят Владимир	7	„Русская Правда“
2	_____	8	_____
3	_____	9	Митрополит
4	Половцы	10	Польща
5	_____	11	Мудрый
6	_____		

Максимальное количество баллов – 11.

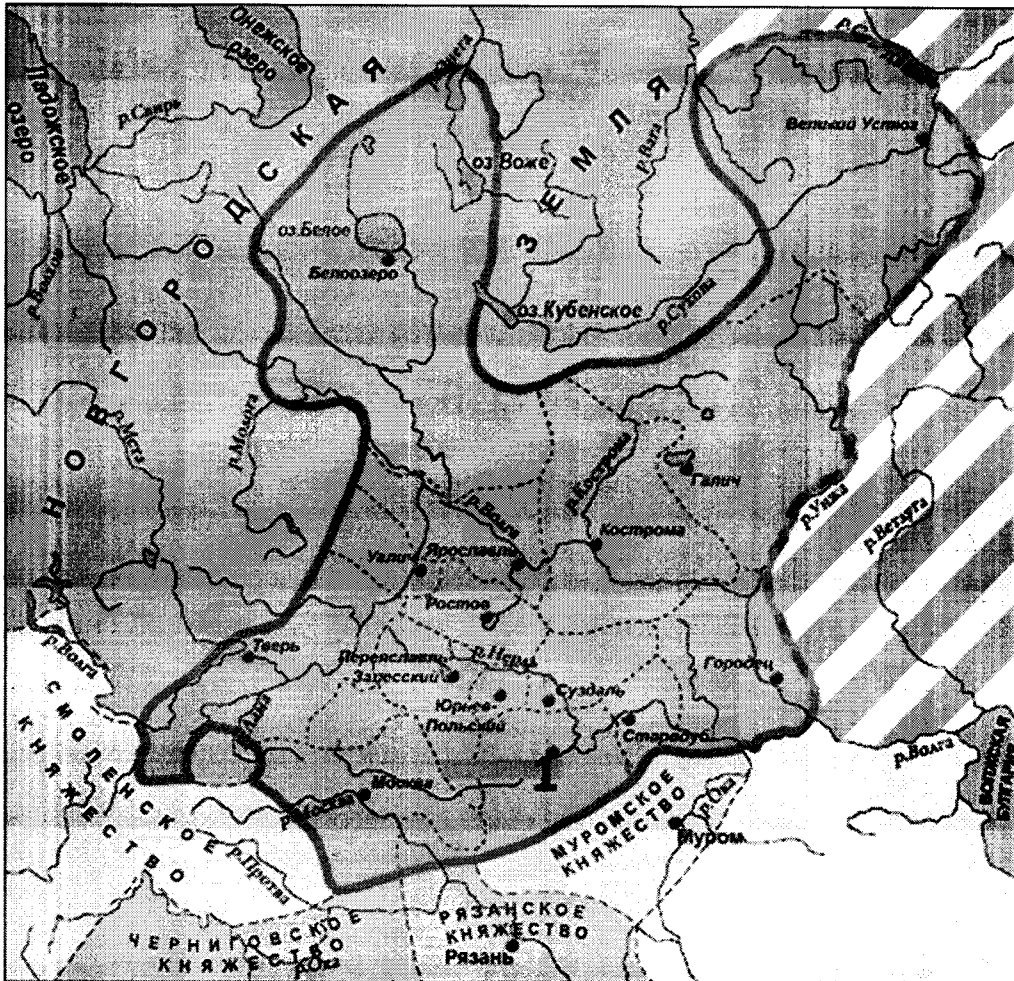
Члены жюри:

6

Исправлено мной

№05 - 07-12

**Задание 7.** Изучите карту-схему, на которой изображены древнерусские земли и княжества начала XIII века, и ответьте на предложенные вопросы.



Назовите княжество, границы которого на карте-схеме обозначены сплошной линией

Владимиро-Суздальское княжество ✓✓

Назовите город-столицу княжества, обозначенный на карте цифрой 1

Владимир ✓✓

Назовите князя, который считается основателем данного княжества

Святослав

Выберите три события отечественной истории XII – XIV вв., которые произошли на территории данного княжества. Запишите в таблицу порядковые номера соответствующих событий.

- 1) Битва на реке Калка
- 2) Строительство храма Покрова на Нерли
- 3) Куликовская битва
- 4) Битва на реке Сить
- 5) Ледовое побоище

Члены жюри:

*[Handwritten signatures]*

№ - 07-12

6) Строительство Золотых ворот во Владимире

7) Битва на реке Воже

1 3 6

Максимальное количество баллов – 12.

Задание 8. Установите соответствие между деятелями науки и изобретателями, а также их открытиями и изобретениями

4

	Исторические деятели		Изобретение и открытия
1	Бартоломеу Диаш	А	Гелиоцентрическая система мира
2	Иоганн Гуттенберг	Б	Законы движения планет
3	Ибн Сина (Авиценна)	В	Книгопечатание с помощью подвижных литер
4	Николай Коперник	Г	Открытие мыса Доброй надежды для европейского мира
5	Иоганн Кеплер	Д	Описание симптомов холеры, чумы, проказы

1	2	3	4	5
Г	В	А	Б	Д

Максимальное количество баллов – 10.

0

Задание 9. Расположите по времени создания памятники древнерусского зодчества.

Внесите буквенные обозначения в хронологическом порядке в приведенную таблицу.

- А) Собор Василия Блаженного в Москве
- Б) Собор Святой Софии в Новгороде
- В) Колокольня Ивана Великого в Московском Кремле
- Г) Грановитая палата в Московском Кремле
- Д) Десятинная церковь в Киеве

Д	Б	В	А	Г
---	---	---	---	---

Максимальное количество баллов – 6.

Задание 10. На о. Канта в Калининграде расположен памятник, посвященный одному из известных европейских политических деятелей XVI века.

Члены жюри: [подписи]

1

Внимательно изучите изображение памятника и ответьте на вопросы.



Назовите исторического деятеля, которому возведен данный памятник

Выберете из списка три положения, которые относятся к данному историческому деятелю. Запишите в таблицу порядковые номера соответствующих положений.

- 1) Основатель Кенигсберга
- 2) Основатель герцогства Пруссия
- 3) Основатель государства Тевтонского ордена в Пруссии
- 4) Основатель Кенигсбергского университета
- 5) Последний великий магистр Тевтонского Ордена в Пруссии
- 6) Союзник Дмитрия Донского в Куликовской битве

<span style="font-size: 2em;">1</span> <span style="font-size: 2em;">3</span> <span style="font-size: 2em;">5</span> ✓
--

Назовите известный архитектурный памятник XIV века г. Калининграда, рядом с которым находится указанный памятник историческому деятелю

Максимальное количество баллов – 8.

Члены жюри:

105 - 07 - 27

## БЛАНК ЗАДАНИЙ

муниципального этапа всероссийской олимпиады школьников

по ИСТОРИИ

2021/2022 учебный год

7 класс

33

Общее время выполнения работы – 90 минут.  
Максимальное количество баллов – 100.

6

Задание 1. Выберите один правильный ответ. Ответ внесите в таблицу.

1.1. Кто был правителем Московского государства в то время, когда состоялась первая морская экспедиция Христофора Колумба?

А) Дмитрий Донской Б) Василий II Темный В) Иван III Великий Г) Василий III

1.2. В каком году произошли описанные в древнерусском сочинении события?

«Хочу вам, братья, поведать о брани недавней войны, как случилась битва на Дону великого князя Дмитрия Ивановича и всех православных христиан с поганым Мамаем и с безбожными агарянами». А) 1223 Б) 1238 В) 1380 Г) 1395 Д) 1480

1.3. Монгольская империя Чингисхана делилась в административном отношении на:

А) тумены Б) курултаи В) нойоны Г) улусы

1.4. Даниил Холмский и Даниил Щеня были полководцами в годы правления:

А) Ярослава Мудрого Б) Александра Невского В) Ивана Калиты Г) Ивана III Васильевича

1.5. В 1385 году в результате заключения Кревской унии великий князь литовский стал королем: А) Венгрии Б) Швеции В) Франции Г) Польши

1.6. Кто из древнерусских князей, согласно летописям, повесил щит на воротах Царьграда?

А) Олег Б) Игорь В) Святослав Г) Владимир Святой

1.1.	1.2	1.3	1.4	1.5	1.6.
<del>А</del>	<del>Б</del>	Г VV	<del>В</del>	Г VV	А VV

Максимальное количество баллов – 12.

Задание 2. Выберите несколько правильных ответов. Ответы внесите в таблицу.

4

2.1. Какие из указанных событий произошли в годы правления Ивана Калиты?

А) восстание в Твери 1327 года Б) перенос резиденции митрополита из Владимира в Москву В) строительство белокаменного Кремля в Москве Г) основание Московского княжества

Члены жюри:

№ 07-27

2.2. Какие из указанных исторических терминов не относятся к истории Древнерусского государства IX – начала XII веков?

- А) закуп Б) ярлык на великое княжение В) смерд Г) судебник Д) митрополит

2.3. К жанрам древнерусской литературы X – XIII веков не относятся:

- А) житие Б) фреска В) летопись Г) слово Д) хождение Е) миниатюра

2.4. Какие из указанных событий произошли в один и тот же год?

- А) первое упоминание Москвы в летописях Б) нашествие Батые на Северо-Восточную Русь  
В) Вильгельм Завоеватель становится королем Англии Г) начало второго крестового похода  
Д) основание Кенигсберга.

2.1.	2.2.	2.3.	2.4.
✓ Б В	✓ Г Ж	Х Е В	✓ А В

Максимальное количество баллов – 12.

**Задание 3.** Изучите фрагменты древнерусских летописей и исторических документов, вставьте пропущенные в тексте слова.



3.1. Вставьте пропущенное название группы народов.

«Также эти же (крестьяне), придя, сели по Днепру и назвались полянами, а другие — древлянами, потому что сели в лесах, а другие сели между Припятью и Двиною и назвались дреговичами, иные сели по Двине и назвались полочанами, по речке, впадающей в Двину, именуемой Полота, от нее и прозвались полочане».

3.2. Вставьте имя и отчество правителя Московского государства.

«Лета 7006-го месяца септемвриа уложил князь великий (Иван Данилович) всея Руси с детми своими и с бояры о суде как судити бояром и околничим...»

3.3. Вставьте имя исторического деятеля.

«В год 6745 (1237). Пришел на Русскую землю безбожный царь (Мингаи) со множеством воинов татарских и стал на реке на Воронеже близ земли Рязанской».

3.4. Вставьте имя исторического деятеля.

«А как пришел Глеб в Смоленск, отошел от Смоленска недалеко и стал на Смядыни, в ладье. А в это время пришла весть от Предславы к Ярославу о смерти отца. И Ярослав прислал к

Члены жюри:



№ 07-27

Глебу, говоря: «Не ходи, брат. Отец твой умер, а брат твой убит (кем?)  
(\_\_\_\_\_ )».

Максимальное количество баллов – 8.

Задание 4. По какому принципу образован ряд. Дайте максимально точный ответ.

3

4.1. Ольгерд, Витовт, Ягайло, Гедимин, Свидригайло.

Митовские князья VVV

4.2. «Повесть о разорении Рязани Батыем», «Сказание о мамаевом побоище», «Задонщина»,  
«Повесть о битве на Калке», «Слово о погибели Русской земли».

Платье мамоевское побоище

4.3. госпитальеры, тамплиеры, тевтонцы, меченосцы.

Византии

Максимальное количество баллов – 9.

Задание 5. Ознакомьтесь с фрагментом древнерусского сочинения (жития) и  
ответьте на вопросы.

10

«...Услышав о такой доблести князя Александра, король страны Римской из  
Полуночной земли подумал про себя: «Пойду и завоюю землю Александрову». И собрал  
силу великую, и наполнил многие корабли полками своими, двинулся с огромной силой,  
пылая духом ратным. И пришел в Неву, опьяненный безумием, и отправил послов своих,  
возгордившись, в [пропущено название города] к князю Александру, говоря: «Если можешь,  
защищайся, ибо я уже здесь и разорю землю твою».

Укажите год, когда произошли описанные события: 1238<sup>40</sup> VII

Укажите современное название государства, которым правил «король страны  
Римской из Полуночной земли», упоминаемый в приведенном фрагменте

Чехия

В какой город отправил своих послов упоминаемый в приведенном фрагменте  
король? Новгород V

Назовите битву, которая произошла в результате описанных событий:

Невская битва VV

Изучите изображение и определите, относится ли оно к событиям, о которых идет  
речь в приведенном фрагменте. Приведите два факта в подтверждение своей точки зрения:

Относится (не относится) \* В тексте один корабль, а на картине  
кораблей много не только у врагов (норманов),  
в тексте описан Новгородский город, а на

Члены жюри:

[Подписи] Колетинский  
Левченко

№ 07-27

1. В тексте были караваны на реке, а на изображении "Мудрый"  
озера.
2. На изображении рыцари крестоносцы, а в тексте обычные  
воины.



Максимальное количество баллов - 12.

Задание 6. Определите пропущенные в тексте слова, обозначенные порядковыми номерами. Необходимые вставки впишите под соответствующими номерами в помещённую ниже таблицу.

1
---

Ярослав Мудрый был сыном великого князя Киевского (1 – имя правителя). В 1015—1019 годах он вел борьбу за киевский престол со Святополком (2 – прозвище князя). После победы над Святополком Ярослав разделил по Днепру государство с братом (3 – имя князя) и только после смерти последнего вновь смог объединить русские земли. Ярослав проводил активную внешнюю политику. В 1036 году он разгромил под Киевом (4 – название народа). В память об этой победе в Киеве был заложен (5 – название сооружения). В 1043 году состоялся последний крупный поход против (6 – название государства). Ярославу Мудрому приписывают составление древнейшей части первого письменного свода законов – (7 – название свода законов). В годы его правления возник (8 – название) монастырь. Киевским (9 – церковный сан) был избран монах Илларион. Ярослав установил династические связи со многими государствами Европы. Его дочь Анна стала женой короля (10 – название государства). Надпись на стене храма, в котором Ярослав похоронен, именуется его (11 – название титула).

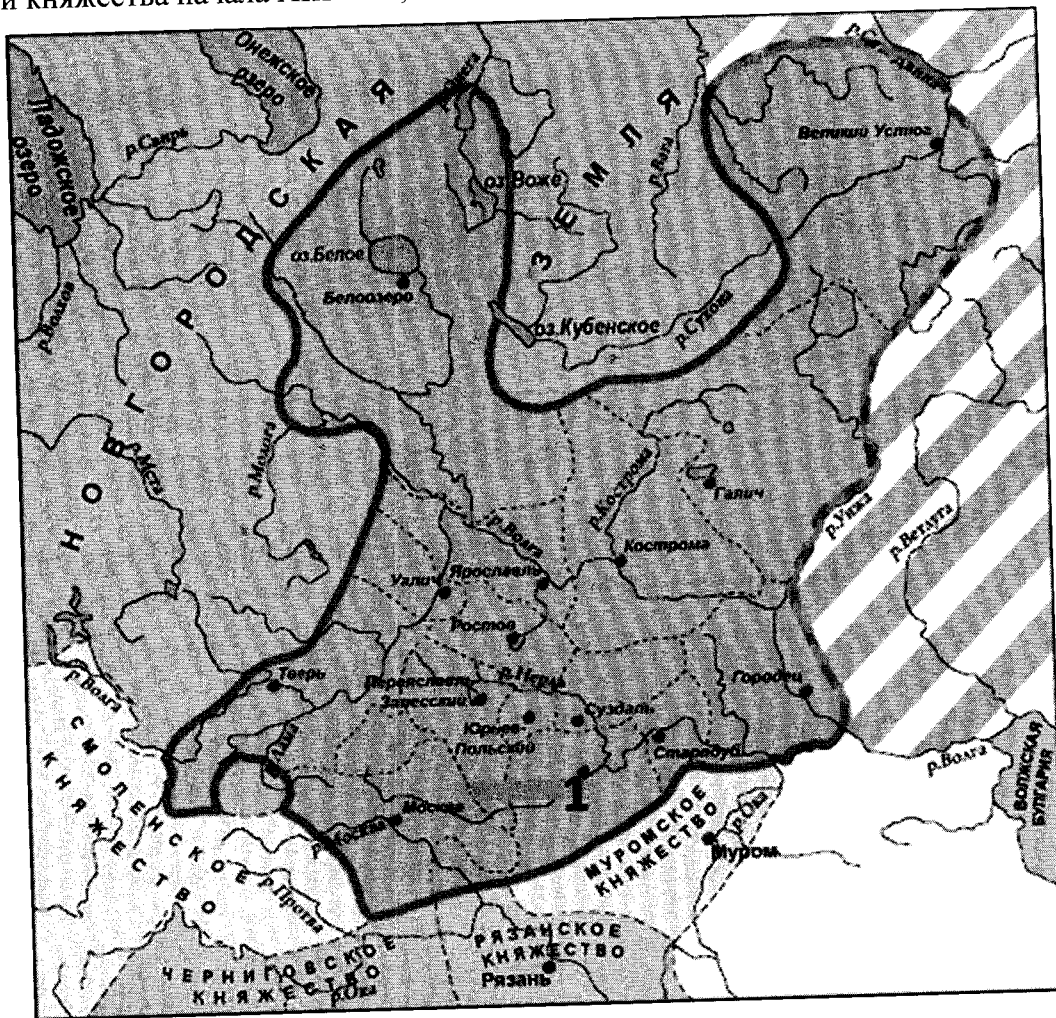
Члены жюри:

1	<i>Владимир Красно Солнышко</i>	7	<i>Битва</i>
2	<del>_____</del>	8	<del>_____</del>
3	<del>_____</del>	9	<del>_____</del>
4	<i>Новгород</i>	10	<i>Митровская грамота</i>
5	<i>Монументы</i>	11	<i>Свяжины</i>
6	<i>Помини</i>		

Максимальное количество баллов – 11.

Задание 7. Изучите карту-схему, на которой изображены древнерусские земли и княжества начала XIII века, и ответьте на предложенные вопросы.

2



Назовите княжество, границы которого на карте-схеме обозначены сплошной линией

*Русь*

Назовите город-столицу княжества, обозначенный на карте цифрой 1

*Киев*

Назовите князя, который считается основателем данного княжества

*Владимир Красно Солнышко*

Члены жюри:

*[Handwritten signatures]*

1885 - 07 - 27

Выберите три события отечественной истории XII – XIV вв., которые произошли на территории данного княжества. Запишите в таблицу порядковые номера соответствующих событий.

- 1) Битва на реке Калка
- 2) Строительство храма Покрова на Нерли
- 3) Куликовская битва
- 4) Битва на реке Сить
- 5) Ледовое побоище
- 6) Строительство Золотых ворот во Владимире
- 7) Битва на реке Воже

1886 vv  
**Максимальное количество баллов – 12.**

**Задание 8.** Установите соответствие между деятелями науки и изобретателями, а также их открытиями и изобретениями

4

	Исторические деятели		Изобретение и открытия
1	Бартоломеу Диаш	А	Гелиоцентрическая система мира
2	Иоганн Гуттенберг	Б	Законы движения планет
3	Ибн Сина (Авиценна)	В	Книгопечатание с помощью подвижных литер
4	Николай Коперник	Г	Открытие мыса Доброй надежды для европейского мира
5	Иоганн Кеплер	Д	Описание симптомов холеры, чумы, проказы

	1	2	3	4	5
✓	Г	<del>А</del>	Д vv	<del>Б</del>	<del>В</del>

**Максимальное количество баллов – 10.**

0

**Задание 9.** Расположите по времени создания памятники древнерусского зодчества.

Внесите буквенные обозначения в хронологическом порядке в приведенную таблицу.

- А) Собор Василия Блаженного в Москве
- Б) Собор Святой Софии в Новгороде
- В) Колокольня Ивана Великого в Московском Кремле

Члены жюри:

*[Handwritten signatures]*

Код/шифр участника

125 - 07 - 27

Г) Грановитая палата в Московском Кремле

Д) Десятинная церковь в Киеве

<del>В</del>	<del>А</del>	<del>Б</del>	<del>Г</del>	<del>Д</del>
--------------	--------------	--------------	--------------	--------------

Максимальное количество баллов – 6.

**Задание 10.** На о. Канта в Калининграде расположен памятник, посвященный одному из известных европейских политических деятелей XVI века.

Внимательно изучите изображение памятника и ответьте на вопросы.

3



Назовите исторического деятеля, которому возведен данный памятник

Канта

Выберете из списка три положения, которые относятся к данному историческому деятелю. Запишите в таблицу порядковые номера соответствующих положений.

- 1) Основатель Кенигсберга
- 2) Основатель герцогства Пруссия
- 3) Основатель государства Тевтонского ордена в Пруссии
- 4) Основатель Кенигсбергского университета
- 5) Последний великий магистр Тевтонского Ордена в Пруссии
- 6) Союзник Дмитрия Донского в Куликовской битве

<del>1</del> <del>2</del> <del>4</del>
--

Члены жюри:

*[Handwritten signatures]*

№ 07-27

Назовите известный архитектурный памятник XIV века г. Калининграда, рядом с которым находится указанный памятник историческому деятелю

Кёнигсбергский собор ВВ

Максимальное количество баллов – 8.

Члены жюри:

В.И. Ветров С